

10. Каким может быть рост ученицы 4 класса?




А 1 м 95 см

В 95 см

Б 2 м 45 см

Г 1 м 39 см

Г – 1 м 39 см



10. Каким может быть рост ученика 4 класса?

А 80 см

В 1 м 56 см

Б 1 м 98 см

Г 2 м 40 см

В

10. Каким может быть рост ученика 4 класса?

А 1 м 99 см

В 2 м 30 см

Б 90 см

Г 1 м 51 см

Г

10. Каким может быть рост ученицы 4 класса?

А 85 см

В 2 м 19 см

Б 1 м 48 см

Г 1 м 93 см

Б

11. Сравни 1 ч 10 мин и 80 мин.

А 1 ч 10 мин > 80 мин

Б 1 ч 10 мин < 80 мин

В 1 ч 10 мин = 80 мин

Б - <

1 час = 60 мин + 10 мин = 70

70 < 80

11. Сравни 1 ч 50 мин и 120 мин.

А 1 ч 50 мин < 120 мин

Б 1 ч 50 мин > 120 мин

В 1 ч 50 мин = 120 мин

А

11. Сравни 120 мин и 1 ч 40 мин.

А 120 мин < 1 ч 40 мин

Б 120 мин > 1 ч 40 мин

В 120 мин = 140 мин

Б

11. Сравни 90 мин и 1 ч 20 мин.

А 90 мин < 1 ч 20 мин

Б 90 мин = 120 мин

В 90 мин > 1 ч 20 мин

В

13 Выполни действие письменно

$$\begin{array}{r} 518 \\ \times 63 \\ \hline 1554 \\ + 3108 \\ \hline 32634 \end{array}$$



$$\begin{array}{r} 415 \\ \times 82 \\ \hline \end{array}$$

$$\begin{array}{r} 516 \\ \times 74 \\ \hline \end{array}$$

$$\begin{array}{r} 516 \\ \times 93 \\ \hline \end{array}$$

34030

38184

47988

14 Выполни действие письменно

$$\begin{array}{r} 7497 \quad | \quad 8 \\ \hline \bullet \bullet \bullet \\ 72 \quad 9 \quad 3 \quad 7 \quad \text{ост } 1 \\ \hline 29 \\ 24 \\ 57 \\ 56 \\ \hline 1 \end{array}$$



5659:6

8237:9

6246:7

943

915

892

oct1

oct2

oct2

Молодцы!!!

