

Сложение и вычитание двузначных чисел

A decorative graphic element consisting of a solid teal horizontal bar, followed by a white horizontal bar, and then three thin, parallel white lines.

Устный счёт

$5+9$

$41-2$

$13-7$

$7+9$

$6+8$

$21-3$

$15-8$

$48+3$

$34-10$

$8+7$

$17-9$

$36-10$

Урок математики во 2 классе

XXII Олимпийские игры в Сочи 2014



7 февраля-23 февраля 2014 года

Виды спорта на Олимпиаде в Сочи

- Лыжный спорт: горнолыжный спорт, лыжное двоеборье, лыжные гонки, прыжки на лыжах с трамплина, сноубординг, фристайл



- Биатлон



- Бобслей



- Конькобежный спорт: конькобежный спорт, фигурное катание, шорт-трек



- Саннный спорт



- Хоккей с шайбой



Кёрлинг



Скелетон



Вспомните, как мы учились складывать
и вычитать числа в примерах
 $26+2$, $26+10$, $26-2$, $26-10$?

При сложении чисел единицы складывают с
единицами, а десятки с десятками.

$$26+2=28$$

$$26+10=36$$

При вычитании из единиц вычитают единицы,
а из десятков десятки.

$$26-2=24$$

$$26-10=16$$

Скоростной спуск на лыжах. Мы с вами в горах. Нам
нужно спустится вниз. Приготовили сноуборды.
Съезжаем !!!

2 д. 5 ед. =

7 д. 4 ед. =

5 д. 8 ед. =

3 д. 6 ед. =

Сумма чисел 83 и 5

Увеличь 54 на 30

Разность чисел 28 и 4

Уменьши 27 на 20



25

74

58

36

88

84

24

7

Минутка чистописания

22 22 22

№3 (СТР. 49)

$$29-8=21$$

$$20+1=21$$

$$11+10=21$$

$$61-40=21$$

$$46+2$$

$$46-2$$

$$53+4$$

$$68-7$$

$$30+12$$

$$80-60$$

$$62+5$$

$$37-30$$

48 44

57 61

42 20

67 7

Прочитайте выражения

$$92 - (\underbrace{30 - 20}) = 82$$






10

$$70 - (\underbrace{6 + 4}) = 60$$

10

Физминутка

Представим себе, что мы биатлонисты. Для этого сначала подвигаем руками, так как будто мы идем на лыжах, а потом постараемся поразить глазам все пять мишеней на экране



Решение задач

Талисманы Сочи-2014



Зайка- участница
различных спортивных
соревнований



Белый мишка - бобслеист



Горный спасатель-
альпинист Леопард

Задача 8 (стр. 50)

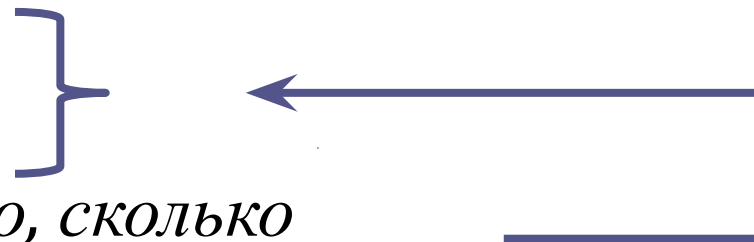
Маша-30 н.

Оля-20 н.

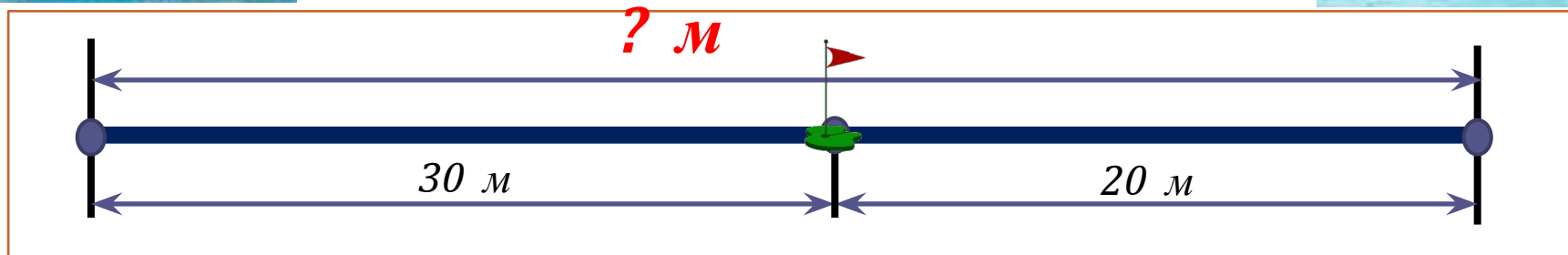
Аня- ?, столько, сколько

$$30+20= 50 \text{ (н.)}$$

Ответ: 50 наклеек.



Задача 10 (стр.51)








$$30+20=50(\text{м})$$


Ответ: 50 метров.

Физминутка











Ежедневно
БУДЬТЕ
делайте зарядку
для глаз от 2 до 5!
ЗДОРОВЬЕ!



Объекты Олимпиады

Олимпийская стадион



Горнолыжный комплекс Роза Хутор.

В его состав входят горнолыжные комплексы, трамплины, санно-бобслейная трасса, фристайл центр и сноуборд парк.



Большой ледовый дворец в Олимпийском парке в Сочи.



Олимпийская деревня




Задача



- За каждый из 3 столиков сели по 4 спортсмена. Сколько всего спортсменов сидят за столиками?
- 20 спортсменов сели за столики по 5 человек. Сколько столов они заняли?

$$4 \cdot 3 = 12 \text{ (с.)}$$

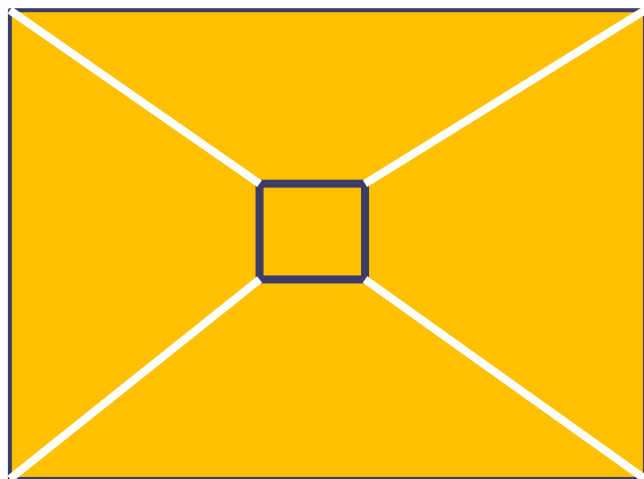
$$20 : 5 = 4 \text{ (с.)}$$



Вперёд, к победе!




Сколько четырёхугольников на рисунке?
Выбери правильный ответ.



4, 5, 6

2,3,4



2,3,4

МОЛОДЦЫ !!!