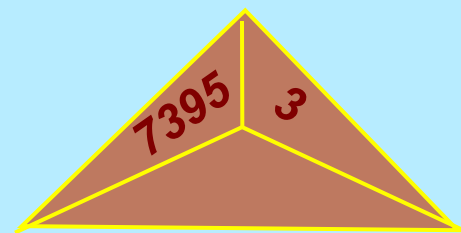
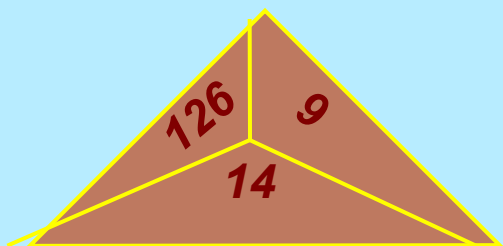
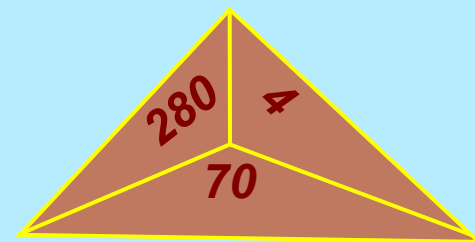
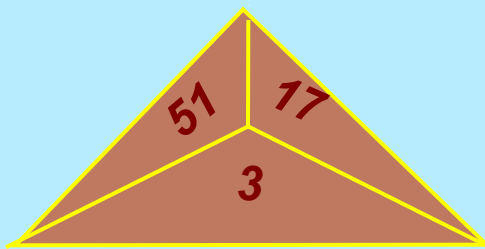
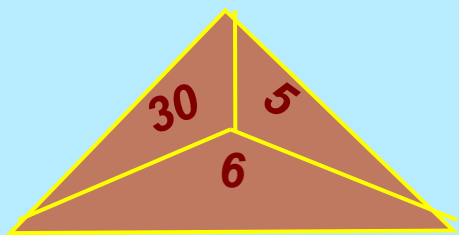


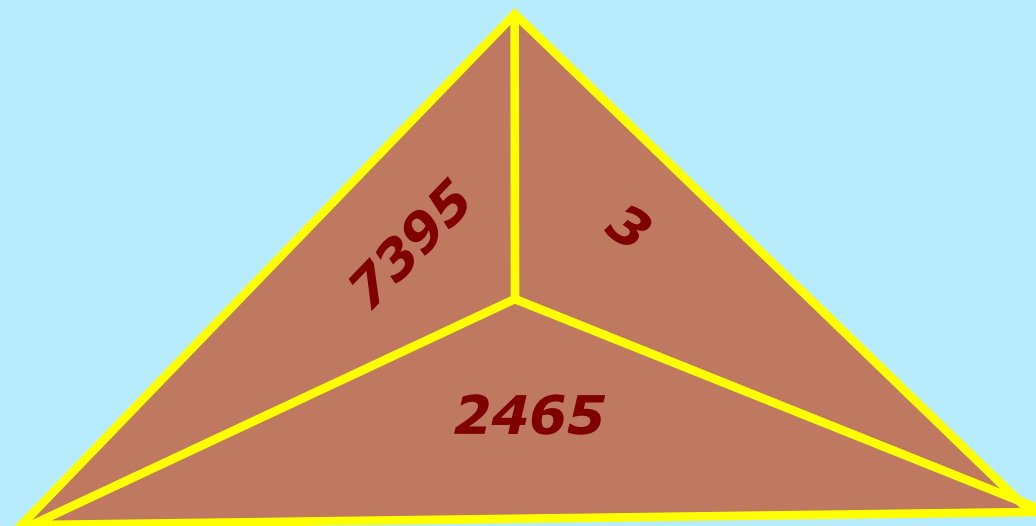
Бодан !



Тема: *Хөй оранныг санны чангыс оранныг санга улээриниң бижимел аргазы*

Сорулгазы: *Хөй оранныг санны чангыс оранныг санга улээриниң бижимел аргазын өөренир.*

Айтырыгны бодап тып?



Үлелгениң бижимел аргазы

- 1. Бир дугаарын ылгап аары** **Ол бирги долу эвес улеттиниг**
- 2. Онаашкынның бижилгези** **чурагай**
- 3. Көвудедир, каш болганын** **үлээн бис.**
тывар
- 4. Казыпкаш, тывары** **артканы**
- 5. Артканын деңнээри** **үлекчи-биле**

Бот ажыл

$$**A) 8984:8=**$$

$$**Б) 852:3=**$$

$$**В) 9386:2=**$$

Даалгаларның күүседириниң

чижээ **A**

$$\begin{array}{r|l} 8984 & 8 \\ \hline - 8 & 1123 \\ \hline 9 & \\ - 8 & \\ \hline 18 & \\ - 16 & \\ \hline 24 & \\ - 24 & \\ \hline 0 & \end{array}$$

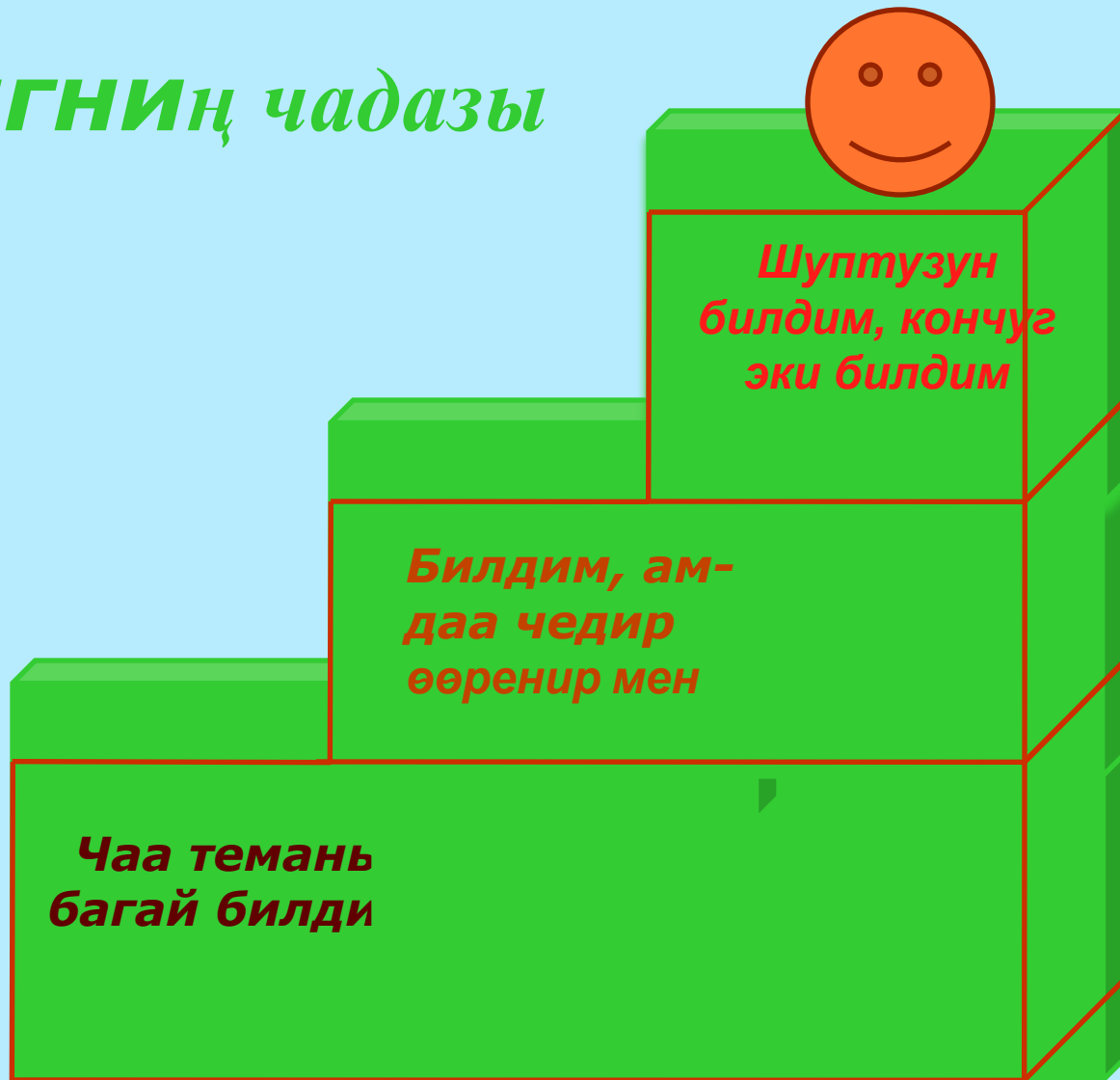
Даалганың күүседириниң чижээ Б

$$\begin{array}{r} 2) \quad 1 \quad 3 \quad | \quad \underline{\hspace{2cm}} \\ \quad \underline{6} \quad \quad | \quad 284 \\ \quad 25 \quad \quad | \\ \quad \underline{24} \quad \quad | \\ \quad \quad 12 \quad \quad | \\ \quad \quad \underline{12} \quad \quad | \\ \quad \quad \quad 0 \end{array}$$

Даалганың күүседириниң чижээ **B**

$$\begin{array}{r} 3) \quad \begin{array}{r} 1 \quad 2 \\ - 8 \\ \hline 13 \\ - 12 \\ \hline 18 \\ - 18 \\ \hline 6 \\ \quad 6 \\ \hline 0 \end{array} \quad \begin{array}{l} | \\ \hline 4693 \end{array} \end{array}$$

Билигнің чадазы



Онаалга:

Ном – ар.85 № 469