

**Математика дәресе. 4 нче сыйныф**

**Тема. Зурлыклар. Километр- озынлык үлчәү берәмлеге.**

Нургалиева Раушания Мирхәтим кызы  
Баулы районы Татар Кандызы урта  
мәктәбе  
башлангыч сыйныф укытучысы

# ”Тапкырлар һәм зирәкләр” уены



Бу нинди әкият?



Шалканны ничә пар күз күргән?



**6 бэрэңге 30 минутта пешэ.**

**Бер бэрэңге ничэ минутта пешэр?**

## Нәтижәне тап

$$370 \times 10 =$$

$$6400 : 100 =$$

$$630 \times 100 =$$

$$81000 : 1000 =$$

$$42050 \times 10 =$$

$$462000 : 100 =$$

$$50010 : 10 =$$

$$8400 \times 10 =$$

# Дореслеген тикшер. Үзбәя.

$$370 \times 10 = 3700$$

$$6400 : 100 = 64$$

$$630 \times 100 = 63000$$

$$81000 : 1000 = 81$$

$$42050 \times 10 = 420500$$

$$462000 : 100 = 4620$$

$$50010 : 10 = 5001$$

$$8400 \times 10 = 84000$$

# Саннарны үсә бару тәртибендә яз

- 1533
- 1433
- 1333
- 1633
- 1733
- 1233



# Саннарны үсэ бару тэртибендэ яз

- 1533

- 1433

- 1333

- 1633

- 1733

- 1233

- 1233

- 1333

- 1433



- 1533

- 1633

- 1733



# Озынлык үлчәү жайланмалары



# Үлчәү берәмлеген тап

Калыңлыгын ничек  
үлчәрбез?



Озынлыгын ничек  
үлчәрбез?



**Тэрэзэ төбөн нинди  
зурлык белэн  
үлчэрбез?**



**Юлны үлчэү өчен  
нинди зурлык  
кулланырбыз?**



# **Бүгүнгө дәресең темасы**

**Зурлыклар. Километр-  
озынлык үлчәү берәмлеге.**

## Исездә калдыр!

- $1\text{ см} = 10\text{ мм}$

- $1\text{ дм} = 100\text{ мм}$


- $1\text{ дм} = 10\text{ см}$

- $1\text{ м} = 100\text{ см}$

- $1\text{ м} = 10\text{ дм}$

- $1\text{ км} = 1000\text{ м}$

# Практик эш



Эш өстөлендәге  
ленталарны үлчәгез.

# **Чагыштырабыз**

**Зэңгэр лента - 12 см**

**Сары лента – 10 см**

**Яшел лента – 5 см**

# Дэфтэрeңэ сыз, мм күрсэт

5 см



8 см 5 мм



3 см 8 мм






# Машиналар нинди юнәлештә йөри?



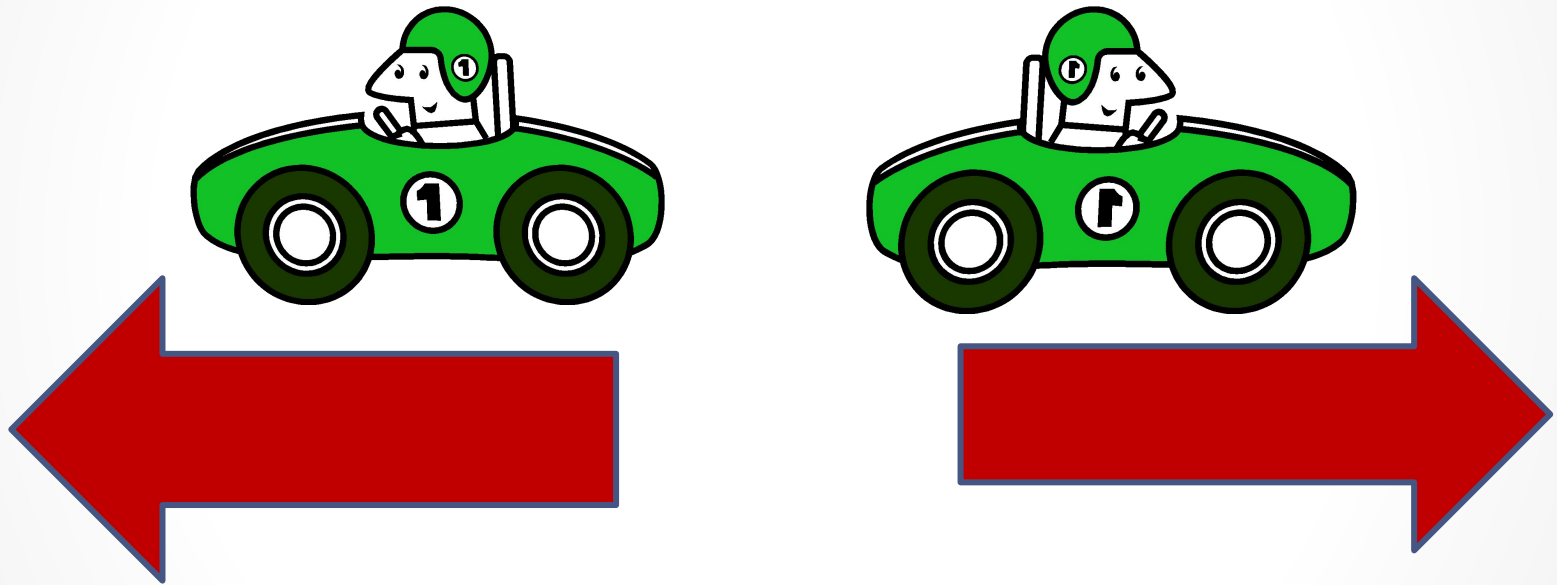
# Бер-бер артлы



# Қара - қаршы



# Капма - каршы



# Автобуслар арасында ераклык күпме ?

160 м



140 м




1 км

160 м



1 км

140 м



**Автобуслар арасында ераклык күпме ?**

# Кошларның күтәрелү биеклеген км белән күрсәт

**4000 м**



**3000м**



# Дәрестә нинди үлчәү берәмлеге турында сөйләдек?

- **Озынлык үлчәү берәмлекләре**
  - **км**
  - **м**
  - **дм**
  - **см**
  - **мм**



**Игътибарыгыз өчен рәхмәт!**

