

# "БИАТЛОН"

## ЗАДАЧИ

первый уровень



второй уровень




третий уровень



Галкина Инна Анатольевна, учитель начальных классов  
МОУ «Водоватовская СОШ» Арзамасского района, Нижегородской области



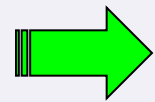



На ветке сидело 5 птиц.  
Прилетело ещё 3 птицы.  
Сколько птиц стало?

9

8

2








Когда я с братом пришёл в спортзал, там уже были четверо наших ребят и тренер. Сколько теперь человек в спортзале?

9

8

7



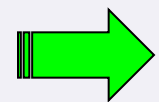



На опушку прилетело 12  
дроздов, а кукушек на 7  
меньше. Сколько кукушек  
прилетело на опушку?

5

19

7



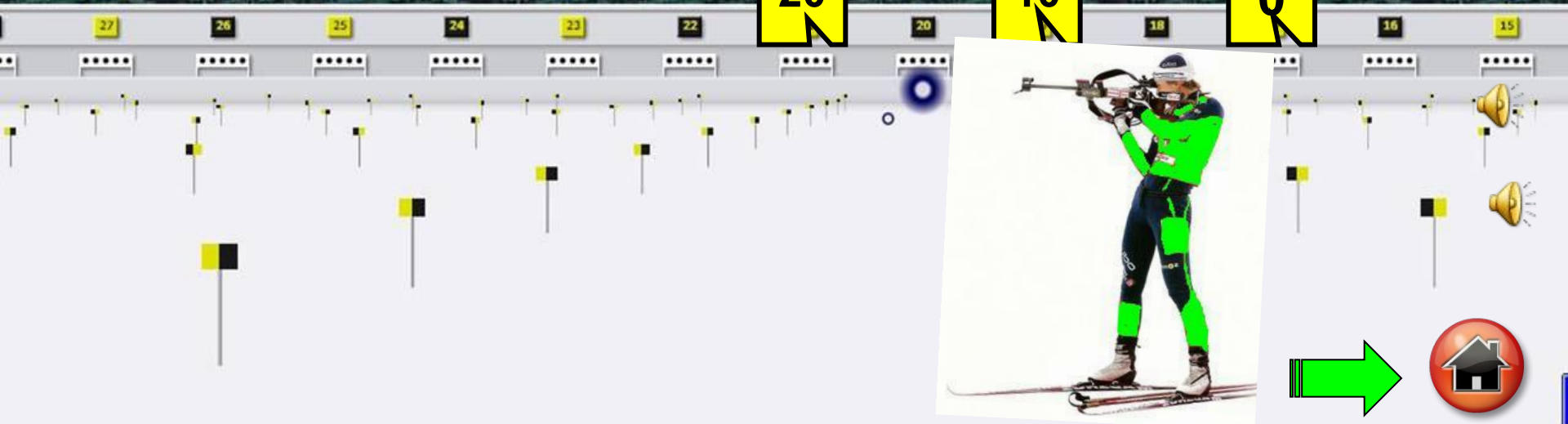



В замке 15 башен имеют окна, а 5 без окон. На сколько меньше башен без окон?

20

10

0






Когда у продавца купили 2  
хомячка, то у него  
осталось 6 хомячков.  
Сколько хомячков было у  
продавца?

4

8

9



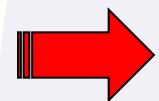



Нарезали 12 кружков колбасы.  
На каждый ломтик хлеба  
положили два кружка.  
Сколько получилось  
бутербродов?

6

8

12



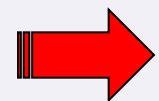


Мастер собрал четыре  
трёхколесных велосипеда.  
Сколько колёс ему  
потребовалось?


4

12

7









В гараже было 15 машин.  
5 уехало, а 7 приехало.  
Сколько машин стало в  
гараже?

27

10

17






Дуремар поймал 8 пиявок в первый день и 2 во второй. Сколько пиявок у него осталось, если он продал 3?

7

8

10







Шарик выпил 9 кружек  
молока, а Матроскин на 5  
меньше. Сколько кружек  
молока выпили друзья?

14

4

13



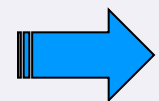



В нашем классе было 19 мальчиков и 18 девочек. Потом к нам пришли учиться ещё 3 девочки. Сколько учеников стало в нашем классе?

37

40

41



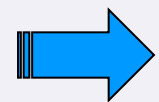



В группе 15 туристов. Четверо из них говорят по-немецки, двое - по-английски, а остальные - по-французски, но никто из них не говорит на двух языках. Сколько туристов говорят по-французски?

9

15

21



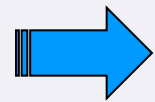



У семи братьев по одной сестре. Сколько всего сестёр?

7

8

1



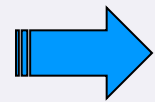



Заполнив 5 трёхлитровых банок, хозяйка поняла, что остаётся ещё литр компота. Тогда она разлила компот в двухлитровые банки. Сколько двухлитровых банок получилось?

6

8

5





На лугу паслось стадо коров. Пастух заснул, и пока он спал, половина коров ушла в лес. Потом из тех, что остались, половина ушла на речку. Проснулся пастух, видит - на лугу только Бурёнка и Пеструшка. Сколько коров было в стаде?

6

10

8





# МОЛОДЦЫ!



## ИСТОЧНИКИ:

- [http://www.interestinfo.ru/uploads/posts/2009-11/1258805073\\_sshot-15.png](http://www.interestinfo.ru/uploads/posts/2009-11/1258805073_sshot-15.png) - биатлонист
- <http://softobzor.com.ua/fotos/b/410576.jpg> - фон
- <http://www.parkov3.narod.ru/sound/23/023.mp3> -  
звук выстрела винтовки
- <http://www.parkov3.narod.ru/sound/22/012.mp3> -  
аплодисменты
- <http://sport.segodnya.ua/img/forall/p/007/01%20medals.jpg> - медали