

ЯНИРА ЫЖЕВ



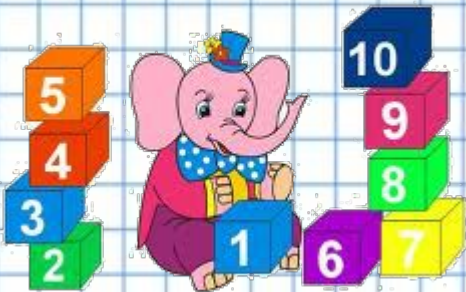
Знаки математических действий

+

•

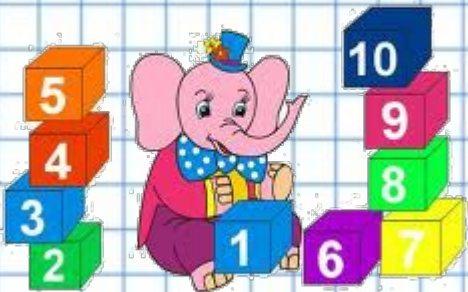
—

⋮



Математические знаки

8, X, 6, Y, 9



МАТЕМАТИЧЕСКИЕ ВЫРАЖЕНИЯ


$$9+X$$

$$9+6$$

- БУКВЕНН
ЫЕ

- ЧИСЛОВЫ
Е

Что означает X?



Уч. стр. 111

Числа

8, X, 6, Y, 9

Расположи числа в порядке
возрастания если

X- наименьшее натуральное
число

Y- наибольшее двузначное число





1, 6, 8, 9, 99

**Составьте уравнение используя данные
числа**

Найти неверное
уравнение

1) $X + 8 = 9$

2) $8 - X = 9$

3) $99 : X = 9$

Что означает
X?

a	72	345	2781	12549
$a+658$				
$78963-a$				
$a \cdot 25$				
$a:3$				

a	72	345	2781	12549
$a+658$	730	1003	3439	13207
$78963-a$	78891	78618	76182	66414
$a \cdot 25$				
$a:3$				