


САМООЦЕНКА



Задание выполнено аккуратно и без ошибок



Задание выполнено с погрешностями или с 1-2 ошибками



Задание выполнено наполовину или не выполнено

ТЕМА УРОКА: ЧИСЛА ОТ 0 ДО 10



Планета № 1



Круговые примеры

НАЙДИ ЗНАЧЕНИЯ ВЫРАЖЕНИЙ

$9 - 7 =$

$7 - 3 =$

$10 - 7 =$

$2 + 5 =$

$4 + 6 =$

$3 + 6 =$

Планета № 2

Буквенные

Crackles

выражающая

ПОСТАВЬ ЗНАКИ «>», «<», «=».

$$a + 2 \quad 3 + a$$

$$a + 4 \quad 4 + a$$

$$10 - k \quad 9 - k$$


$$k - 3 \quad k - 2$$

ФИЗМИНУТКА



Планета № 3

Рассказы по


рисункам



ПРИДУМАЙТЕ РАССКАЗ ПО РИСУНКУ



ПРИДУМАЙТЕ РАССКАЗ ПО РИСУНКУ



+2



?

Планета № 4

КА
МУ

Логика

Выскажите впечатления об
уроке



Мы повторили...
было трудно...
было легко...
самое
интересное...
наш помощник...

**СПАСИБО ЗА
УРОК!**