

МОУ Баратаевская СОШ



Урок математики во 2 классе


*Копылова Лариса Николаевна,
учитель начальных классов,
I квалификационной категории*





24 ноября
Классная работа







Тема:

Числа от 1 до 100

Сложение и вычитание
(закрепление)



Без счета не будет на улице света,
Без счета не сможет подняться ракета,
Без счета письмо не найдет адресата
И в прядки сыграть не сумеют ребята.
Летит выше звезд арифметика наша,
Уходит в моря,
Строит здания, пашет,
Сажает деревья,
Турбины куёт,
До самого неба рукой достает.





Узнаем название птицы.

$$94 + 5$$

42

28

99

27

41

52



$$94 + 5 = 99$$



42
28
p
27
41
52



$$43 - 2$$



42
28
p
27
41
52



$$43 - 2 = 41$$



42
28
p
27
H
52



$$58 - 30$$



42
28
p
27
H
52



$$58 - 30 = 28$$




42
o
p
27
H
52



$$32 + 20$$



42
o
p
27
H
52



$$32 + 20 = 52$$



42
o
p
27
H
a



$$48 - 6$$



42
o
p
27
H
a



$$48 - 6 = 42$$



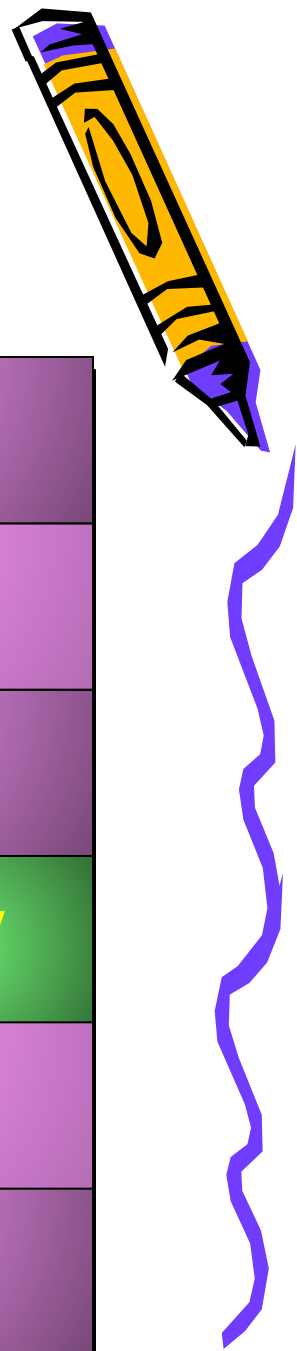
B
o
p
27
H
a



$$24 + 3$$



B
o
p
27
H
a



$$24 + 3 = 27$$



В
о
р
о
н
а





ворона – всеядная птица.

**Она поедает жуков,
гусениц, бабочек, мух,
дождевых червей,
грызунов, яйца птиц и
птенцов, ящериц, лягушек,
рыб и семена растений.**





Гнездо строит обычно высоко на дереве, у развилки ствола. Гнездо из прутьев; внутри подстилка толщиной в несколько сантиметров из шерсти, ваты, тряпок и перьев.





Сравни:



12мм * 2см

1ч * 59мин

26дм * 1м


1м * 59см

1см 2мм * 14мм

70мин * 1ч 10 мин



Проверь решение



$$12\text{мм} < 2\text{см}$$

$$1\text{ч} > 59\text{мин}$$

$$26\text{дм} > 1\text{м}$$

$$1\text{м} > 59\text{см}$$

$$1\text{см} \quad 2\text{мм} < 14\text{мм}$$

$$70\text{мин} = 1\text{ч} \quad 10 \text{ мин}$$





Реши задачу



В парке посадили 30 липок, а дубков на 10 больше. Сколько всего липок и дубков посадили?



Краткая запись



Липок -30

Дубков -? на 10 больше

Сколько всего липок и дубков посадили - ?




Решение:

1) $30+10 = 40$ (д)

2) $30+40= 70$ (л.д)

Ответ: 70 липок и дубков



ФИЗМИНУТКА



Запиши выражения и вычисли их значения:



- 1) Из числа 80 вычтешь сумму чисел 53 и 7.
- 2) Из числа 90 вычтешь разность чисел 84 и 4



Решение:

$$80 - (53 + 7) = 20$$

$$90 - (84 - 4) = 10$$





Дополни числа
до...



- 100: 1, 10, 50, 66, 72, 80, 99

- 50: 45, 40, 36, 20, 15, 10



Проверка:

99,90,50,34,28,20,1

5,10,14,30,35,40





Чем занимались?

Чем понравился вам урок?



Домашнее задание:

- № 7, стр 59

