

Числа от 1 до 100

Ключ : 32, 24, 63, 76, 18, 45, 1, 18, 48, 25, 18

З а к р е п л е н и е

$8 * 4 (\underline{3})$

$8 * 3 (\underline{а})$

$9 * 7 (\underline{к})$

$76 * 1 (\underline{р})$

$2 * 9 (\underline{е})$

$10 : 10 (\underline{л})$


$9 * 5 (\underline{п})$

$6 * 8 (\underline{н})$

$5 * 5 (\underline{и})$



Множитель	8	7		9	7
Множитель	7		8	8	
Произведе ние		35	40		63



Краеведческий музей



Множитель	8	7	5	9	7
Множитель	7	5	8	8	9
Произведение	56	35	40	72	63



Краеведческий музей

К 500-летию города было выпущено 5000 значков. Какой номер значка пропущен? Напиши .
596, 597, 598, ..., 600,, 602,
603,,



К 500-летию города было выпущено 5000 значков. Какой номер значка пропущен? Напиши .
596, 597, 598, **599**, 600, **601**, 602,
603, **604**,



**В 1579 году в Чердыни
насчитывалось 1сот. 8 дес. 3ед
..... дворов. Какое это
число?**



В 1579 году в Чердыни
насчитывалось 1сот. 8 дес. Зед
183 дворов. Какое это число?



**В 1579 году в Чердыни
насчитывалось 4сот. 0дес. бед
.....жителей . Какое это число?**



В 1579 году в Чердыни
насчитывалось 4сот. 0дес. бед
406 жителей . Какое это число?



**Утром в магазин «Хлебушко»
привезли 5сот. 3дес. 1ед.....
штук хлеба. Какое это число?**



Утром в магазин «Хлебушко»
привезли 5 сот. 3 дес. 1 ед **531**
штук хлеба. Какое это число?



**Для покрытия крыши привезли
50 листов железа. За один день
расходовали 8 листов.
За сколько дней покроют
крышу?**



**Успенская
церковь**



Для покрытия крыши привезли 50 листов железа. За один день расходовали 8 листов.
За сколько дней покроют крышу?

$$50 : 8 = \dots$$

(ост.....)

**Успенская
церковь**



Для покрытия крыши привезли 50 листов железа. За один день расходовали 8 листов.
За сколько дней покроют крышу?

$$50 : 8 = 6$$

дней


(ост. **2**

листа)

**Успенская
церковь**




**Высота Воскресенского собора
9 м, а ширина 4 м. Какова
площадь?**



Воскресенский



**Высота Воскресенского собора
9 м, а ширина 4 м. Какова
площадь?**



36 кв .м

Воскресенский



Длина кабана 15дм . Голова составляет пятую часть всей длины. Сколько дециметров длина головы?



Длина кабана 15дм . Голова составляет пятую часть всей длины. Сколько дециметров длина головы?



3 дм



**Своей работой на уроке я
доволен)
Урок для меня показался
длинным)**

**доволен (не
коротким (**

