

МОУ Баратаевская СОШ



# Урок математики во 2 классе


Котылова Лариса Николаевна, учитель начальных классов, I квалификационной категории





***24 ноября***  
***Классная работа***







Тема:

Числа от 1 до 100

Сложение и вычитание  
(закрепление)



Без счета не будет на улице света,  
Без счета не сможет подняться ракета,  
Без счета письмо не найдет адресата  
И в прядки сыграть не сумеют ребята.  
Летит выше звезд арифметика наша,  
Уходит в моря,  
Строит здания, пашет,  
Сажает деревья,  
Турбины куёт,  
До самого неба рукой достает.





Узнаем название птицы.

$$94 + 5$$

42

28

99

27

41

52



$$94 + 5 = 99$$



42
28
p
27
41
52



$$43 - 2$$



42
28
p
27
41
52





$$43 - 2 = 41$$



42
28
p
27
H
52



$$58 - 30$$



42
28
p
27
H
52



$$58 - 30 = 28$$



42
o
p
27
H
52



$$32 + 20$$



42
o
p
27
H
52



$$32 + 20 = 52$$



42
o
p
27
H
a



$$48 - 6$$



42
o
p
27
H
a



$$48 - 6 = 42$$



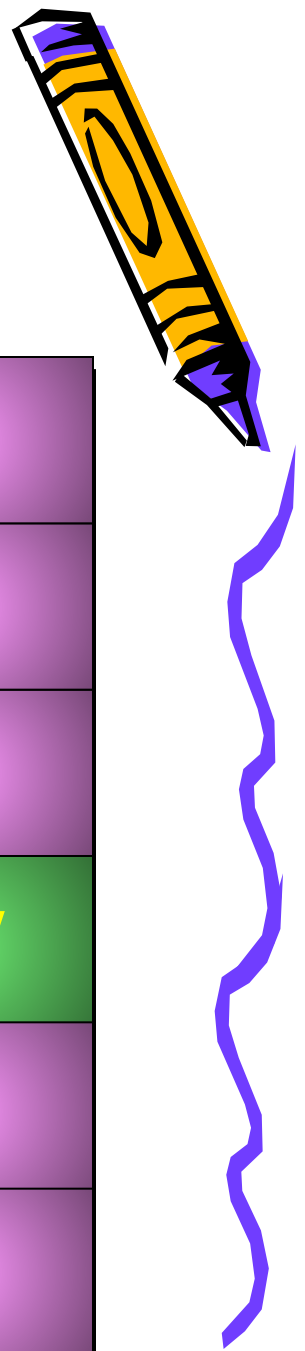
B
o
p
27
H
a



$$24 + 3$$



B
o
p
27
H
a





$$24 + 3 = 27$$



**В**

**о**

**р**

**о**

**н**

**а**





**Ворона – всеядная птица.**

**Она поедает жуков,  
гусениц, бабочек, мух,  
дождевых червей,  
грызунов, яйца птиц и  
птенцов, ящериц, лягушек,  
рыб и семена растений.**





Гнездо строит обычно высоко на дереве, у развилки ствола. Гнездо из прутьев; внутри подстилка толщиной в несколько сантиметров из шерсти, ваты, тряпок и перьев.





Сравни:



12мм \* 2см

1ч \* 59мин

26дм \* 1м

1м \* 59см

1см 2мм \* 14мм

70мин \* 1ч 10 мин



# Проверь решение



$$12\text{мм} < 2\text{см}$$

$$1\text{ч} > 59\text{мин}$$

$$26\text{дм} > 1\text{м}$$

$$1\text{м} > 59\text{см}$$

$$1\text{см} \quad 2\text{мм} < 14\text{мм}$$

$$70\text{мин} = 1\text{ч} \quad 10 \text{ мин}$$





Реши задачу



В парке посадили 30 липок, а дубков на 10 больше. Сколько всего липок и дубков посадили?



# Краткая запись



Липок -30

Дубков -? на 10 больше

Сколько всего липок и дубков посадили - ?




Решение:

1)  $30+10 = 40$  (д)

2)  $30+40= 70$  (л.д)

Ответ: 70 липок и дубков





# ФИЗМИНУТКА



# Запиши выражения и вычисли их значения:



- 1) Из числа 80 вычтешь сумму чисел 53 и 7.
- 2) Из числа 90 вычтешь разность чисел 84 и 4



Решение:

$$80 - (53 + 7) = 20$$

$$90 - (84 - 4) = 10$$





Дополни числа  
до...



- 100: 1, 10, 50, 66, 72, 80, 99

- 50: 45, 40, 36, 20, 15, 10



# Проверка:

99,90,50,34,28,20,1

5,10,14,30,35,40





Чем занимались?

Чем понравился вам урок?



# Домашнее задание:

- № 7, стр 59

