




Урок математики.

1 класс



Тема: Числа от 1 до 20

Автор: Первушина Наталья  
Михайловна




учитель начальных классов  
МОУ КНОШ №3

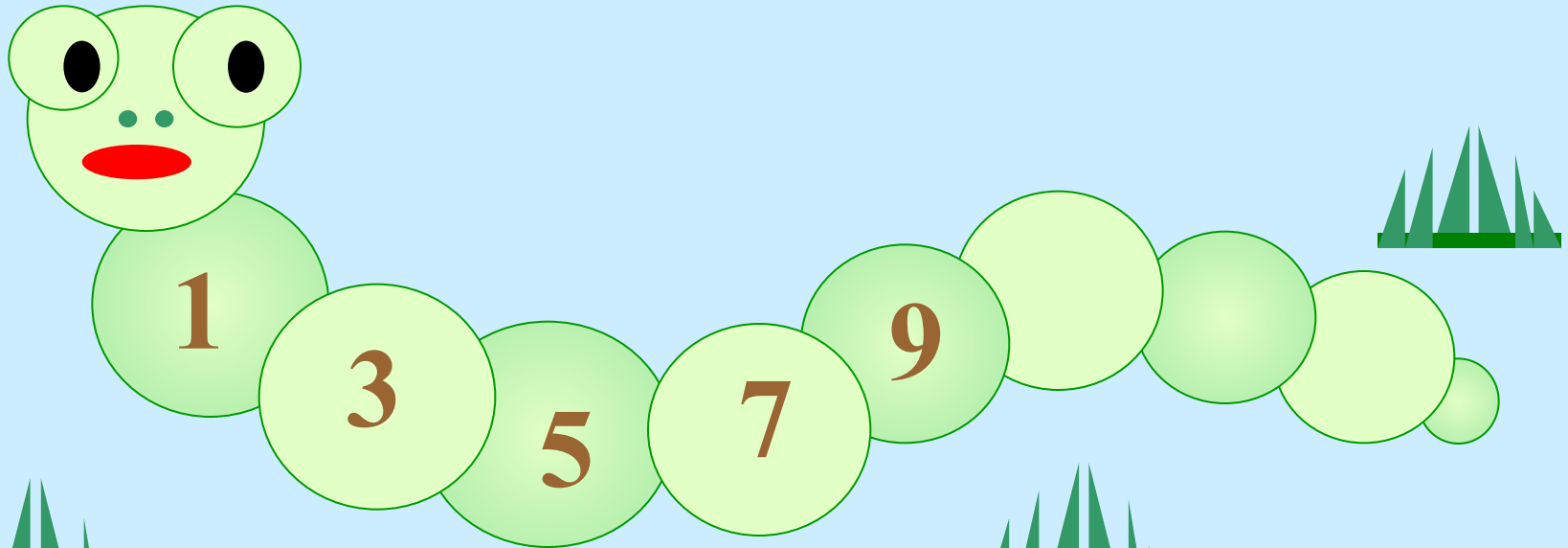
(100-614-075)

р.п.Каргаполье

2010-2011г.



# Гусеница-растеряша



# Рассади пассажиров


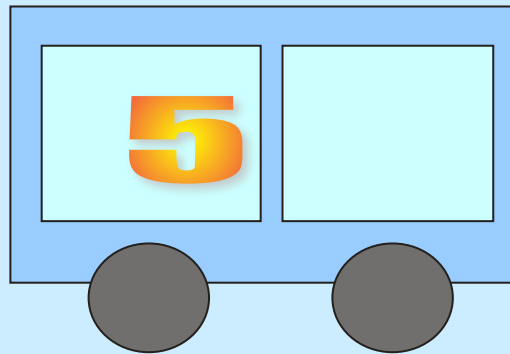


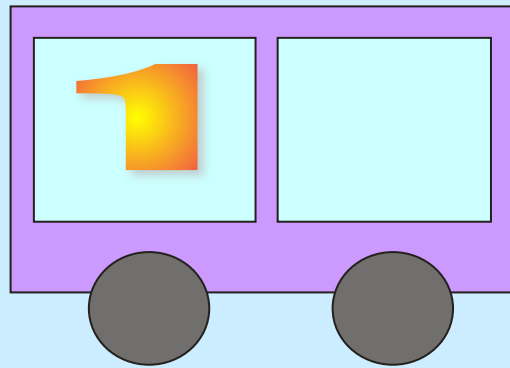

8

4

5

3

2



Проверка:      9 8 7 6 3 10 1 5

•  $6 + 3 =$      $8 + 0 =$      $4 + 3 =$      $10 - 4 =$

•  $9 - 6 =$      $8 + 2 =$      $7 - 6 =$      $9 - 4 =$

Дорисуйте лучик у солнышка:

**зелёный** – кому было всё понятно,  
интересно и легко работать;

**жёлтый** – кто затруднялся с заданием, но  
после обдумывания справился с  
заданием;

**красный** – кому было трудно успевать и  
выполнять задания;

• 9 8 7 6 3 10 1 5

11 13 15 16 18

- 10, 11, 13, 15, 16, 18

12, 14, 17, 19



Дорисуйте лучик у солнышка:

**зелёный** – кому было всё понятно,  
интересно и легко работать;

**жёлтый** – кто затруднялся с заданием, но  
после обдумывания справился с  
заданием;

**красный** – кому было трудно успевать и  
выполнять задания;

# С. 46 № 4

- Запишите числа в порядке их  
увеличения

17, 10, 5, 15, 2, 20, 1

Проверка:

1, 2, 5, 10, 15, 17, 20

# С. 46. № 5

Решение:

$$3 + 3 = 6 \text{ (п.)}$$

Ответ: 6 платьев.

$$3 + 6 = 9 \text{ (п.)}$$

Ответ: 9 платьев.

# Задача:

- Марина, Вера и Оля задумали по одному числу: 18, 19, 20.
- Марина задумала число 18, Вера – следующее за ним. Какое число задумала Вера? А Оля?

- Дорисуйте лучик у солнышка:  
**зелёный** – кому было всё понятно, интересно и легко работать;  
**жёлтый** – кто затруднялся с заданием, но после обдумывания справился с заданием;  
**красный** – кому было трудно успевать и выполнять задания;

Задача.

У реки растут 4 осины и  
3 липы. Сколько всего  
деревьев у реки?

# Проверяем решение задачи

$$4 + 3 = 7 \text{ (д.)}$$

Ответ: 7 деревьев.

**Спасибо за урок!**