

МАТЕМАТИКА

2 КЛАСС

Числа от 20 до 100

(закрепление)







Найди лишнее число в каждой строке:

5 7 9 13 2

40 30 19 20 60

12 16 34 13 15



Сравни:

$$31 < 39$$

$$16 < 61$$

$$80 > 73$$

$$81 < 88$$

$$17 < 27$$

$$76 > 48$$

Поставь вместо * цифру:

$$50 < 51$$

$$68 < 69$$

$$26 > 17$$





$$19 > 10$$

Задача

Топливом для ступы Бабы-Яги служат грибы: сморчки, красные мухоморы и бледные поганки.



?







МОЛОДЦЫ!