

Урок по математике

Число 10

Педагог начальных классов школы №
240

Азербайджан, Баку
Самедова Матанат Елмар кызы



Сказал весёлый круглый ноль

Соседке - единице:

- С тобою рядышком позволь
Стоять мне на странице!

Она окинула его

Сердитым, гордым взглядом:

- Ты, ноль, не стоишь ничего.

Не стой со мною рядом!

Ответил ноль: - Я признаю,

Что ничего не стою,

Но можешь стать ты десятью,

Коль буду я с тобою.

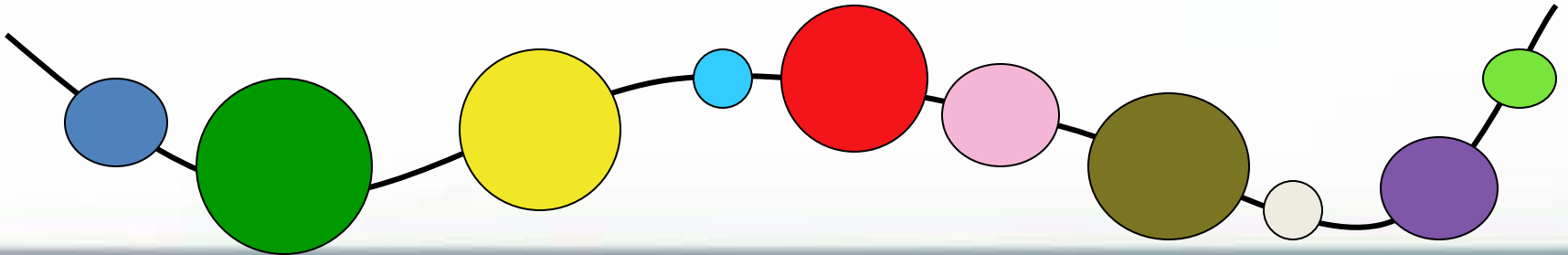



10



Нолик мне терять нельзя,
Без него исчезну я.
Стану тощей единицей,
Буду плакать я и злиться.





Считайте елочные игрушки.



10



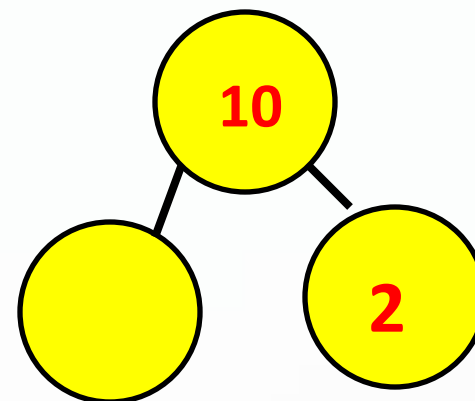
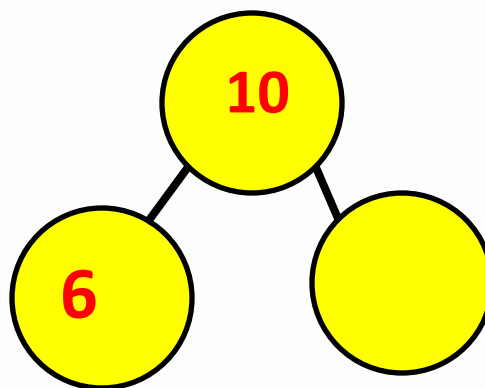
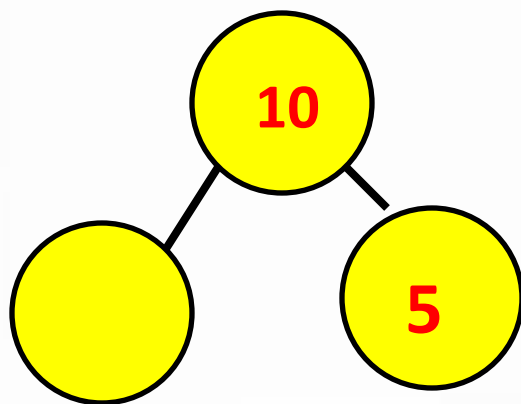
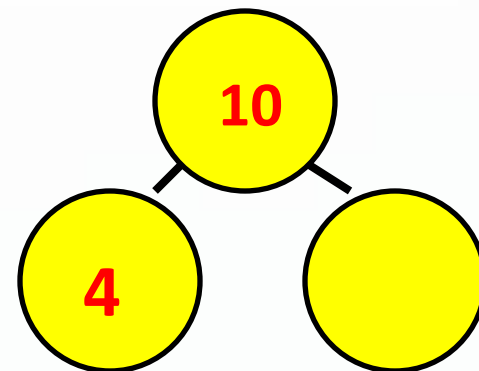
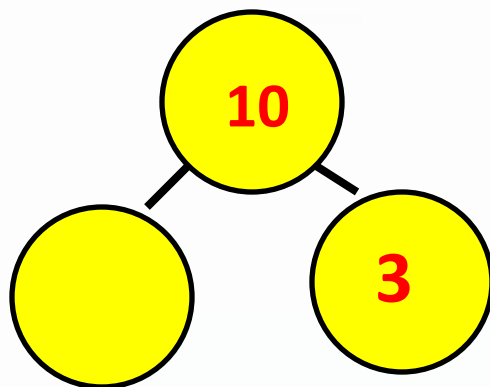
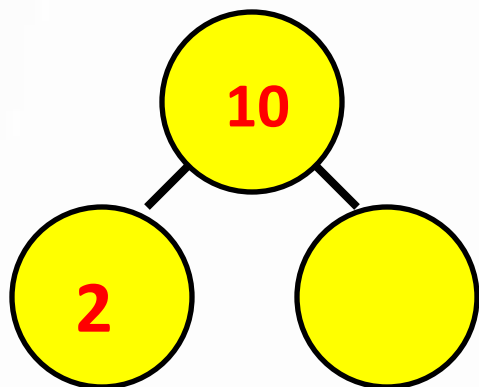
6




5



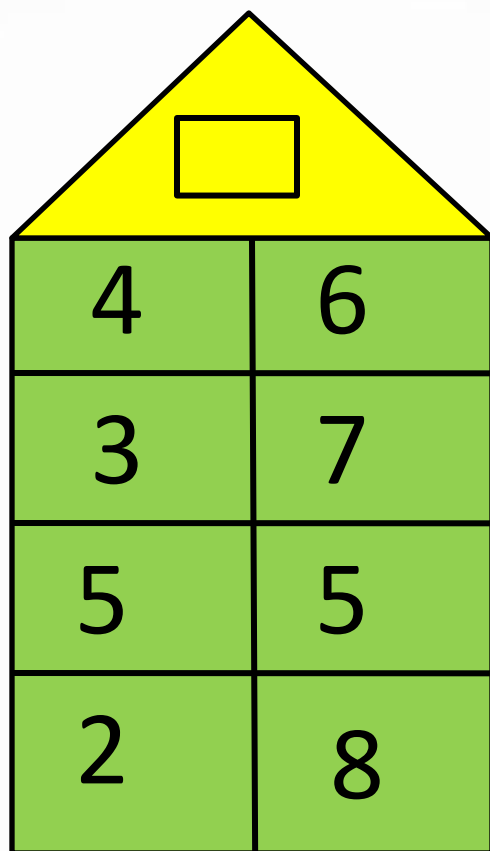
**Какие числа закрыты
карточками? Запиши числа.**



Сравни равенства в каждой паре.

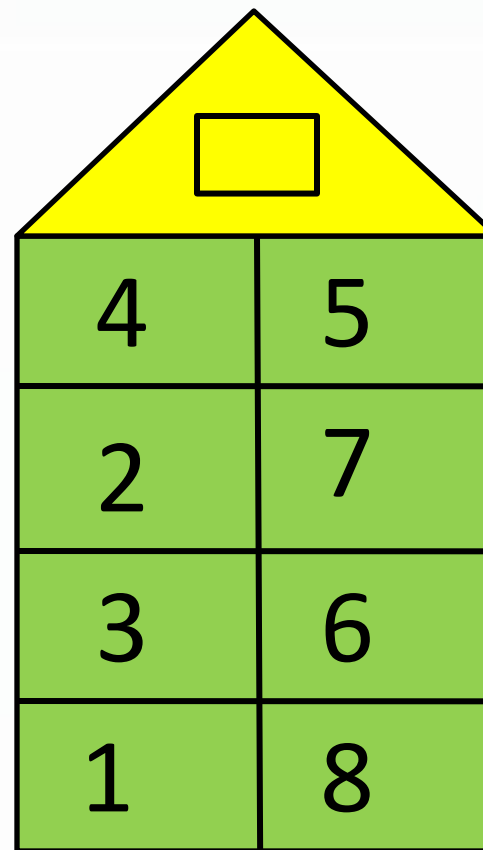


Определите, какому числу принадлежит каждый числовой домик.



A house-shaped grid with a yellow triangular roof containing an empty square. Below the roof is a 4x2 grid of green squares. The numbers in the grid are:

4	6
3	7
5	5
2	8



A house-shaped grid with a yellow triangular roof containing an empty square. Below the roof is a 4x2 grid of green squares. The numbers in the grid are:

4	5
2	7
3	6
1	8

Ресурсы

[www/pedsovet.su](http://www.pedsovet.su)

[www/vospitatel.com.ua](http://www.vospitatel.com.ua)

[www/ru.depositphoos.com](http://www.ru.depositphoos.com)

<https://fotki.yandex.ru/users/k-ti-ande/album/284474/?&p=1>

