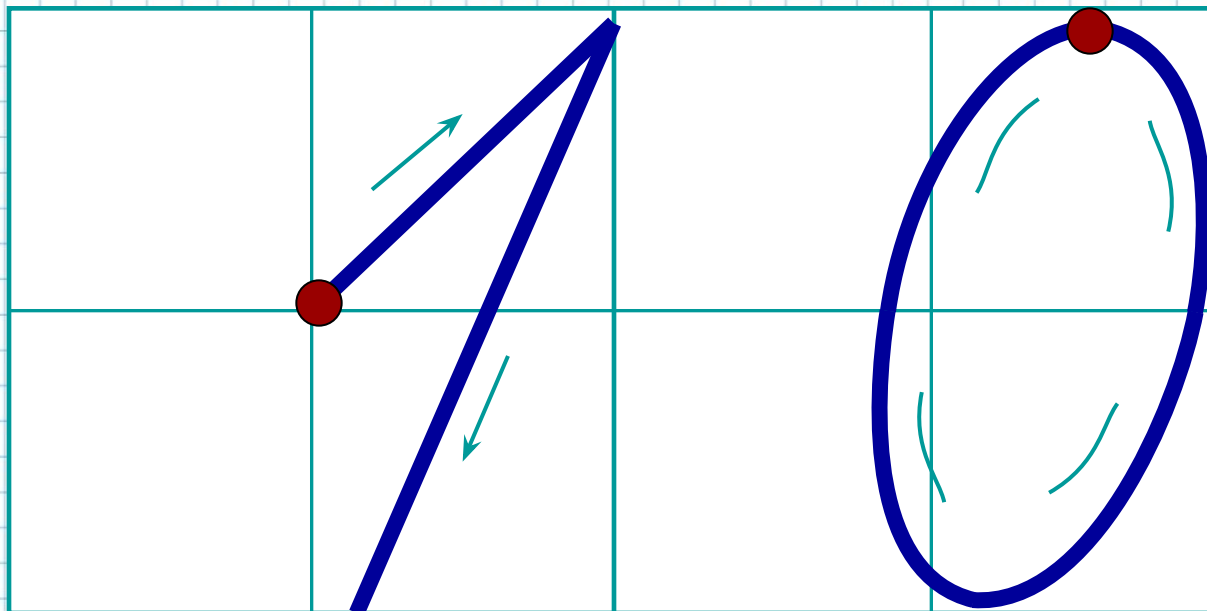


---

*Числа 1-10*

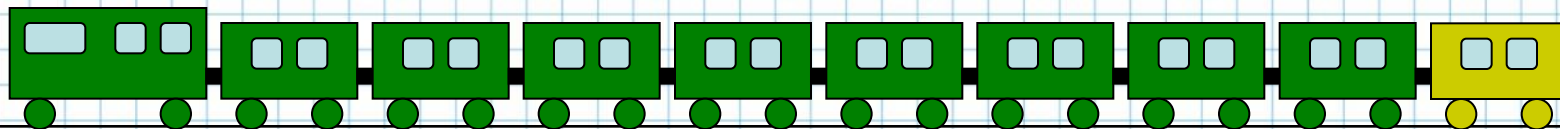


1

Составьте и запишите  
выражение к рисунку :

$$9 + 1$$

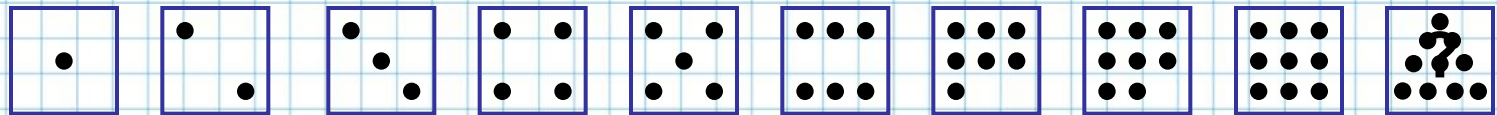
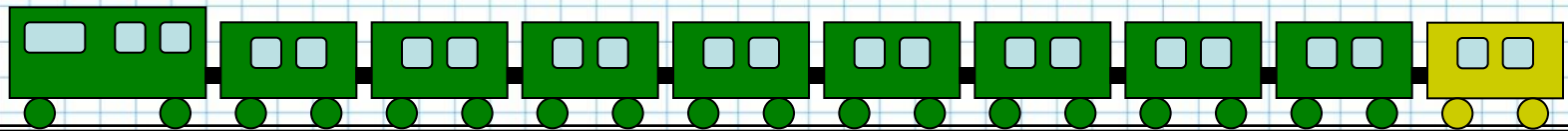
Расскажите, что означает  
каждое число в записи.





2

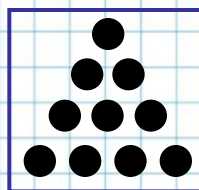

Сколько всего вагонов?  
Какой по счету последний вагон?  
Сколько точек надо нарисовать  
на последней карточке?



- Верно ли, что девять и один будет десять?
- Верно ли что число десять при счете следует сразу же за числом девять?

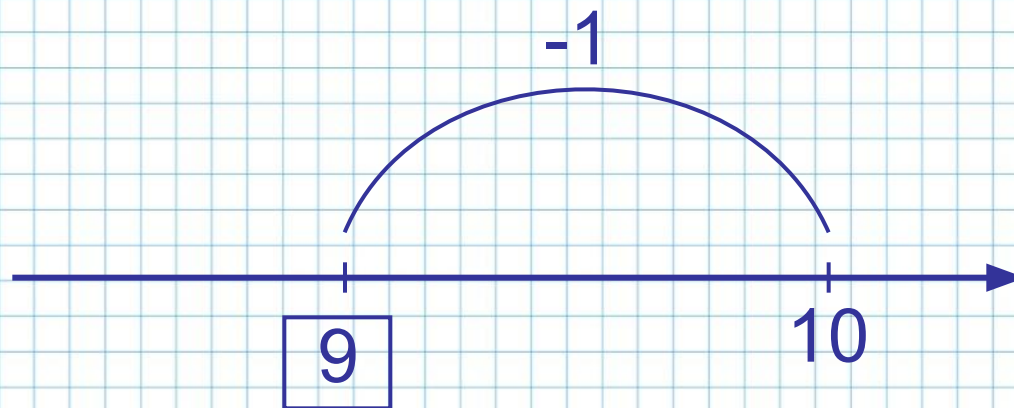
3

Назовите числа



5

Назовите число в «окошке»



- Верно ли, что десять без одного будет девять?
- Верно ли, что число девять при счете следует непосредственно перед числом десять?



6

Сравните ( $>$ ,  $<$ ,  $=$ )

$1 < 10$

$2 < 10$

$10 > 3$

$10 > 4$

$5 < 10$

Расскажите о числе 10:

|    |   |   |   |   |   |   |   |   |   |
|----|---|---|---|---|---|---|---|---|---|
| 10 | 1 | 2 | 3 | 4 | 5 | 6 | 7 | 8 | 9 |
|    | 9 | 8 | 7 | 6 | 5 | 4 | 3 | 2 | 1 |

7

Подставьте числа в «окошки» так, чтобы получились верные равенства.  
Запишите эти равенства.

$$10 - \boxed{1} = 9$$

$$10 - \boxed{3} = 7$$

$$\boxed{9} - 4 = 5$$

$$\boxed{10} - 2 = 8$$

$$10 - \boxed{4} = 6$$

$$8 - \boxed{2} = 6$$



8

Сравните ( $>$ ,  $<$ ,  $=$ )

$$6 + 4 \boxed{>} 5 + 4$$

$$10 - 5 \boxed{>} 10 - 6$$

$$2 + 8 \boxed{>} 2 + 7$$

$$9 - 2 \boxed{<} 10 - 2$$

$$7 + 3 \boxed{=} 3 + 7$$

$$8 - 2 \boxed{<} 8 + 2$$

*Урок окончен!*

---