


У крышки стола 4 угла.
Сколько останется углов если 1
угол отпилить?



Куда войдет больше воды:
в трехлитровый чайник
или трехлитровый
самовар?



=



Сколько зайцев в корзине?



3



$$4 + 2$$

1

2

3

4

5

6

7

8

9

10



7 - 3

1

2

3

4

5

6

7

8

9

10



$$6 + 2$$

1

2

3

4

5

6

7

8

9

10



$$5 - 3$$

1

2

3

4

5

6

7

8

9

10

МОЛОДЦЫ!

$9 + 1$

1

2

3

4

5

6

7


8

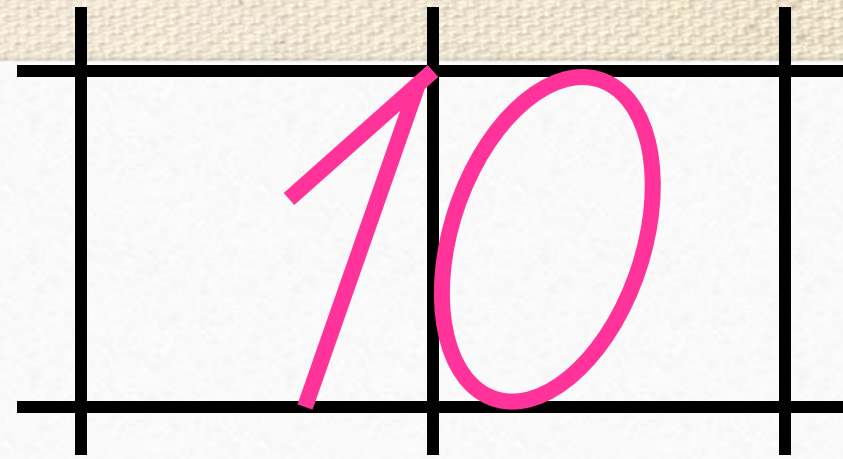
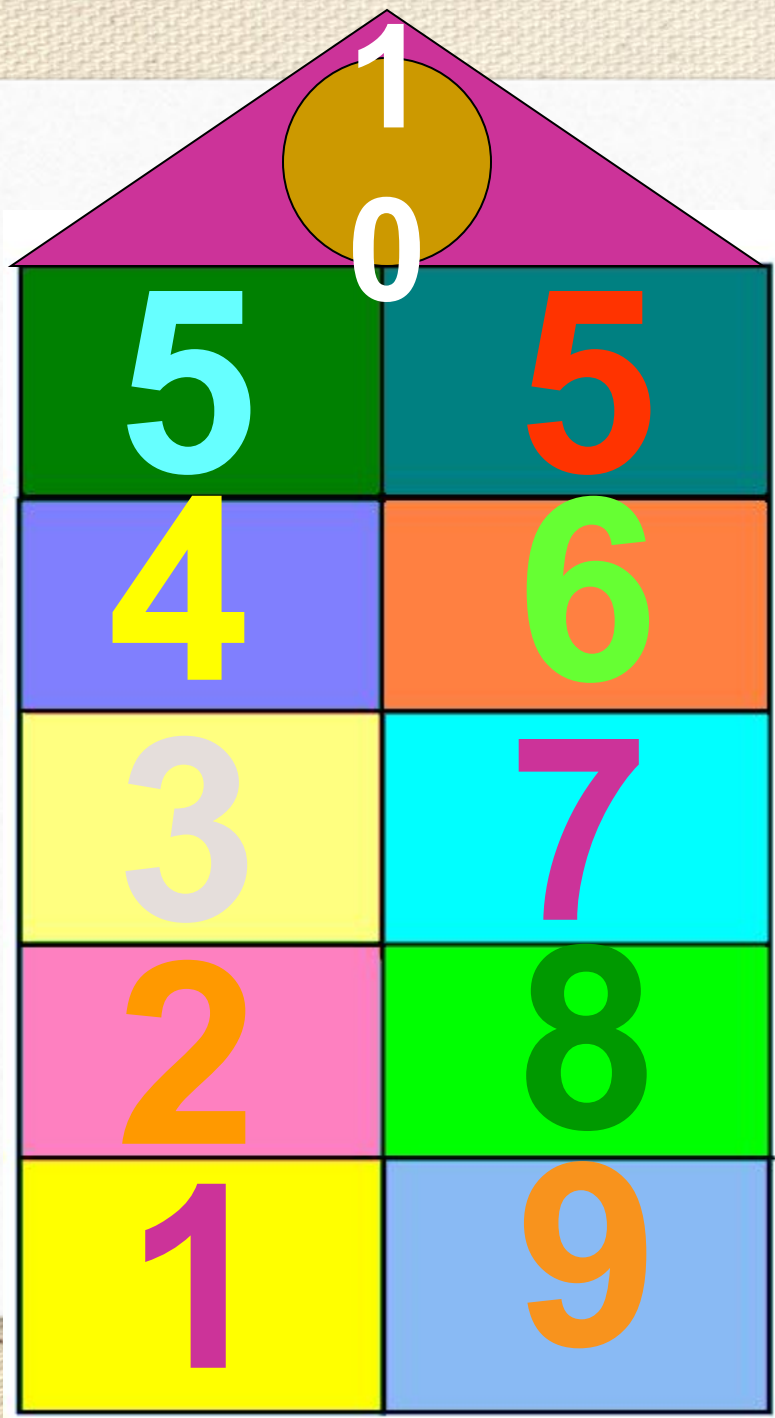
9

10




**Сколько понадобилось
еноту кубиков для башни?**





$$9 + 1 = 10$$



6, 4, 2, 9, 2, 8, 4, 1, 3, 6

$$3 + 5 = 8 \text{ (A.)}$$

$$10 - 7 = 3 \text{ (A.)}$$

Зеленая карточка. Урок понравился: я справился со всеми заданиями. Я доволен собой.

Желтая карточка. Настроение хорошее, но задания были не такими уж легкими. Мне было трудно, но я справился.

Красная карточка. Задания на уроке оказались слишком трудные. Мне нужна помощь!

Сравни (>, <, =)

$$6 * 4$$

$$10 * 6$$

$$4 * 7$$

$$9 - 2 * 7$$

$$7 + 3 * 3 + 7$$

$$8 * 5$$

Какие знаки и числа пропущены?

$$4 \text{ ☀} \text{ ☀} = 5$$

$$3 \text{ ☀} \text{ ☀} = 6$$

$$5 \text{ ☀} \text{ ☀} = 8$$

$$10 \text{ ☀} \text{ ☀} = 9$$

$$7 \text{ ☀} \text{ ☀} = 5$$

$$5 \text{ ☀} \text{ ☀} = 2$$

