

Математика. 1 класс

Тема урока:

**«Число семь. Цифра 7»**



Владимирова Ольга Владимировна  
МБОУ «Туринская СШ»  
Красноярский край

# Какая карточка перевернута

$$\boxed{1} + \boxed{4} = 5$$

$$\boxed{1} + \boxed{3} = 4$$

$$\boxed{4} + \boxed{1} = 5$$

$$\boxed{3} + \boxed{1} = 4$$

$$\boxed{2} + \boxed{3} = 5$$

$$\boxed{2} + \boxed{2} = 4$$

$$\boxed{3} + \boxed{2} = 5$$

# Читайте и быстро давайте ответы

$6 - 2$

$5 - 4$

$6 - 5$

$3 + 3$

$3 + 1$

$3 - 2$

$6 - 3$

$2 + 2$

$5 - 2$

$2 + 4$

$1 + 5$

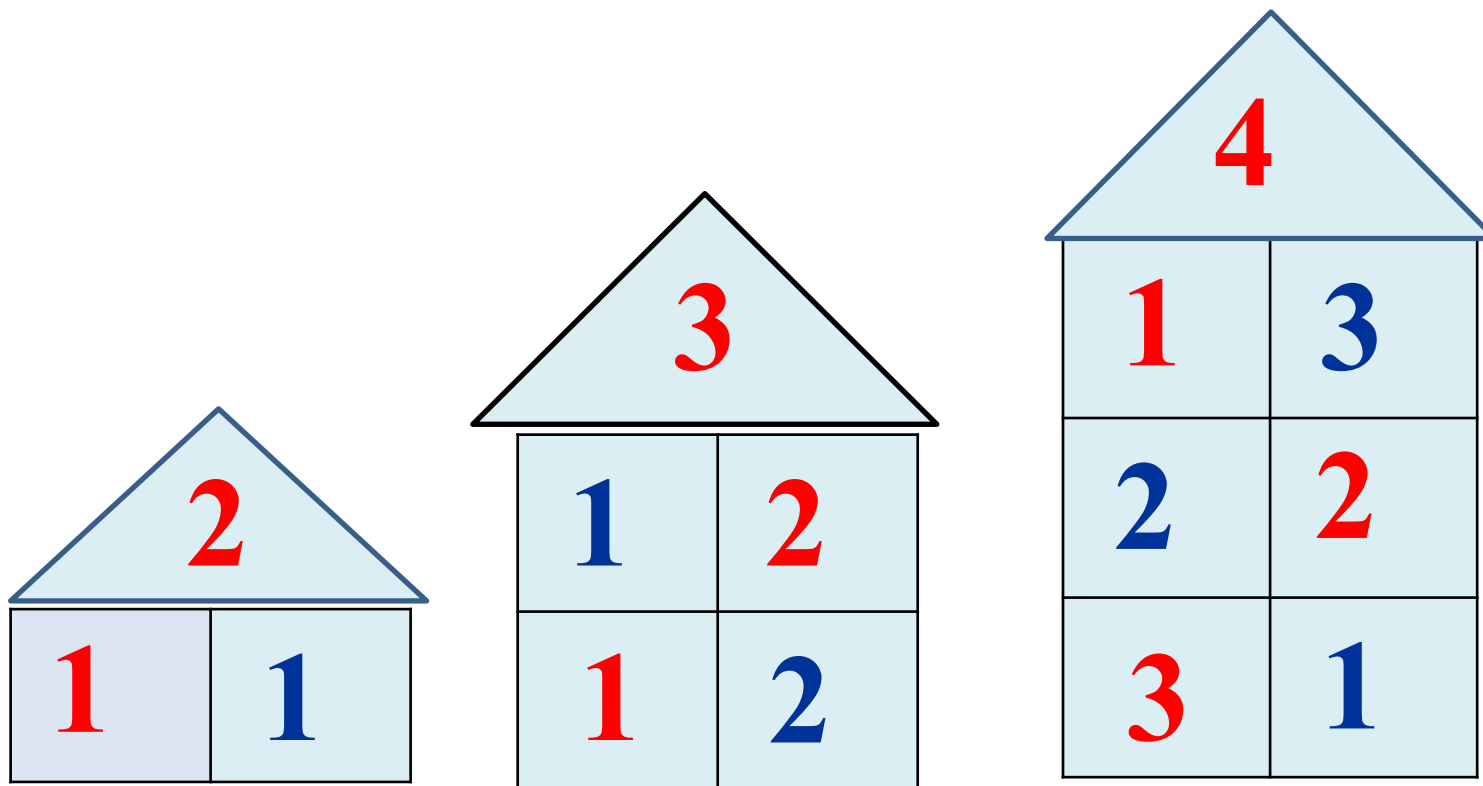
$5 - 3$

$6 - 4$

$4 - 3$

$6 - 1$

# Заселите жильцов в домики



# Заселите жильцов в домики

5	
4	1
3	2
1	4
2	3

6	
1	5
2	4
3	3
1	5
2	4

**Сколько мячей было?**

**Сколько стало?**



**6**






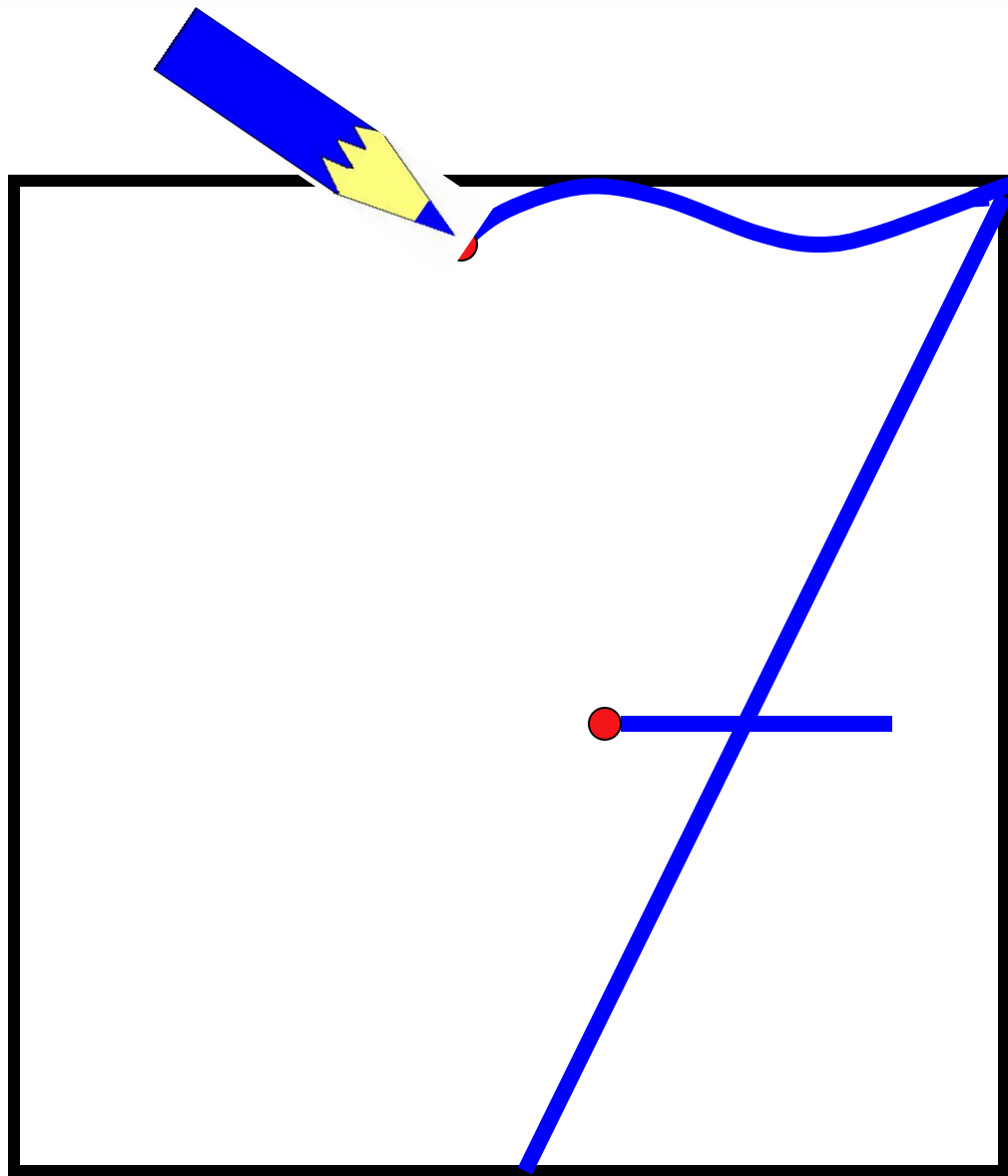
**7**

**Составьте выражение к рисунку:**

$$6 + 1 = 7$$

# Сколько дней в неделе?

**Прочитайте:** ПОНЕДЕЛЬНИК  
ВТОРНИК  
СРЕДА  
ЧЕТВЕРГ  
ПЯТНИЦА  
СУББОТА  
ВОСКРЕСЕНЬЕ





# Вставьте нужные числа

... 2 ... 4 ... 6 7

... 6 5 ... 3 2 ...

... ... 5 4 ... 2 1

1 2 3 ... 5 ... 7

1 ... 3 ... 5 6 ...

1 2 ... 4 ... 6 ...

**Назовите числа,  
предшествующим числам**

**7, 5, 3**

**Назовите числа, следующие за  
числами**

**6, 4, 5**

**Назовите «соседей» числа 6**

# Запомните!

**7** – это **6** и **1**

**7** – это **5** и **2**

**7** – это **4** и **3**

**7** – это **3** и **4**

**7** – это **2** и **5**

**7** – это **1** и **6**

**СПАСИБО ЗА РАБОТУ!**