


# Урок-путешествие



*Слушаем внимательно!*

*Пишем красиво!*

## **МЫ УМЕЕМ:**

Считать от 1 до 10 и обратно.

Считать от 2 до 7, от 9 до 5

## **МЫ ЗНАЕМ:**

Последующее число для числа 3, 7.

Как получить последующее число?

На сколько последующее число больше предыдущего.

Предыдущее число для числа 10, 4.

Как получить предыдущее число.

На сколько предыдущее число меньше последующего.


Какое число стоит между числом 6 и числом 8.

Справа от числа 2.

Слева от числа 5.

Соседей числа 3.

**МЫ МОЖЕМ МНОГО ИНТЕРЕСНОГО РАССКАЗАТЬ О  
ЧИСЛЕ 3**

A vibrant tropical landscape featuring a dense line of tall palm trees on a rocky coastline. The ocean is a deep blue, with white foam from waves crashing against the dark rocks. The sky is a clear, bright blue. The text 'Остров Примеров' is overlaid in yellow on the left side of the image.

*Остров  
Примеров*

$$3 - 1 = \square$$

$$1 + 1 = \square$$

$$1 + 2 = \square$$

$$3 - 2 = \square$$

$$2 - 1 = \square$$

$$2 + 1 = \square$$

# Тема урока: «Число четыре. Цифра 4»



А теперь мы  
отдохнём,  
физминутку  
проведём!


A scenic photograph of a sunset over a body of water. The sky is filled with small, scattered clouds that catch the golden light of the setting sun. The sun is positioned low on the horizon, creating a bright glow and reflecting its light on the water's surface. The foreground shows the calm water of the lake, and the background features a dark silhouette of a forested shoreline.

***Остров***

***Задач***








**Моя задача ...**

**Я справился ...**

**Мне понравилось...**



# Урок-путешествие

