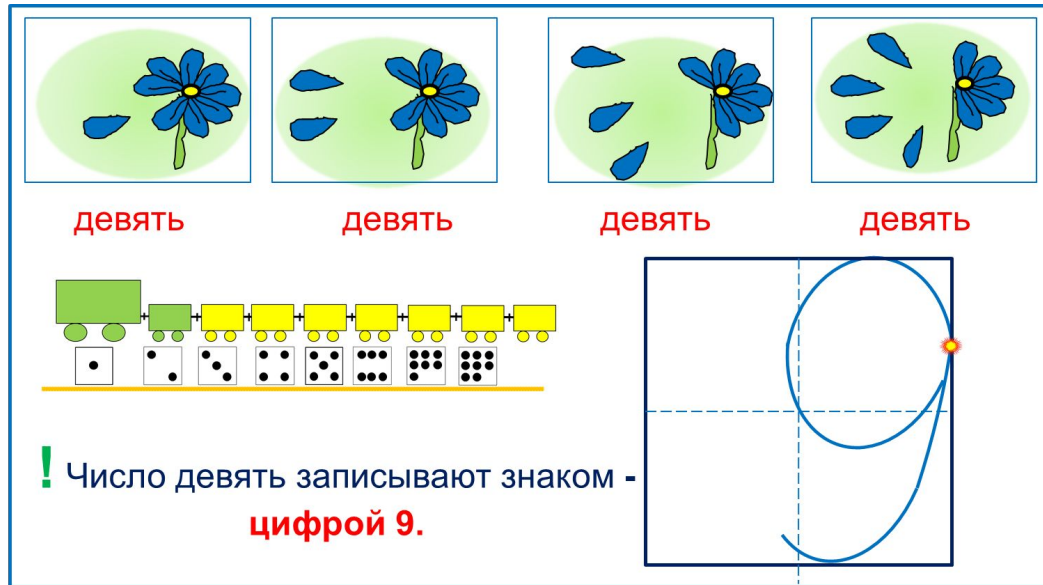


«Моя математика» 1 класс

Урок 47

Тема урока: «Число девять, цифра 9»



девять девять девять девять

Число девять записывают знаком -
цифрой 9.

*Автор презентации
Татузова Анна Васильевна*

*учитель школы № 1702
г. Москвы*

Советы учителю.

Презентация к уроку составлена на основе заданий, расположенных в учебнике. Рекомендую открыть учебник на странице с данным уроком, прочитать задания и посмотреть их в данной презентации в режиме демонстрации.

Внимание!

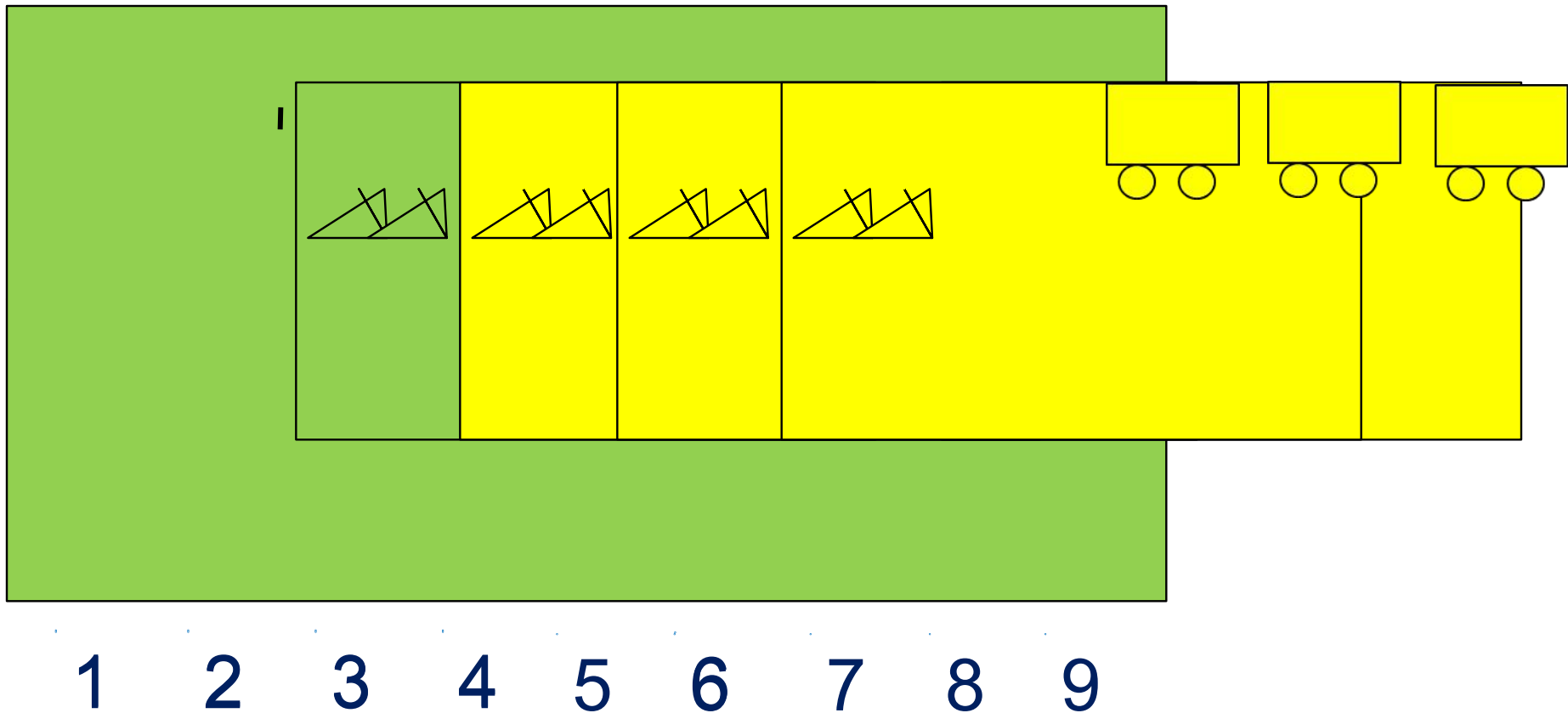
Некоторые задания можно выполнять интерактивно. Например, продолжить ряд, сравнить или вставить пропущенные числа. Для этого презентацию надо перевести в режим редактирования.

Урок 47. Число девять. Цифра 9

1. Помоги Пете ответить на вопросы.

Сколько вагонов было?

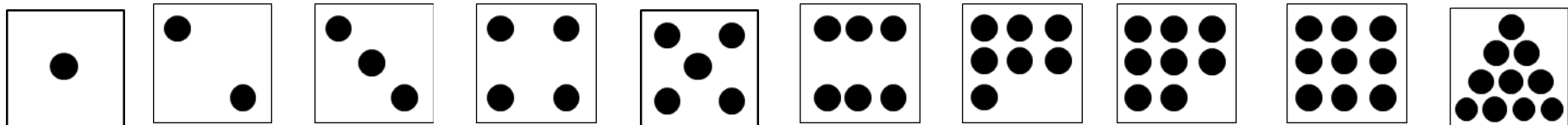
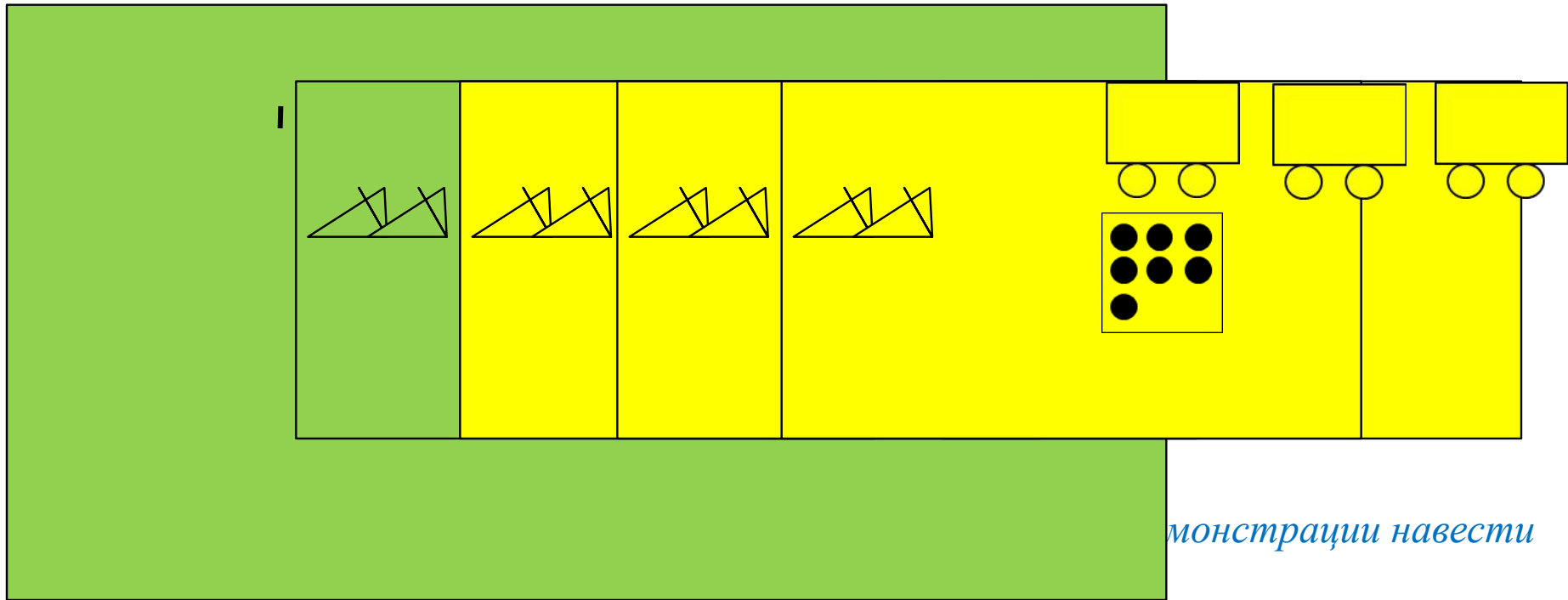
Сколько стало?



Урок 47. Число девять. Цифра 9

2. Сколько точек надо нарисовать Пете на последней карточке?

? Сколько всего вагонов? Какой по счёту последний?



Урок 47. Число девять. Цифра 9

3. Назови числа.



● ● ●	$1 + 8 = 9$
● ● ●	$8 + 1 = 9$

девять

● ● ●	$2 + 7 = 9$
● ● ●	$7 + 2 = 9$

девять


● ● ●	$3 + 6 = 9$
● ● ●	$6 + 3 = 9$

девять

● ● ●	$4 + 5 = 9$
● ● ●	$5 + 4 = 9$

девять

! Число девять записывают знаком - **цифрой 9.**

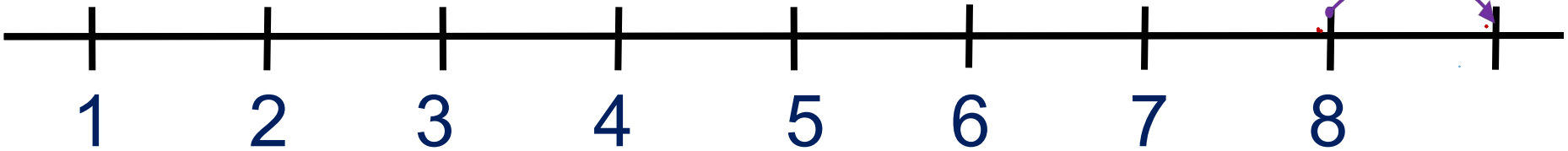


Урок 47. Число девять. Цифра 9

5. Какие равенства можно записать к рисункам?

Вправо - плюс

+1



Внимание!

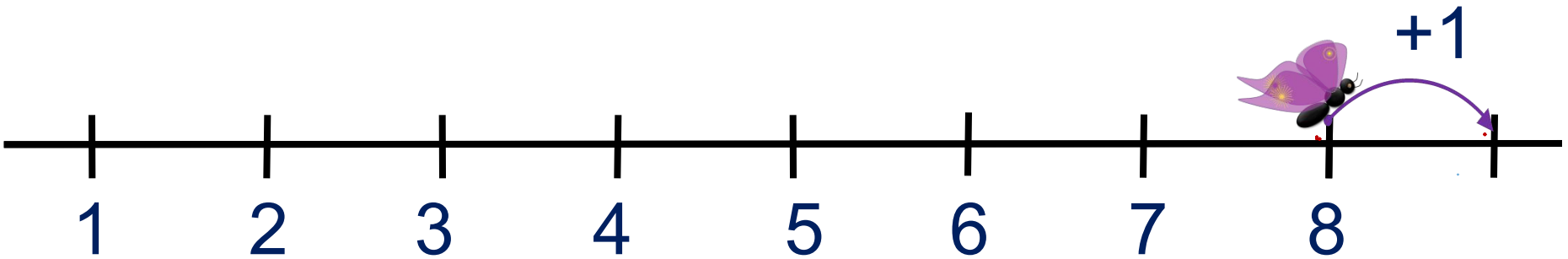
Данное задание можно выполнить интерактивно. Для этого презентацию надо перевести в режим редактирования.

1 2 3 4 5 6 7 8 9 + - =

Урок 47. Число девять. Цифра 9

5. Какие равенства можно записать к рисункам?

Вправо - плюс



ПРОВЕРЬ!

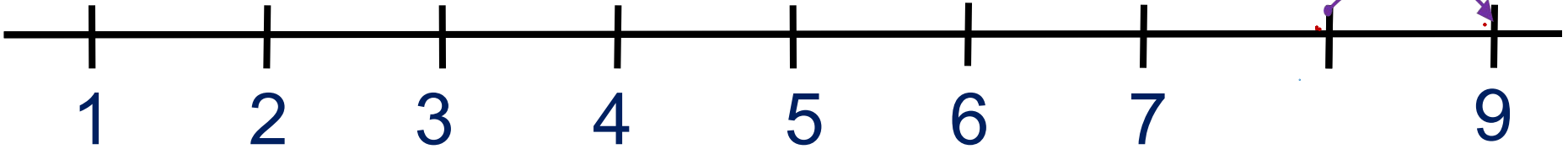
1 2 3 4 5 6 7 8 9 + - =

Урок 47. Число девять. Цифра 9

5. Какие равенства можно записать к рисункам?

Влево - минус

-1



Внимание!

Данное задание можно
выполнить
интерактивно.

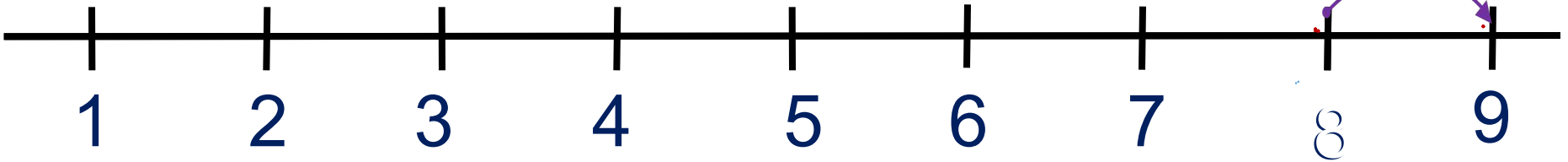
Для этого презентацию
надо перевести в режим
редактирования.

1 2 3 4 5 6 7 8 9 - + =

Урок 47. Число девять. Цифра 9

5. Какие равенства можно записать к рисункам?

Влево - минус

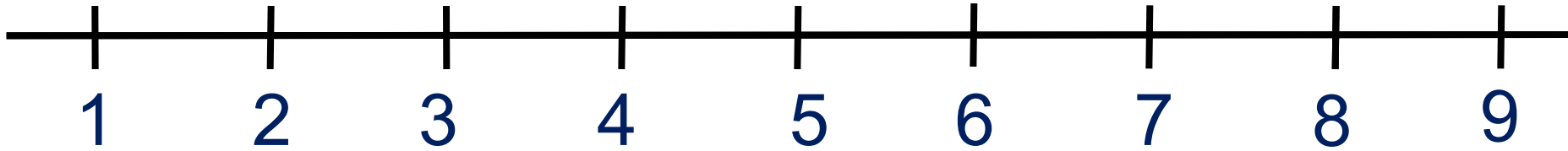


ПРОВЕРЬ!

1 2 3 4 5 6 7 8 9 - + =

Урок 47. Число девять. Цифра 9

6. Сравни числа ($>$, $<$, $=$)



1 9 9 8 2 9

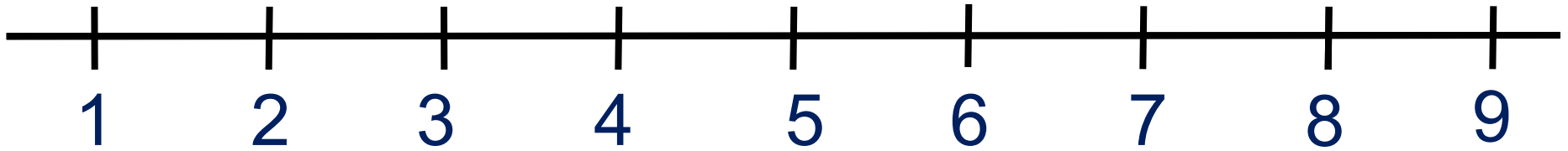
 3 9 9 6

Внимание!

Данное задание можно выполнить интерактивно. Для этого презентацию надо перевести в режим редактирования.

Урок 47. Число девять. Цифра 9

6. Сравни числа ($>$, $<$, $=$)



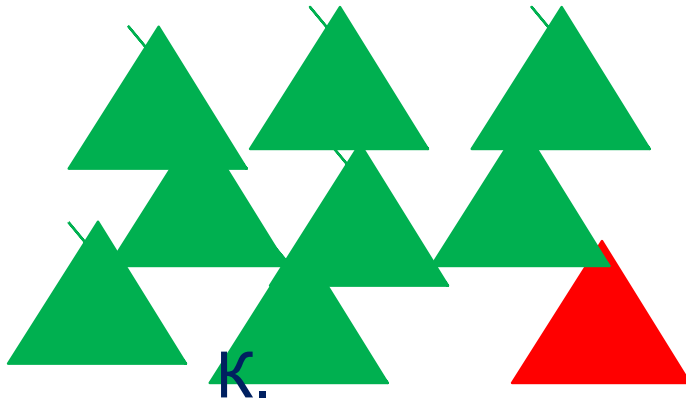
1 9 9 8 2 9

 3 9 9 6


ПРОВЕРЬ!

Урок 47. Число девять. Цифра 9

7. Помоги ребятам записать по 4 равенства к своим рисункам.



П.



Л.

Урок 47. Число девять. Цифра 9

7. Помоги ребятам записать по 4 равенства к своим рисункам.

К.

$$8 + 1 = 9$$

$$1 + 8 = 9$$

$$9 - 1 = 8$$

$$9 - 8 = 1$$

П.

Урок 47. Число девять. Цифра 9

7. Помоги ребятам записать по 4 равенства к своим рисункам.

К.

$$8 + 1 = 9$$

$$1 + 8 = 9$$

$$9 - 1 = 8$$

$$9 - 8 = 1$$

П.

$$7 + 2 = 9$$

$$2 + 7 = 9$$

$$9 - 7 = 2$$

$$9 - 2 = 7$$

Урок 47. Число девять. Цифра 9

7. Помоги ребятам записать по 4 равенства к своим рисункам.

В.

$$3 + 6 = 9$$

$$6 + 3 = 9$$

$$9 - 3 = 6$$

$$9 - 6 = 3$$

Л.

$$4 + 5 = 9$$

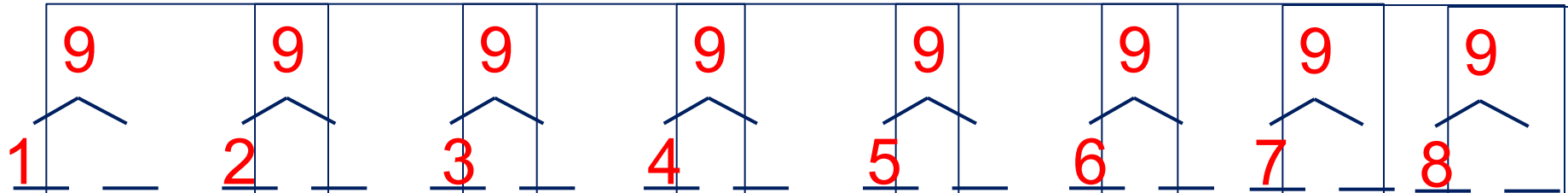
$$5 + 4 = 9$$

$$9 - 4 = 5$$

$$9 - 5 = 4$$

Урок 47. Число девять. Цифра 9

7. Расскажите о числе девять:



• Какие числа можно записать в «окошках»?

	1	2	3	4	5	6	7	8
9			6					1

Внимание!

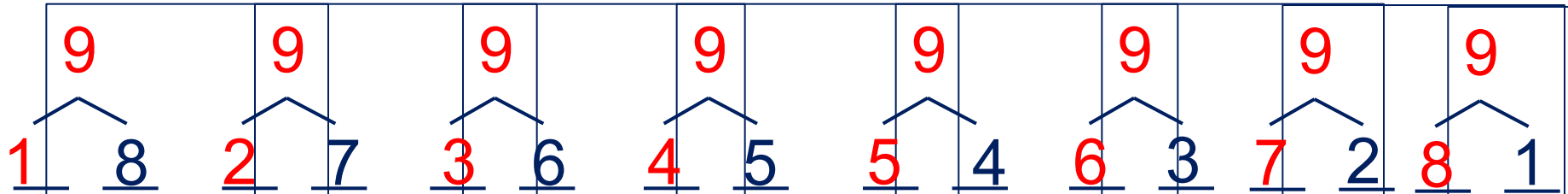
Данное задание можно выполнить интерактивно.

Для этого презентацию надо перевести в режим редактирования.


1 2 3 4 5 6 7 8 9

Урок 47. Число девять. Цифра 9

7• Расскажите о числе девять:



• Какие числа можно записать в «окошках»?



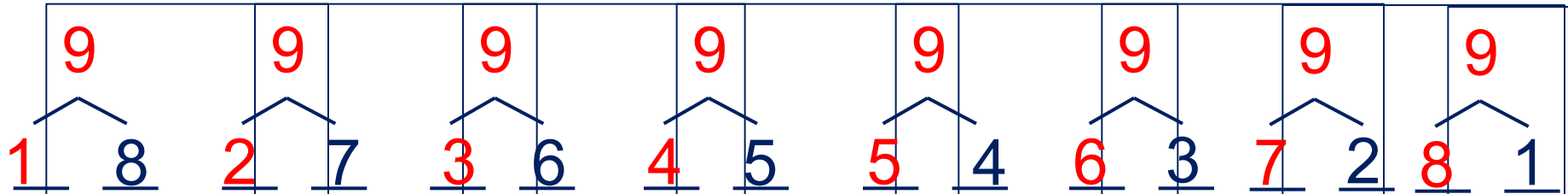
9	1	2	3	4	5	6	7	8
			6					1

1 2 3 4 5 6 7 8 9


ПРОВЕРЬ!

Урок 47. Число девять. Цифра 9

7• Расскажите о числе девять:



• Какие числа можно записать в «окошках»?



9	1	2	3	4	5	6	7	8
	8	7	6	5	4	3	2	1

1

6

9

ПРОВЕРЬ!

Спасибо!