



ЦВЕТИК - СЕМИЦВЕТИК



Лети, лети, лепесток,
Через запад на восток,
Через север, через юг,
Возвращайся, сделав
круг.
Лишь коснешься ты
земли,
Быть, по-моему, вели...




Лепесток лети-лети и игру нам принеси



Логическая разминка

- Куда войдет больше воды в трехлитровую банку или трехлитровый самовар?
- Оксана веселее Тани. Кто печальнее Оксаны?
- На одной странице нарисованы смородина и крыжовник. На другой – малина и апельсин. Что на второй странице не подходит к первой?
- Год назад Дима был старше Степы. Кто старше сейчас?

Лепесток лети-лети и игру нам принеси



Устный счёт.

$8 + 2 = 10$ ★

$6 + 4 = 10$ ★

$10 - 3 = 7$ ★

$10 - 2 = 8$ ★

$9 + 1 = 10$ ★

$10 + 0 = 10$ ★

$5 + 5 = 10$ ★

$10 - 7 = 3$ ★

$10 - 0 = 10$ ★

$10 - 6 = 4$ ★

$10 - 10 = 0$ ★



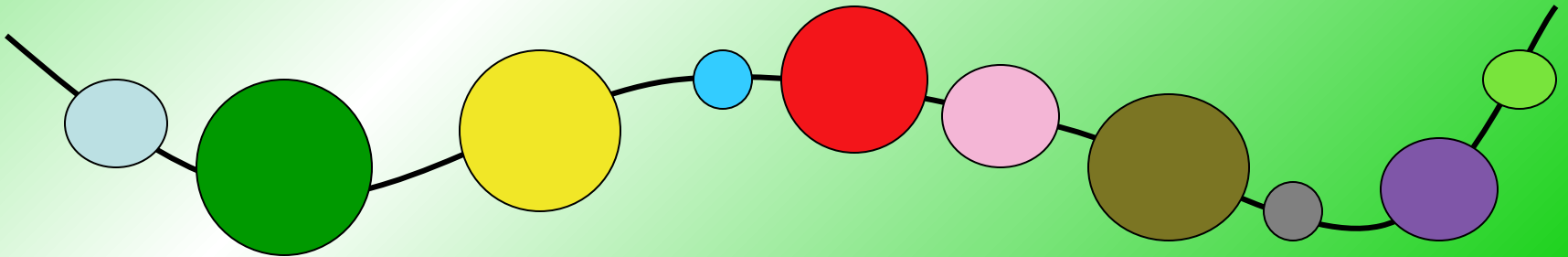

Число и цифра 10



ЗАЛ 1 ЭКРАН

Ряд 1	1	2	3	4	5	6	7	8	9	10	11	12	Ряд 1
Ряд 2	1	2	3	4	5	6	7	8	9	10	11	12	Ряд 2
Ряд 3	1	2	3	4	5	6	7	8	9	10	11	12	Ряд 3
Ряд 4	1	2	3	4	5	6	7	8	9	10	11	12	Ряд 4
Ряд 5	1	2	3	4	5	6	7	8	9	10	11	12	Ряд 5
Ряд 6	1	2	3	4	5	6	7	8	9	10			Ряд 6
Ряд 7	1	2	3	4	5	6	7	8	9	10			Ряд 7
Ряд 8	1	2	3	4	5	6	7	8	9	10			Ряд 8
Ряд 9	1	2	3	4	5	6	7	8	9	10			Ряд 9
Ряд 10	1	2	3	4	5	6	7	8	9	10	11	12	Ряд 10

Salut-Kino.ru








10	
1	<input type="text"/>
<input type="text"/>	8
3	<input type="text"/>
<input type="text"/>	6
5	<input type="text"/>



Лепесток лети-лети и игру нам принеси



10	1	2	3	4	5	6	7	8	9
	9	8	7	6	5	4	3	2	1

$$4+6 = 10$$

$$6+4=10$$

$$10-4=6$$

$$10-6= 4$$

№ 5 стр. 39

$$10 > 8$$

$$7 < 10$$

$$10 + 0 = 10 - 0$$

$$10 - 2 > 10 - 5$$

$$3 + 7 = 2 + 8$$

$$1 + 9 > 5 - 5$$

Лепесток лети-лети и игру нам принеси



№ 6 стр 39

$$a) \underline{x} + \underline{4} = \underline{10}$$

$$x = 10 - 4$$

$$x = 6$$

$$б) \underline{10} - \underline{x} = \underline{1}$$

$$x = 10 - 1$$

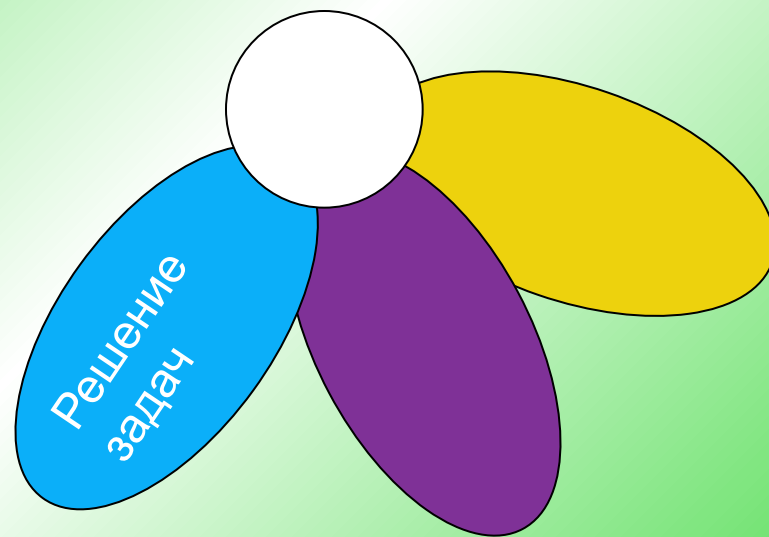
$$x = 9$$

$$в) \underline{x} - \underline{10} = \underline{0}$$

$$x = 10 + 0$$

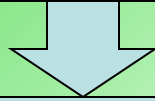
$$x = 10$$

Лепесток лети-лети и игру нам принеси

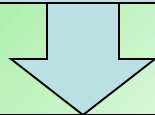


План работы над задачей.

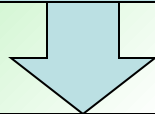
Текст



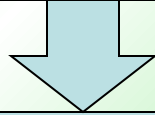
Анализ



Схема




Выбор решения



Ответ



А) ? т.

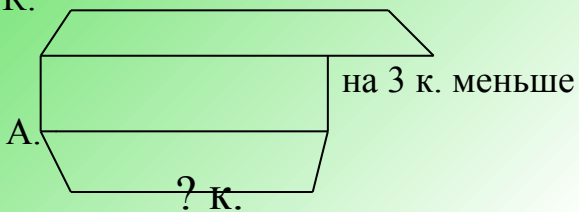


$$4 + 6 = 10 \text{ (т.)}$$

Ответ: 10 тетрадей.

10 к.

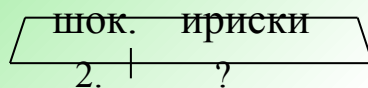
Б) К.



$$10 - 3 = 7 \text{ (к.)}$$

Ответ: 7 карандашей.

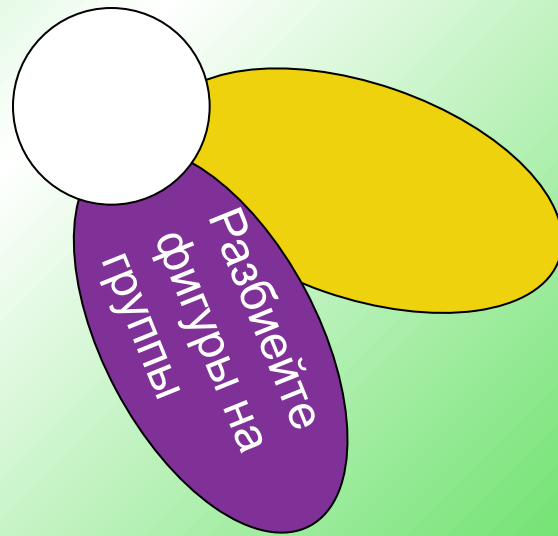
В) 10 к.



$$10 - 2 = 8 \text{ (ир.)}$$

Ответ: 8 ирисок.

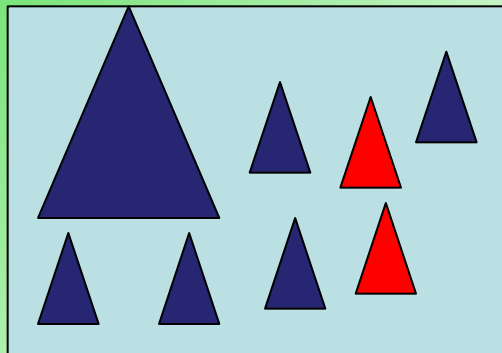
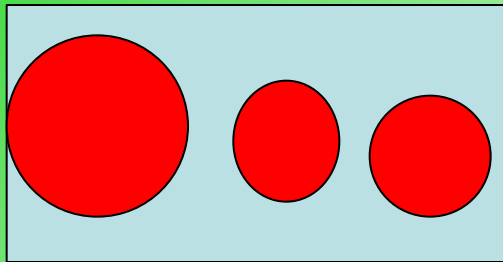
Лепесток лети-лети и игру нам принеси



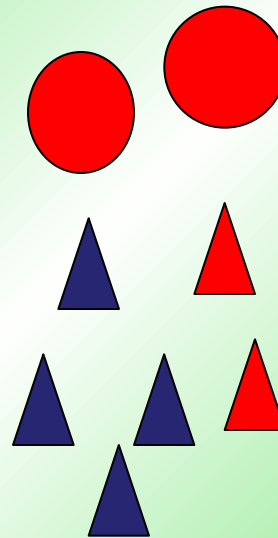
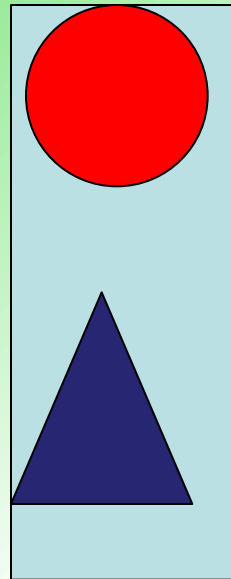
№ 1 стр 38




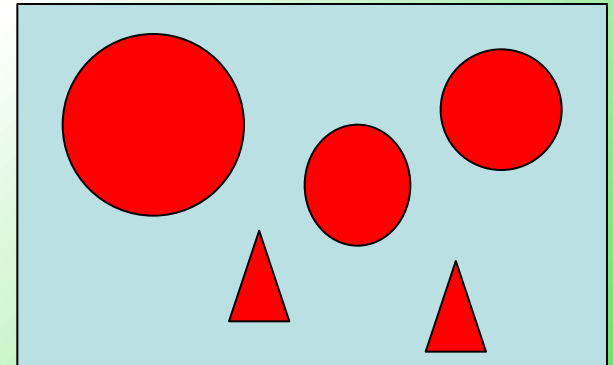
A) 3+7



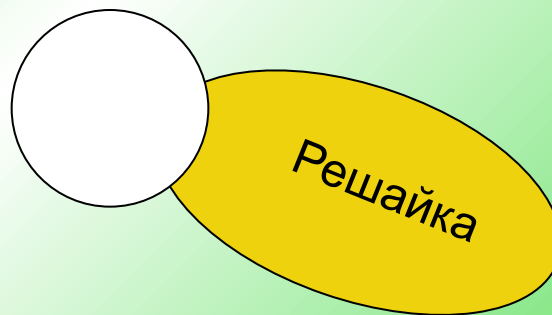
Б) 2+8



В) 5+5



Лепесток лети-лети и игру нам принеси



Выполни задание.

$$10 - 8 =$$

$$9 + 1 =$$

$$8 - 2 + 4 =$$

$$10 - \square = 4$$

$$\square + 5 = 10$$

$$7 + \square = 10$$

**Придумай
и
реши
3 примера
с числом
10.**

Проверь!

$$10 - 8 = 2$$

$$9 + 1 = 10$$

$$10 - 7 = 3$$

$$8 - 2 + 4 = 10$$

$$10 - 6 = 4$$

$$5 + 5 = 10$$

$$7 + 3 = 10$$

$$10 - 8 = 2$$

?

МОЛОДЦЫ!



Спасибо



за внимание