



Число 3

Цифра 3

Разминка

- Назови третий день недели.

среда

- Назови самый короткий месяц в году.

февраль

- Сколько всего месяцев в году?

12




- Назови 5 любых городов.

- Какой день недели был вчера?

четверг




- Красный домик выше зелёного, но ниже жёлтого. Какой домик самый высокий? Какой домик самый низкий?




В туесочке есть грибы,
Посчитать их помоги.
Мухомор красный – гриб опасный,
Лисичка – рыжая косичка,
Волнушка – розовое ушко,
Сморчок – бородатый старичок,
Ну, а это – белый, ешь его смело.






1




2



3





Цифра **Три**, гибкая, как змея.
А еще Три - брат близнец буквы З



3

три

Тройке рады редко:
Так себе отметка.

$1+2=4$

$2+6=8$

$3+2=5$

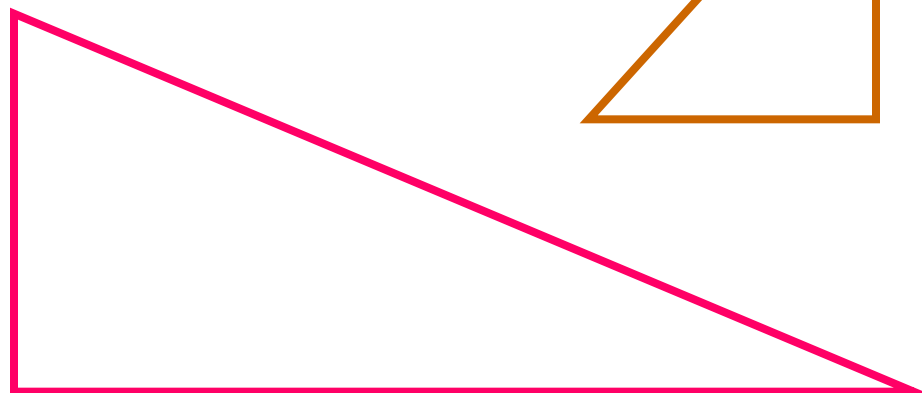

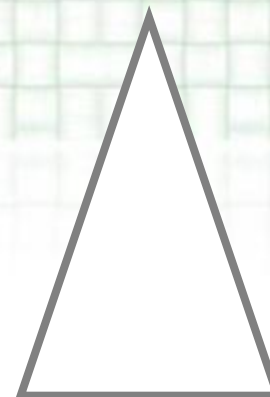
$7+3=9$

$2+8=10$

$5+3=8$

$4+6=11$


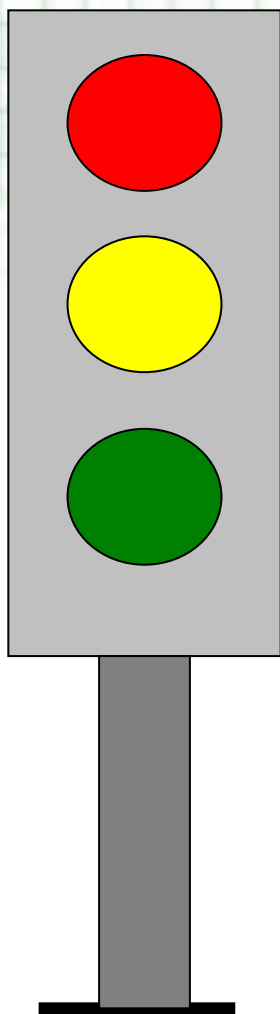
3



Такие **треугольники**
Нарисовали школьники!



3



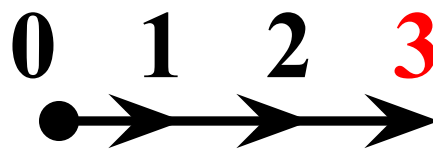

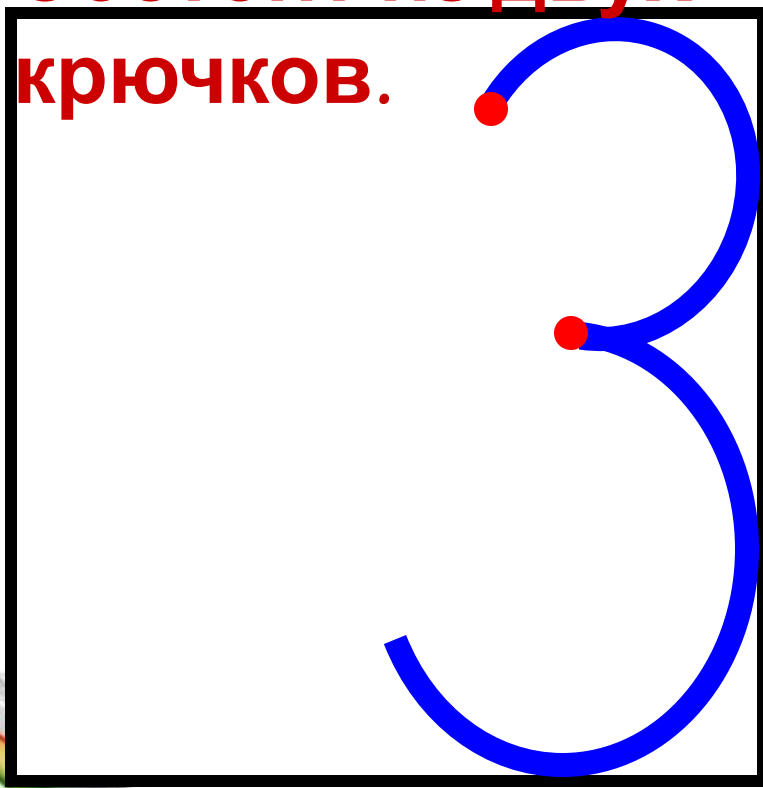
Три колеса на детском велосипеде.

Три света у светофора.

У клевера три листика.





А вот это посмотри,
Выступает цифра три.
Тройка – третий из
значков -
Состоит из двух
крючков.



Электронная физминутка для глаз

«Крошка Енот»





КАК
НАБРАТЬ
МОНЕТАМИ
3 Р.?



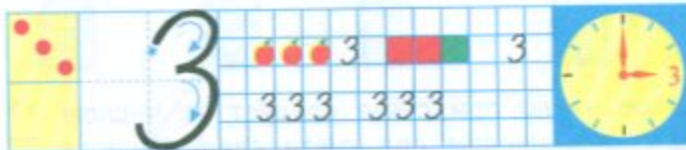
Два да один — это □.
Три без одного — это □.

1 2 3



Расскажи по рисунку, о ком или о чём можно сказать: 2 да 1 — это 3.


Сколько?



равни, что больше, а что меньше:



Расскажи по картинке, чего больше, чего меньше, чего поровну.



Объясни, что можно сделать, чтобы всех игрушек стало поровну. Укажи два способа.

Разбей эти предметы на 2 группы. Сколько предметов в каждой группе?

Какое число при счёте называют: сразу после числа 2? между числами 1 и 3?

Какое число закрыто карточкой?

3 — это 2 и □.

КАК
НАБРАТЬ
МОНЕТАМИ
3 Р.?



Два да один — это .
Три без одного — это .

1

2

3



Расскажи по рисунку, о ком или о чём
можно сказать: 2 да 1 — это 3.

Сколько?



3



3

3 3 3

3 3 3



26



Сравни, что больше, а что меньше:



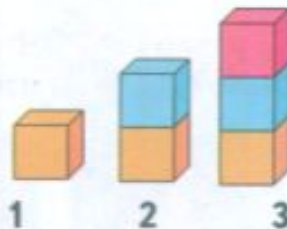
1 или 2?



3 или 2?



3 или 1?

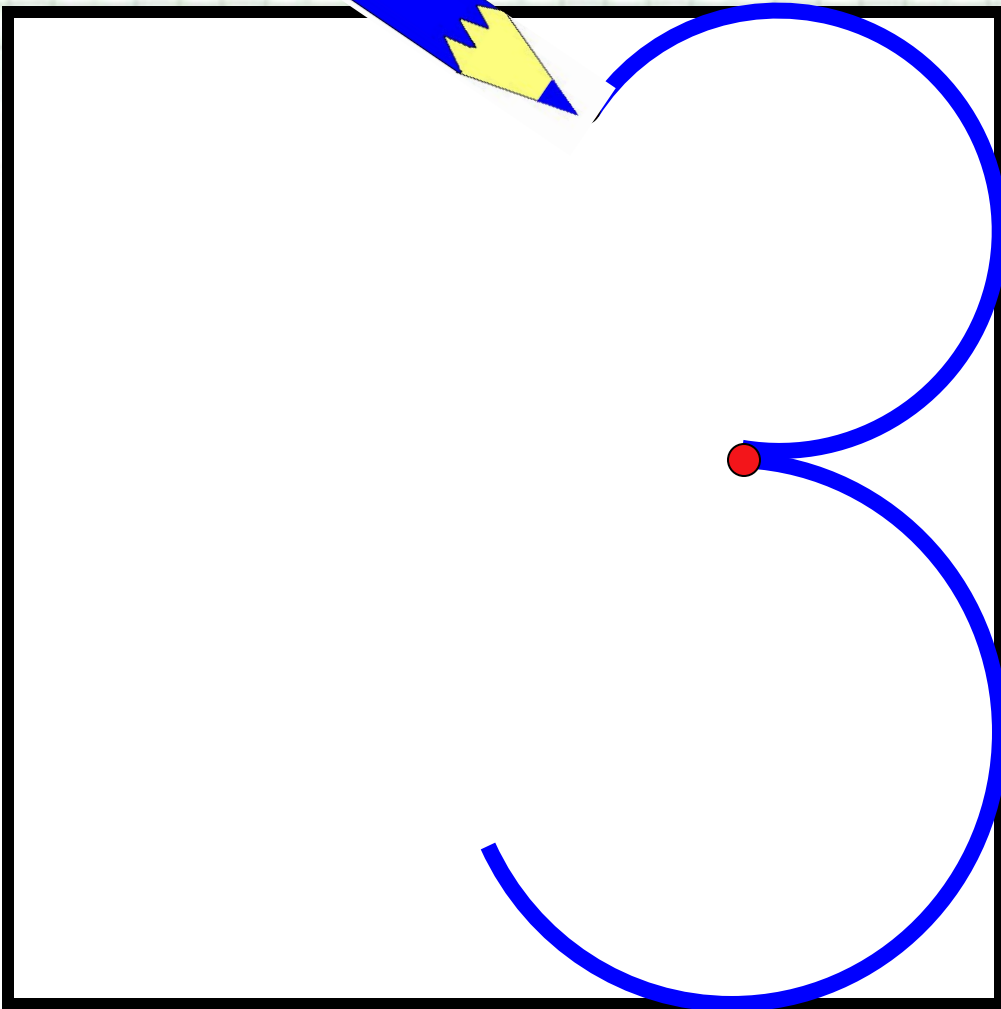


Расскажи по картинке, чего больше, чего меньше, чего поровну.

Объясни, что можно сделать, чтобы всех игрушек стало поровну. Укажи два способа.

Разбей эти предметы на 2 группы. Сколько предметов в каждой группе?







М.И. Моро С.И. Волкова



Математика

Рабочая тетрадь



Blank writing area with lines

1



Часть 1



ПРОСВЕЩЕНИЕ



1 2 3



Раскрась столько кружков, сколько собак.



Нарисуй столько морковок, или яблок, или грибочков, сколько указано цифрами.



1



2



3



READING IS FUN FOR








1

<

3






2

<

3






3

>

1








3

>

2





3

=

3



