


# Число и цифра 5



Учитель начальных  
классов ГБОУ №411  
Хорошевцева  
Татьяна Васильевна


# МОТИВАЦИЯ

---

Один, два, три, четыре, пять!  
Дети в лес пошли гулять.  
И увидели ребята  
Возле пня грибы - опята.  
Стали их они считать:  
Один, два, три, четыре, пять.  
Ребятишкам повезло:  
5 – хорошее число!

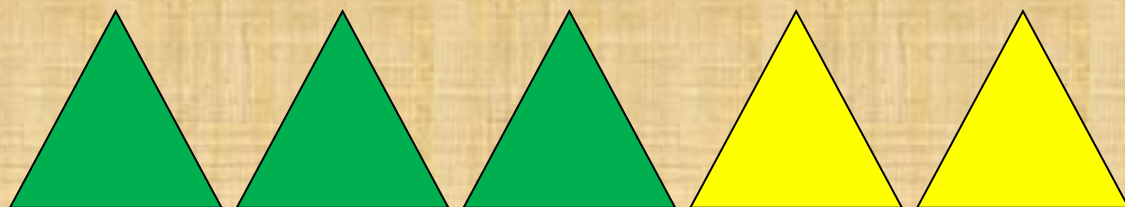
Л. Ульяницкая

# КАК СВЯЗАНЫ КАРТИНКИ И ЗАПИСИ



$$4 + 1 = 5$$


$$5 - 1 = 4$$



$$3 + 2 = 5$$


$$5 - 2 = 3$$

# СОСТАВЬТЕ МАТЕМАТИЧЕСКУЮ ЗАПИСЬ



$$1 + 4 = 5$$


$$4 + 1 = 5$$



$$2 + 3 = 5$$

$$3 + 2 = 5$$

# РАБОТА ПО УЧЕБНИКУ



НАЗОВИ ЧИСЛА ПО ПОРЯДКУ,  
НАЧИНАЯ С САМОГО БОЛЬШОГО.

3 4 5 1 2

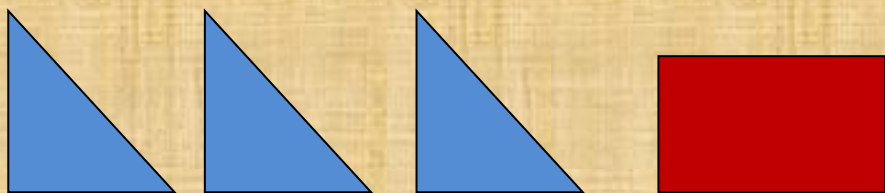
5 4 3 2 1

2 5 3 1 4

# СОСТАВИТЬ ВЫРАЖЕНИЯ ПО РИСУНКАМ



$$2+3=5 \quad 3+2=5 \quad 5-2=3 \quad 5-3=2$$



$$1+3=4 \quad 3+1=4 \quad 4-1=3 \quad 4-3=1$$

ТЫ ДА Я, ДА МЫ С ТОБОЙ.  
СКОЛЬКО НАС ВСЕГО?


---






# СОСТАВЬТЕ КВАДРАТ

---



# КВАДРАТ ИЗ ДВУХ ПАЛОЧЕК

---



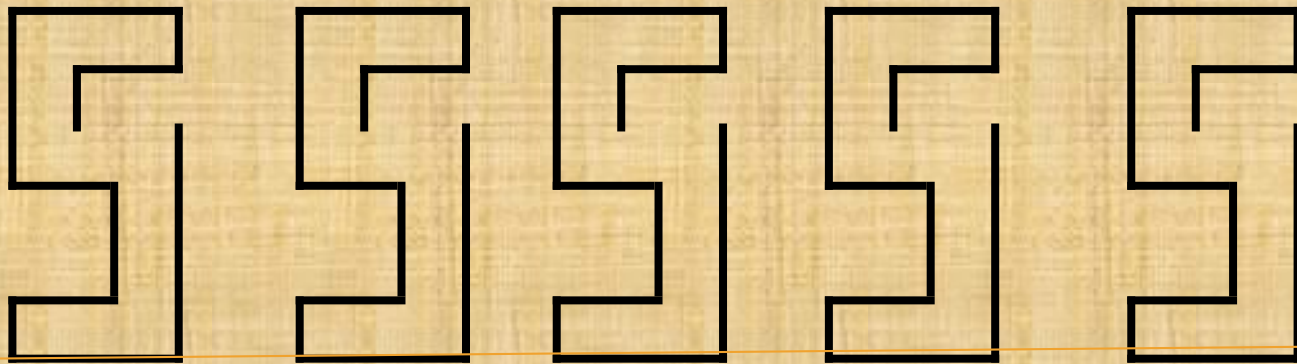
# ГРАФИЧЕСКИЙ ДИКТАНТ

---



# ГРАФИЧЕСКИЙ ДИКТАНТ

---

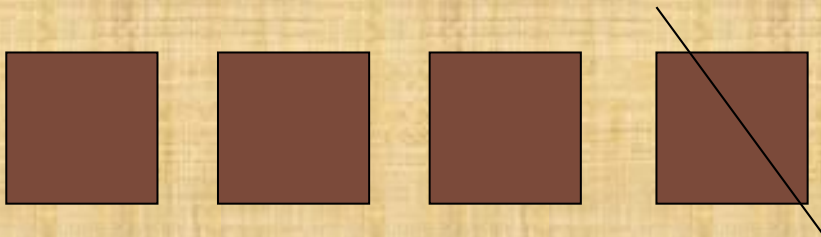


# ГРАФИЧЕСКИЙ ДИКТАНТ

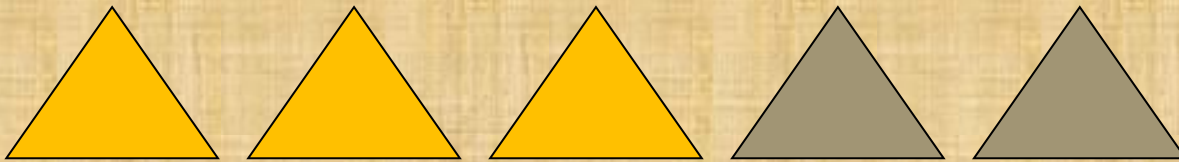
---



# СОСТАВЬТЕ ВЫРАЖЕНИЯ ПО РИСУНКУ



$$4 - 1 = 3$$



$$3 + 2 = 5$$

# ИСТОЧНИКИ

---

1. Агаркова Н.В. Нескучная математика. 1-4 классы. Занимательные материалы. – Волгоград: Учитель, 2008. – 128с.
2. Берестова Е. В. Математика. 1 класс. Найди ошибку. Занимательные задания. М.: Эксмо, 2007. – 96 с.
3. Моро М. И. , Волкова С. И. , Степанова С. В. Математика. 1 класс. В 2 частях. Часть 1. – М.: Просвещение, 2011. – 112с.