

Число 5

Цифра 5




*Начинаем мы опять
Решать, отгадывать,
смекаать!*

*Пожелаем всем удачи -
За работу, в добрый час!*




*Установите закономерность и
продолжите ряд.*

1 3 5 7 9



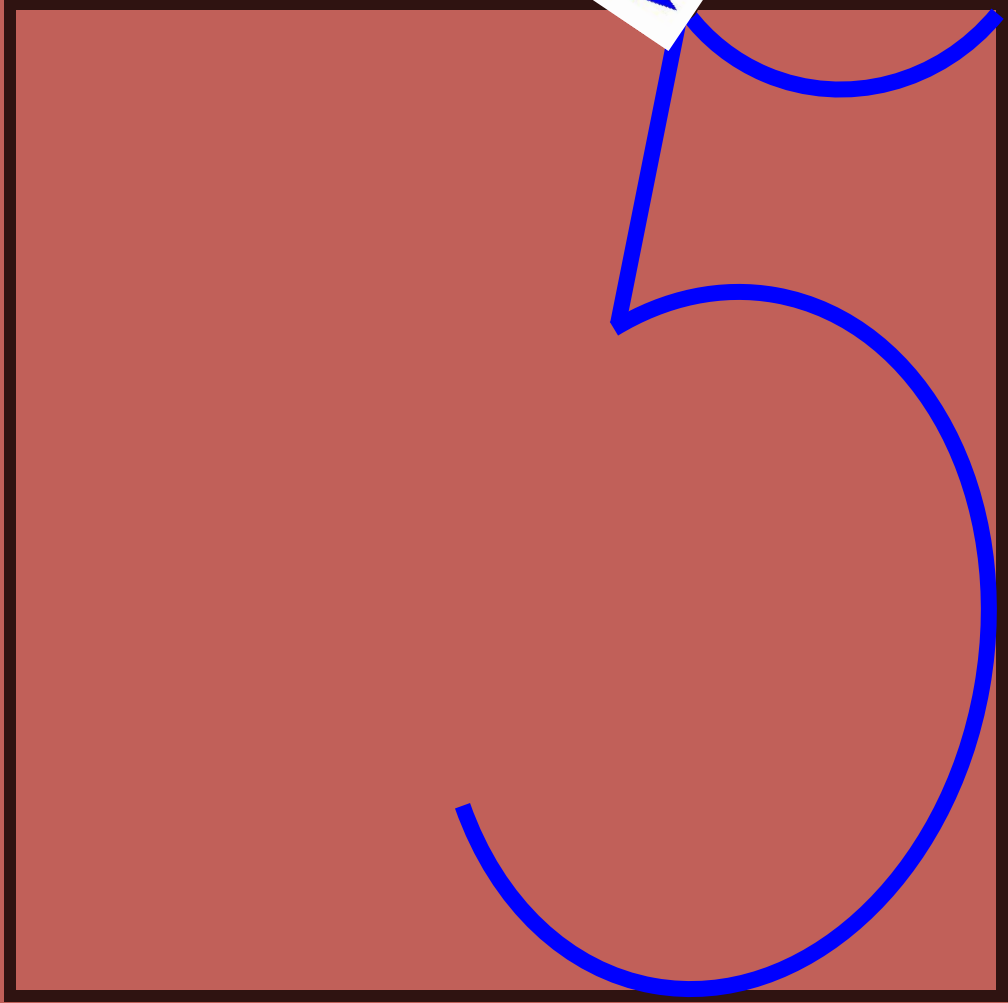
*«Потерялись» числа.
Восстановите цепочку.*


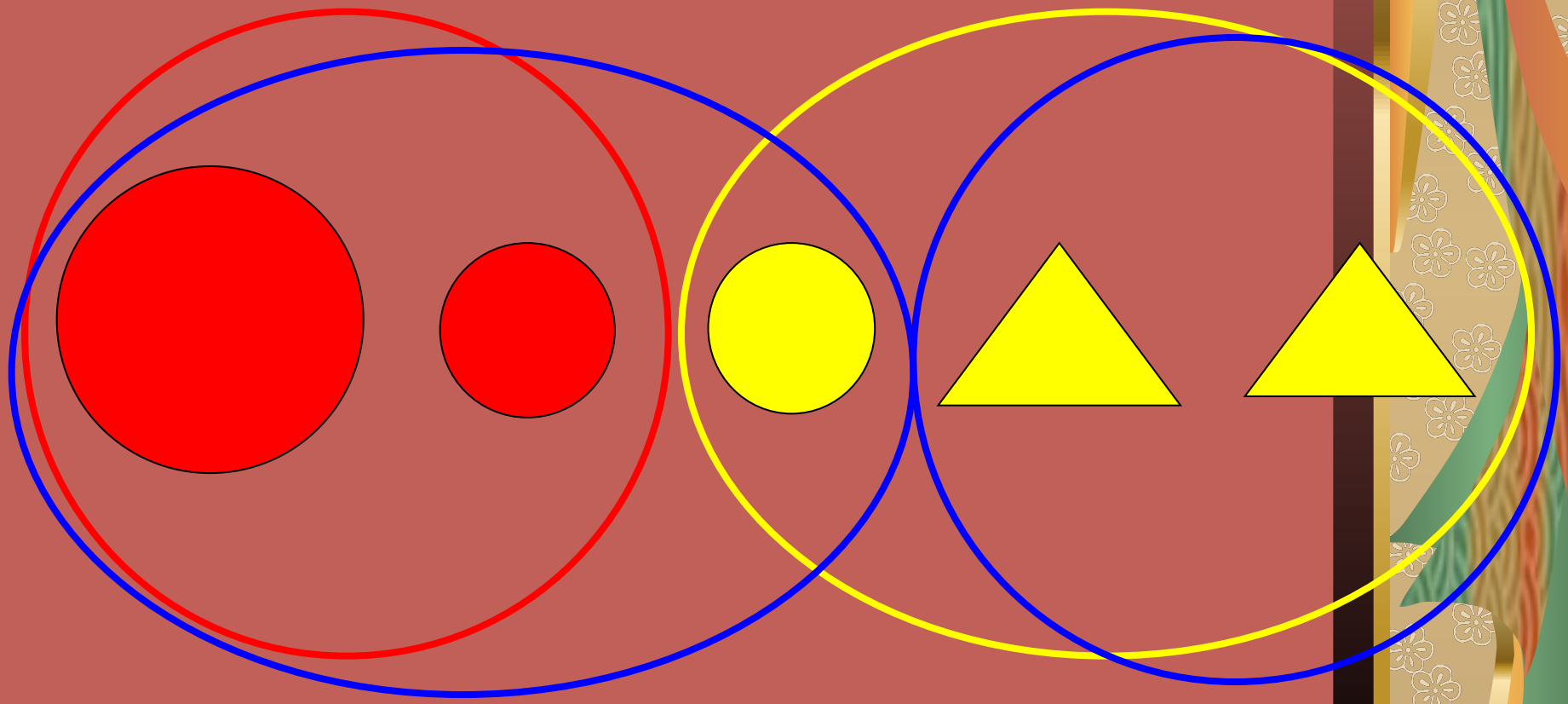
1 2 3 4 5 6 7 8 9








Гном загадалка



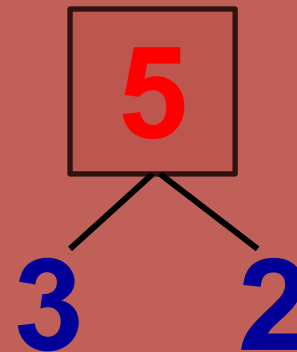
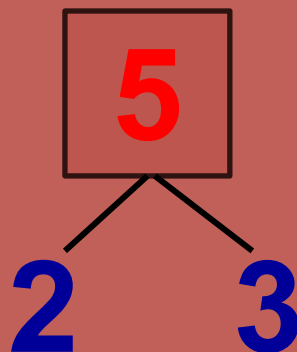
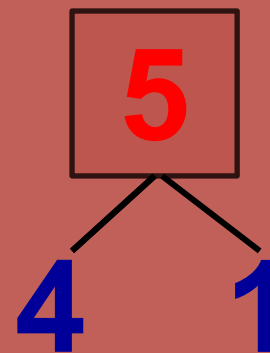
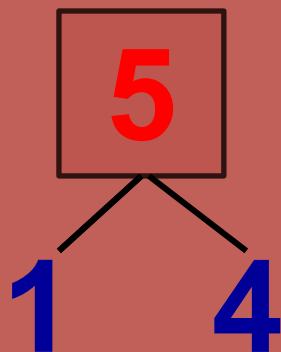




Модель числа 5



Состав числа пять



$1 \square 4 = 5$


$3 \square 2 = 5$

$4 \square 1 = 5$

$5 \square 4 = 1$

$\square 3 = 2$

$5 \square 1 = 4$



Проверь решение!

$$1 + 4 = 5$$

$$3 + 2 = 5$$

$$5 - 4 = 1$$

$$5 - 3 = 2$$

$$4 + 1 = 5$$

$$5 - 1 = 4$$




**Составить задачу по
картинке
и решить её**



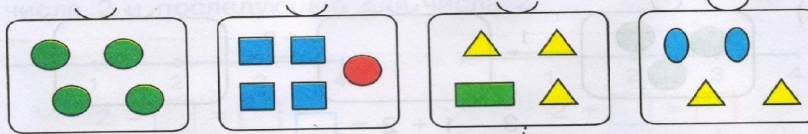
$$3+2=5$$

**Составить задачу по
картинке
и решить её**




$$4 - 1 = 3$$

1 а) Подбери выражения и проведи линии.



- 4
- 1 + 3
- 2 + 2
- 4 + 1

б) Запиши число $4 + 1$ с помощью точек и с помощью цифры, затем отметь его на числовом отрезке.




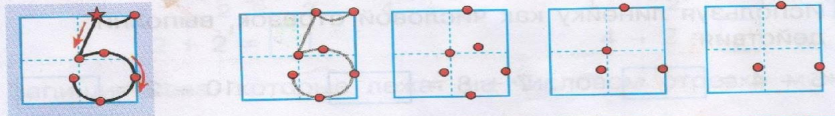
Что ты пока не знаешь?
Поставь перед собой учебную цель.

в) Изучи число 5 по плану:

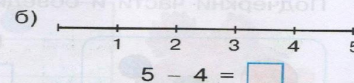
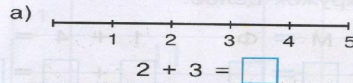
1. Запись цифры 5.
2. Место числа 5 на числовом отрезке.
3. Состав числа 5.




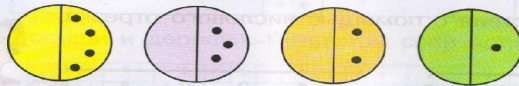
2 Пользуясь образцом, дорисуй пропущенные опорные точки и запиши цифру 5.



3 Выполни действия на числовом отрезке:








4 Дорисуй точки на свободных половинках, если всего в каждом круге по 5 точек. На какие части можно разбить число 5?

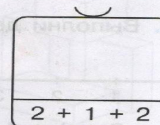
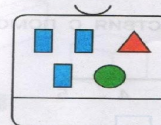
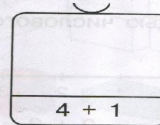
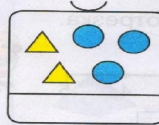


Заполни домик числа 5.

5

				
<input type="checkbox"/> <input type="checkbox"/> <input type="checkbox"/> <input type="checkbox"/> <input type="checkbox"/>	1 2 3 4 5	1 2 3 4 5	1 2 3 4 5	1 2 3 4 5

6 Запиши выражения и сделай рисунки.



7* Используя линейку как числовой отрезок, выполни действия.

$9 - 1 = \square$

$5 + 5 = \square$

$10 - 4 = \square$

Налитая,

Симпатичная.

Цифра

Самая отличная!

5



Крылатые выражения:

*Как свои 5 пальцев –
знать очень хорошо, основательно.*

*Пятое колесо в телеге –
лишний, ненужный в каком-либо
деле человек.*



5

Что с...е


шцы,

Украин...адь?

Ч...м

зодит

Ну...рой...



Спасибо за урок!

