


Тема

Число и

цифра

урок



Подготовил: учитель начальных
классов
МБОУ СШ №16
Васильева Ирина Михайловна



Прозвенел и смолк звонок,
Начинается урок



Мыслительная минутка



Сосчитай!

$$5 + 1 = 6$$

$$2 + 2 = 4$$

$$2 + 1 = 3$$

$$4 + 2 = 6$$

$$4 + 1 = 5$$

$$3 + 2 = 5$$

$$3 + 1 = 4$$

$$1 + 2 = 3$$



Загадки



Братцев этих ровно семь.
Вам они известны всем.
Каждую неделю кругом
Ходят братцы друг за
другом.

Попрощается последний –
Появляется передний.



Дни недели

Понедельник

Среда

Вторник

Четверг

Пятница

Суббота

Воскресенье



КАЖДЫЙ

ОХОТНИК

ЖЕЛАЕТ

ЗНАТЬ,

ГДЕ

СИДИТ

ФАЗАН

МАГИЯ ЧИСЛА

- **7 дней недели : понедельник, вторник, среда, четверг, пятница, суббота, воскресенье;**
- **7 чудес света;**
- **7 «отверстий» в голове (2 уха, 2 глаза, 2 ноздри, рот);**
- **7 цветов радуги.**


Сказки






ОТДОХНИ !!!






5




На каком из этих двух рисунков изображено 7 предметов?




$$5 + 2 = 7$$

$$2 + 5 = 7$$



$$4 + 3 = 7$$

$$3 + 4 = 7$$



$$6 + 1 = 7$$

$$1 + 6 = 7$$





7	
1	6
2	5
3	4
4	3
5	2
6	1

Синквейн.

Число.

молодцы
ы!

