

МАТЕМАТИК



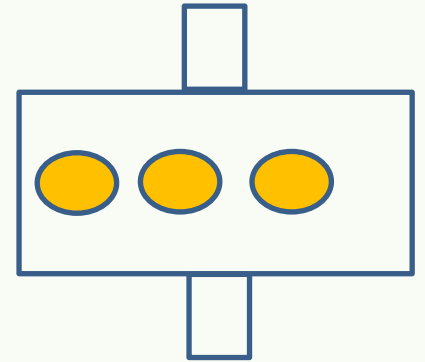
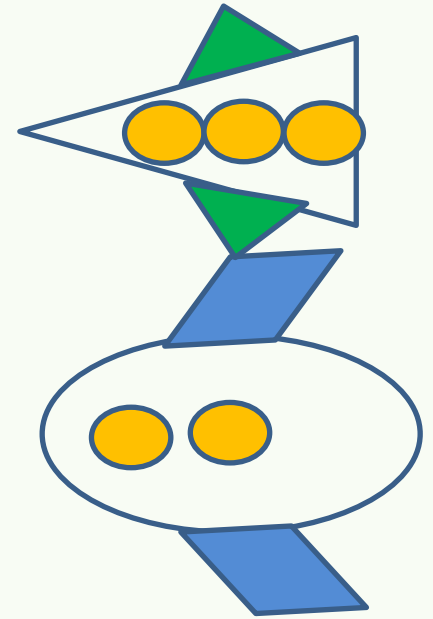
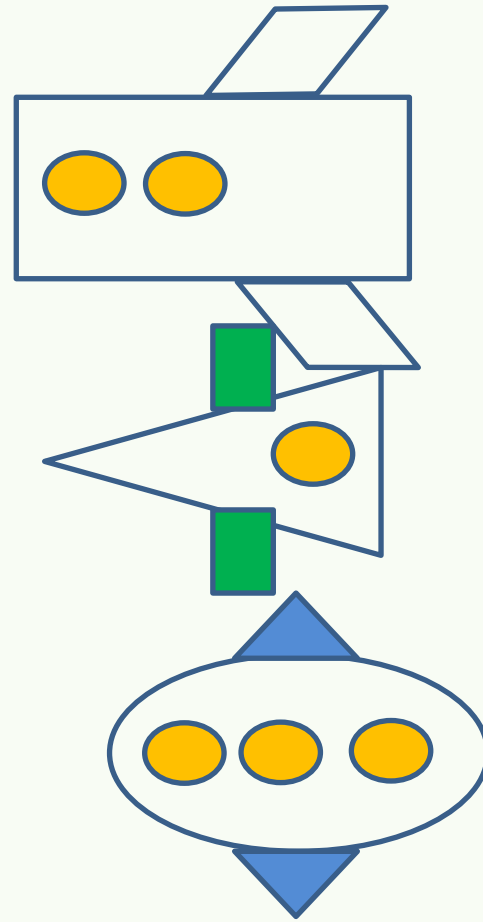
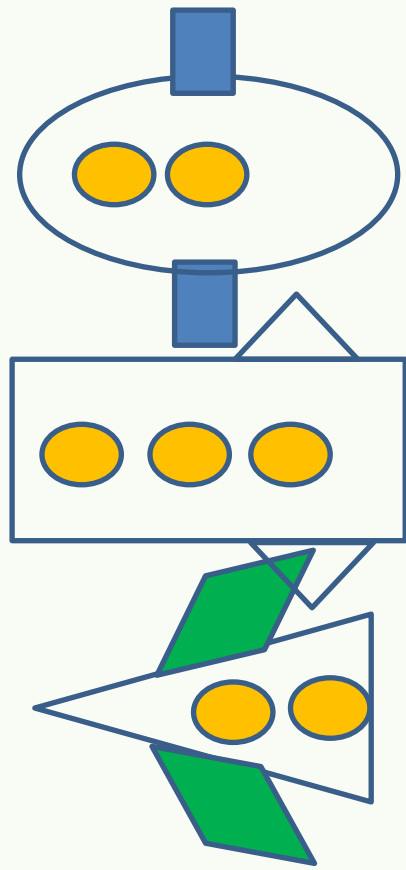
Thursday

Четве

рг

Тема:

Число и цифра 8.



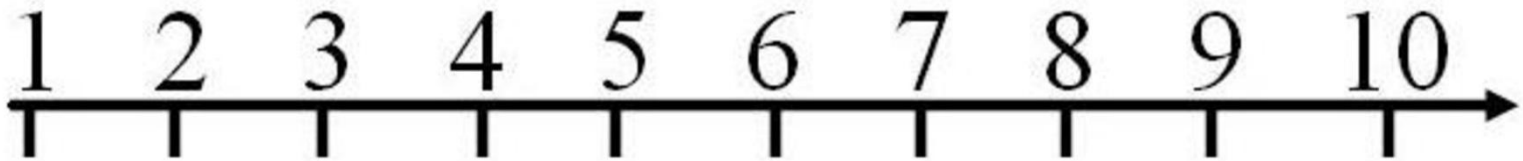


ПОКАЖИ СКОЛЬКО...



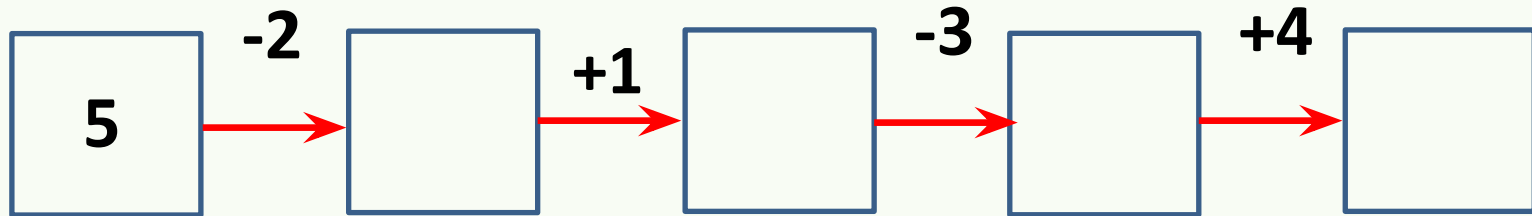


Поставьте числа в порядке возрастания **3 6 5 2 7**.
Какое число состоит из **2** и **3**?





Считаем в
уме.



КЛЕТОЧКА

4 клеточки, на 5-пишем


$$5 \text{ (circle)} \square = 6$$

$$6 \text{ (circle)} \square = 7$$

$$7 \text{ (circle)} \square = 6$$

$$6 \text{ (circle)} \square = 5$$

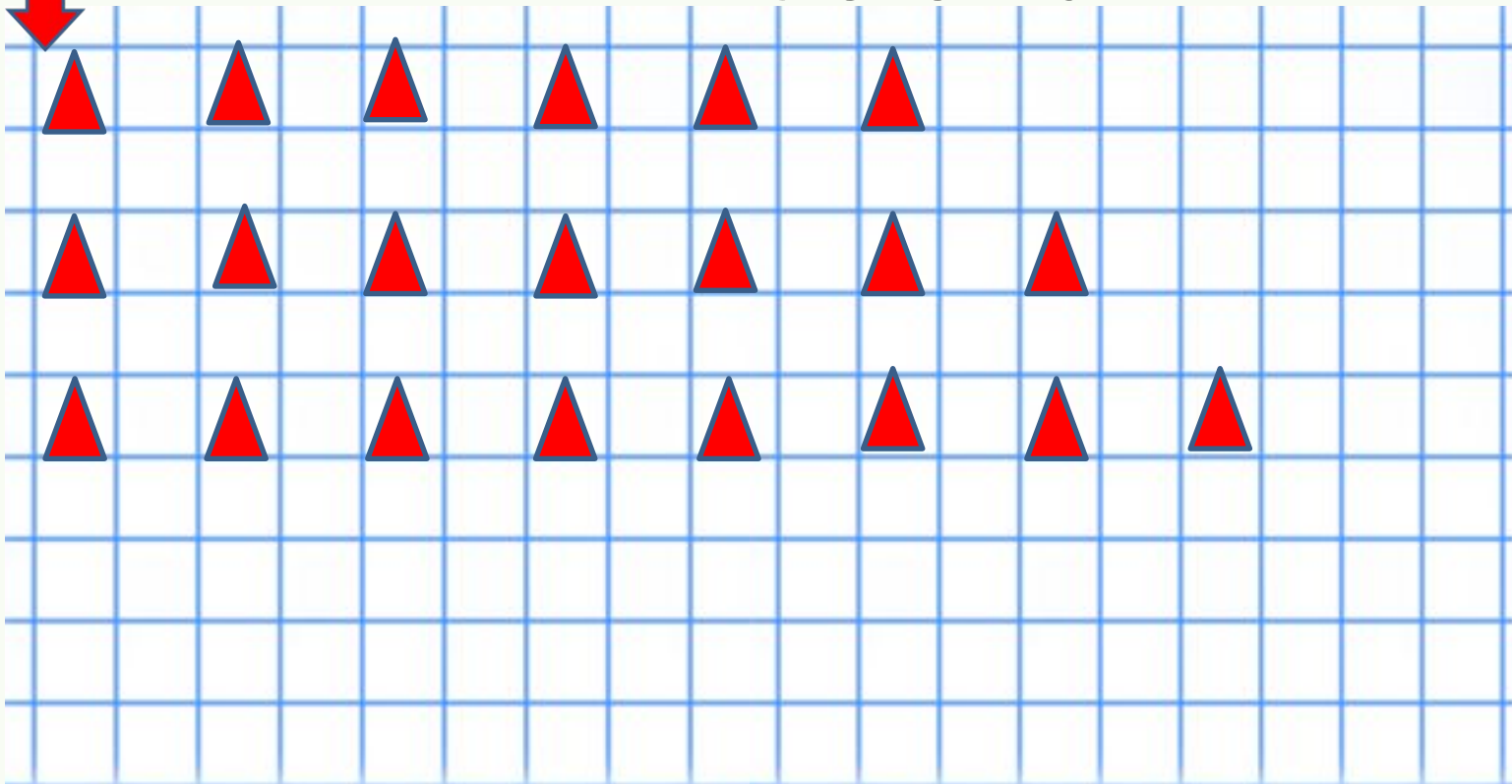


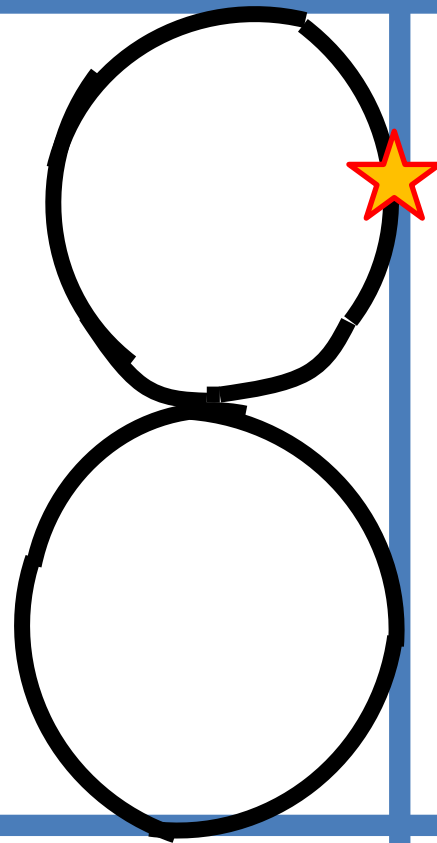
Какое число надо прибавить или
убрать,
чтобы получить данный ответ.

КЛЕТЧКА

1

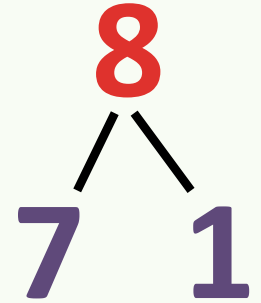
клеточка







Положите



Отодвиньте



.

8 8 8

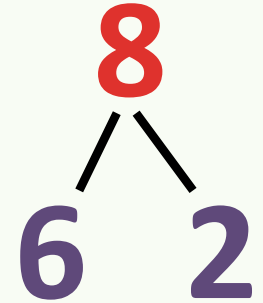
$$7 + 1 = 8$$

1
клеточка





Положите



Отодвиньте



.

$$7 + 1 = 8$$

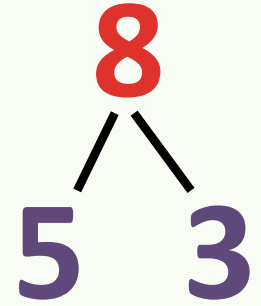
$$6 + 2 = 8$$

1
клеточка





Положите



Отодвиньте



.

$$7 + 1 = 8$$

$$6 + 2 = 8$$

$$5 + 3 = 8$$

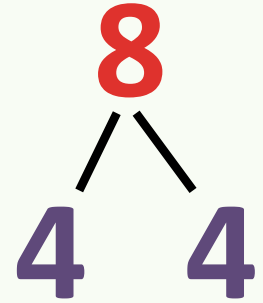
1

клеточка





Положите



Отодвиньте



.


$$7 + 1 = 8$$

$$6 + 2 = 8$$

$$5 + 3 = 8$$

$$4 + 4 = 8$$

1
клеточка

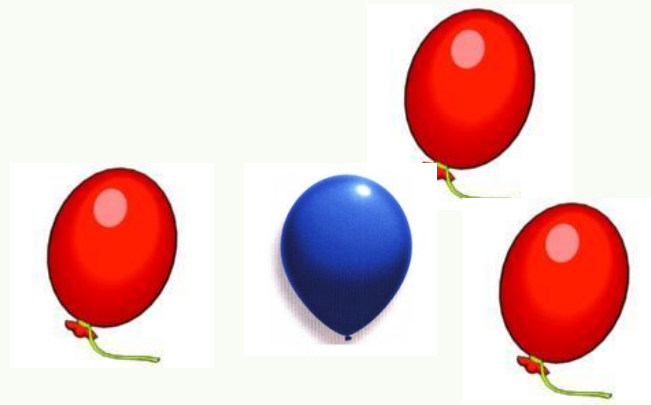


$$\begin{array}{r} \textcircled{1} \\ \textcircled{2} \\ \textcircled{3} \\ \textcircled{4} \end{array} + \begin{array}{r} \textcircled{7} \\ \textcircled{6} \\ \textcircled{5} \\ \textcircled{4} \end{array}$$

На левой руке пальчик добавляем, на правой – убираем.



ЗАДАЧА А



УСЛОВИЕ

ВОПРОС

РЕШЕНИЕ

СКОЛЬКО

$$3 + 1 = 4$$

4

шарика

ОТВЕТ
Постарайся запомнить из чего состоит
любая
задача.



стр.5
6



Придумайте задачу




Проблема
(решение)
 $3 + 2 = 5$ (п.)



КЛЕТОЧКА

2 клеточки от
задачи



4кл



$$2 + 3 =$$

$$1 + 4 =$$

$$5 - 3$$

$$5 : \dots =$$

$$= \dots$$

$$\dots$$

стр.5

6



Что нового узнали на уроке?



