



3 4 0
2 6 1 7
5

0

Вот это ноль иль
ничего



1

Вот один, иль единица, очень тонкая,
как спица



А вот это цифра два. Полюбуйся,
какова:
Выгибает двойка шею, волочится хвост
за нею.



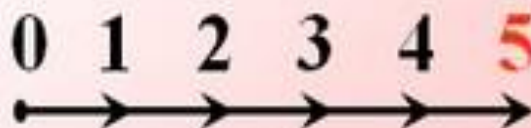
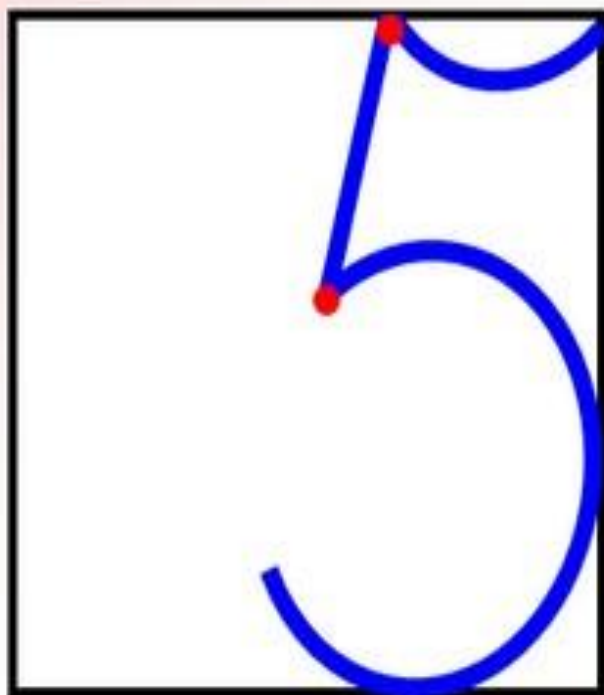
А за двойкой - посмотри - выступает цифра
три .



Тройка - третий из значков - состоит из
двух крючков.




За тремя идет четыре,
острый локоть оттопыря.

*А потом пошла плясать
По бумаге цифра пять.
Руку вправо протянула,
Ножку круто изогнула.*





Цифра шесть - дверной замочек:
Сверху крюк, внизу крючочек



Вот семерка - кочерга. У неё одна нога.

Молодцы !
Правильно составили числовой ряд
до семи.



0 1 2 3 4 5 6 7



DenSvi.com

У восьмёрки два кольца.
Без начала и конца.

Как получить число 8?



Я расскажу вам





www.dreamstime.com

www.dreamstime.com


www.dreamstime.com

www.dreamstime.com

www.dreamstime.com

www.dreamstime.com

www.dreamstime.com



www.dreamstime.com

7

1

8



6

2

8



8

7

1


6

2



?

На что похожа
цифра 8 ?





**Остановка
«Математических
задач»**

Зайчики и ёжик

Ушки над бугром торчат...
Пара — это зайка.
Сколько за бугром зайчат?

Ну-ка, сосчитай-ка!
И на той же кочке
Сосчитай цветочки.





Я нашёл в дупле у
белки

Семь (7) лесных орехов
мелких,

Вот ещё **один (1)** лежит.
Ну и белка! Вот
хозяйка!

Ты орешки сосчитай-ка!



Придумайте и решите
задачу

Придумай и реши задачу по картинке.



1 2 3 4 5 6 7 8 9

$$\square - \square = \square$$

ПРОВЕРКА



Задача.

В тарелке лежало 8 рыб. Кот съел 6 рыб.

Сколько рыб осталось в тарелке?

Решение

$$8 - 6 = 2$$

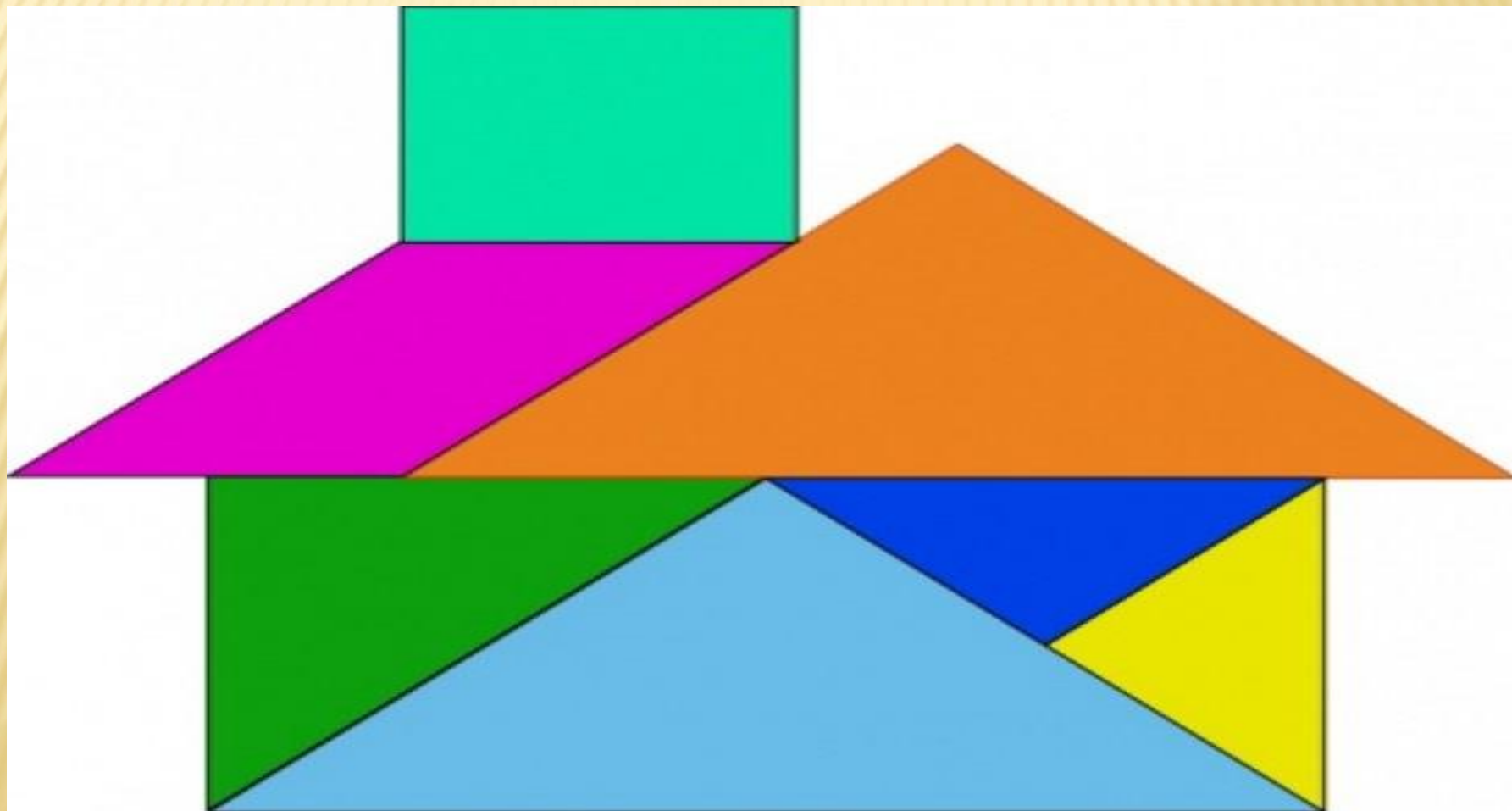
Ответ:

В тарелке осталось 2 рыбы



**Молодцы!
Справились с заданием!**

Остановка танграм.





Дидактическая
игра

«Назови соседа
чисел»







