
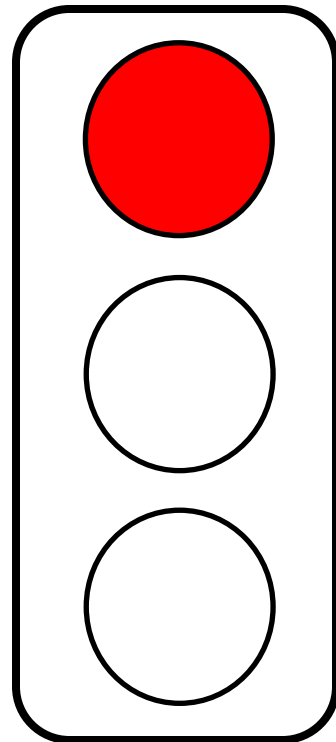





1 класс

МАТЕМАТИКА



Соотнеси количество предметов с цифрой



6

2

1

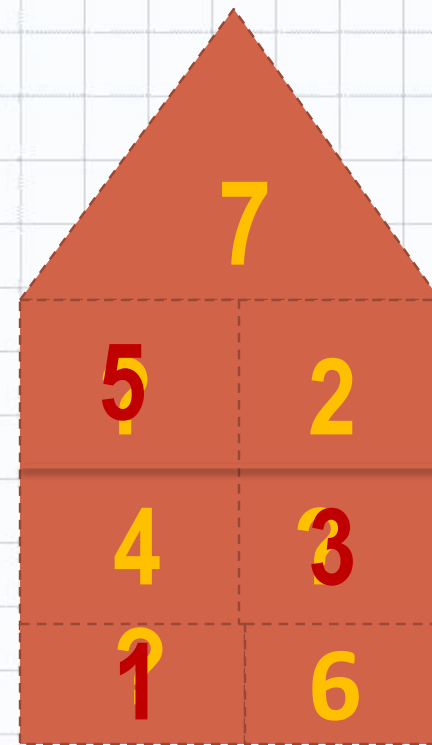
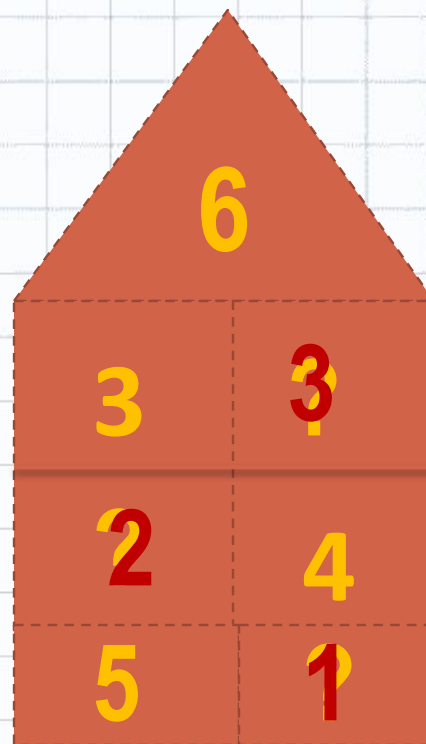
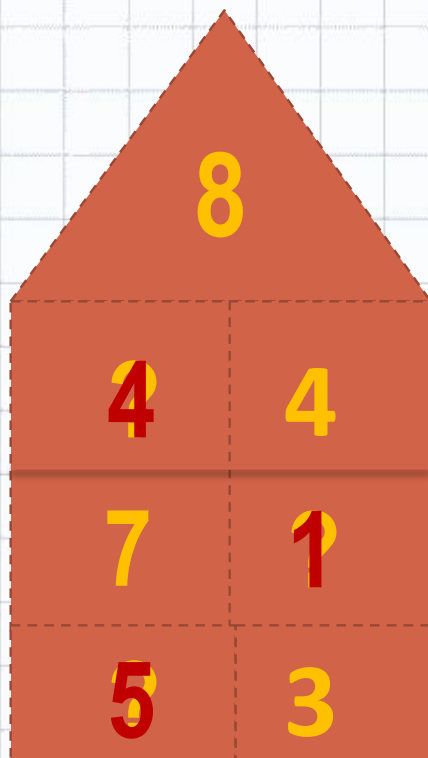
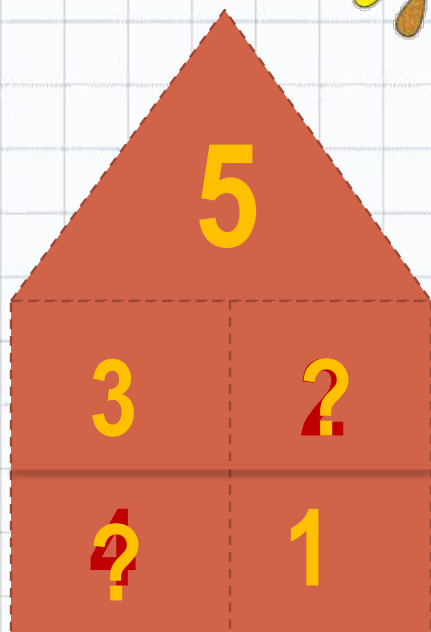
3

5

4



«Засели» домики



Найти значения выражений:

$$5 + 3$$

$$6 + 2$$


$$6 - 2$$

$$8 - 3$$

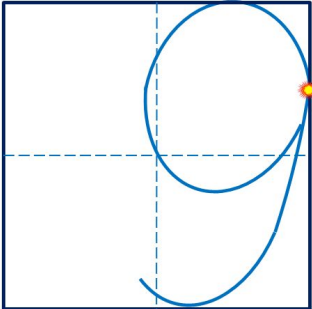
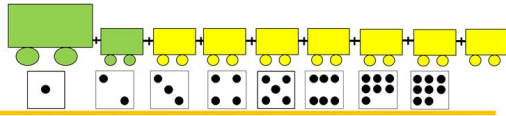
$$6+3$$

$$9-2$$

Тема урока: «Число девять, цифра 9»



девять девять девять девять



! Число девять записывают знаком -
цифрой 9.

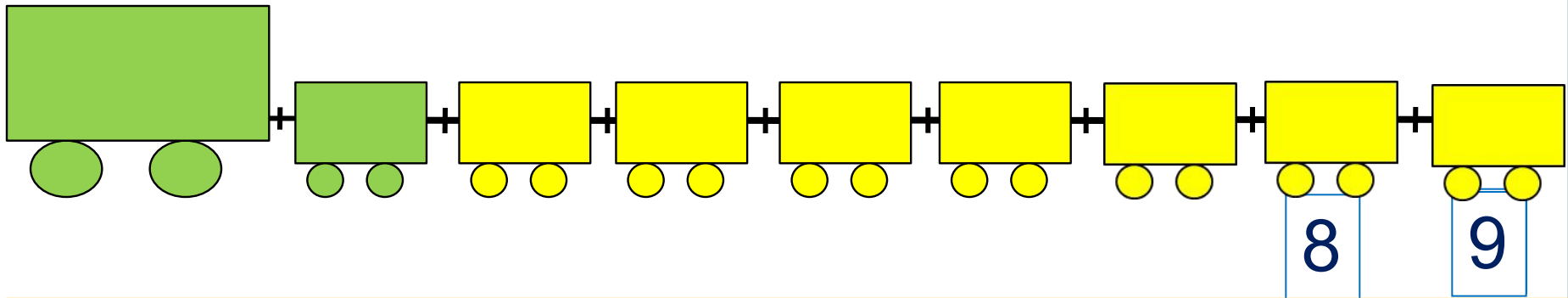
Цели урока

- Научиться писать цифру 9.
- Найти место числу 9 на числовом отрезке.
- Изучить состав числа 9.

1. Помоги Пете ответить на вопросы.

Сколько вагонов было?

Сколько стало?



Составьте выражение к рисунку: $8 + \square =$

1

2

3

4

5

6

7


8

9

Физкультминутка


Мы считали и устали,
Дружно тихо мы все встали,
Ручками похлопали - раз, два, три,
Ножками потопали – раз, два, три,
Сели, встали, сели, встали,
И друг друга не задели.
Мы немножко отдохнем
И опять считать начнем.

3. Назови числа.




● ● ●	$1 + 8 = 9$
● ● ●	$8 + 1 = 9$
● ● ●	

девять




● ● ●	$2 + 7 = 9$
● ● ●	$7 + 2 = 9$
● ● ●	

девять



● ● ●	$3 + 6 = 9$
● ● ●	$6 + 3 = 9$
● ● ●	

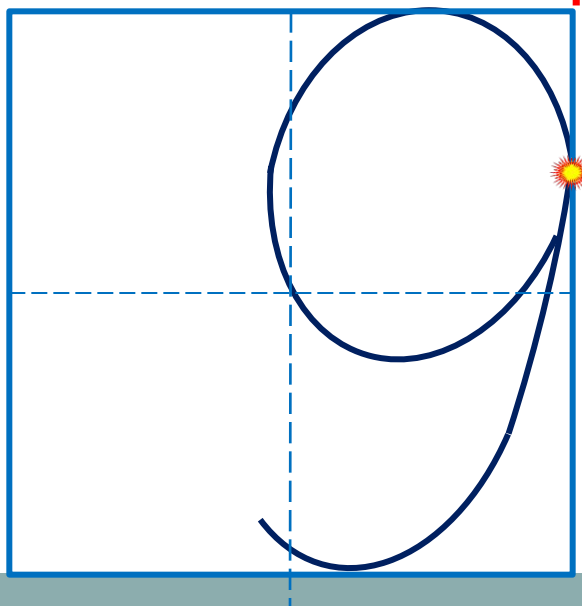
девять



● ● ●	$4 + 5 = 9$
● ● ●	$5 + 4 = 9$
● ● ●	

девять

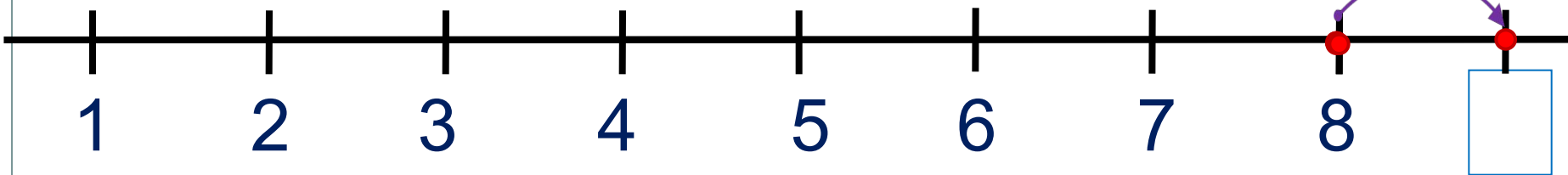
! Число девять записывают знаком - **цифрой 9.**



5. Какие равенства можно записать к рисункам?

Вправо - плюс

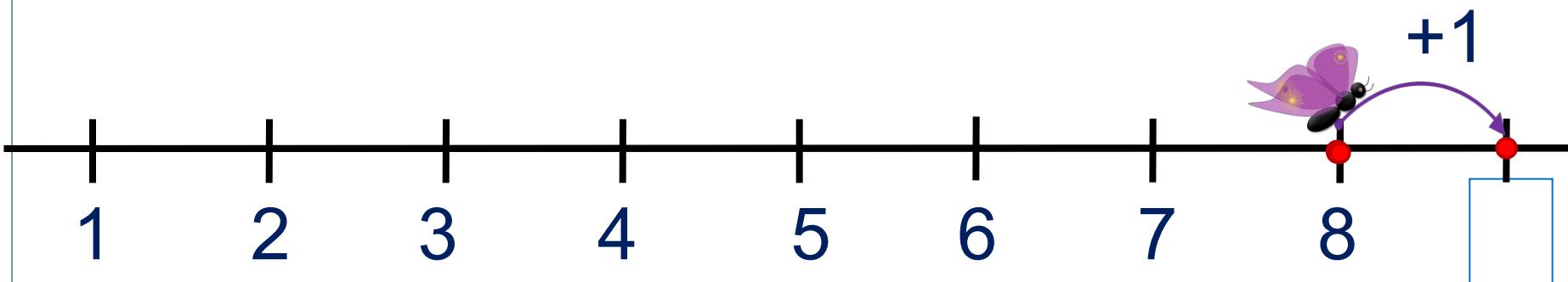
+1



1	2	3	4	5	6	7	8	9	+	-	=
---	---	---	---	---	---	---	---	---	---	---	---

5. Какие равенства можно записать к рисункам?

Вправо - плюс



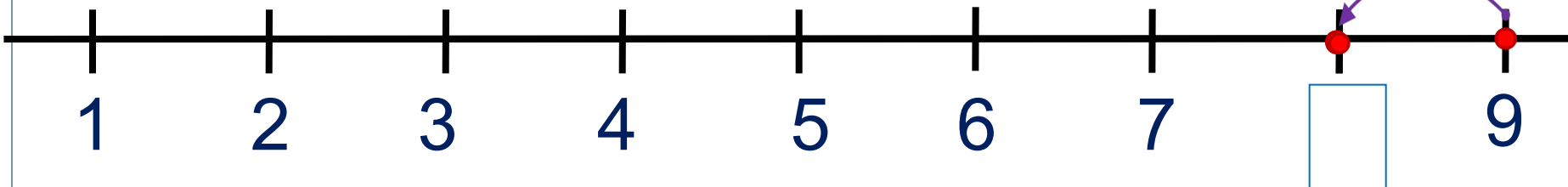
ПРОВЕРЬ!

1	2	3	4	5	6	7	8	9	+	-	=
---	---	---	---	---	---	---	---	---	---	---	---

5. Какие равенства можно записать к рисункам?

Влево - минус

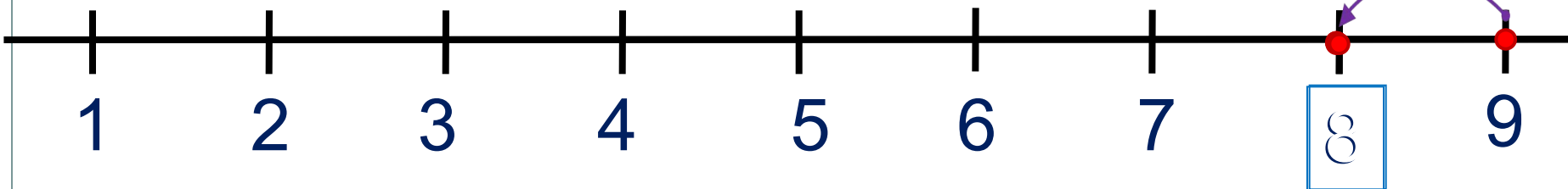
-1



1 2 3 4 5 6 7 8 9 - + =

5. Какие равенства можно записать к рисункам?

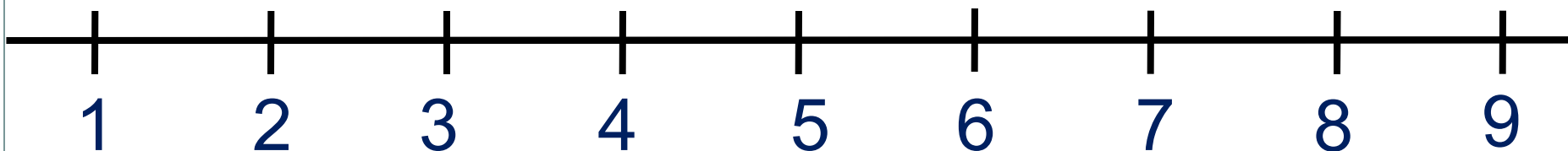
Влево - минус



ПРОВЕРЬ!

1 2 3 4 5 6 7 8 9 - + =

6. Сравни числа (>, <, =)



$1 \square 9$

$9 \square 8$

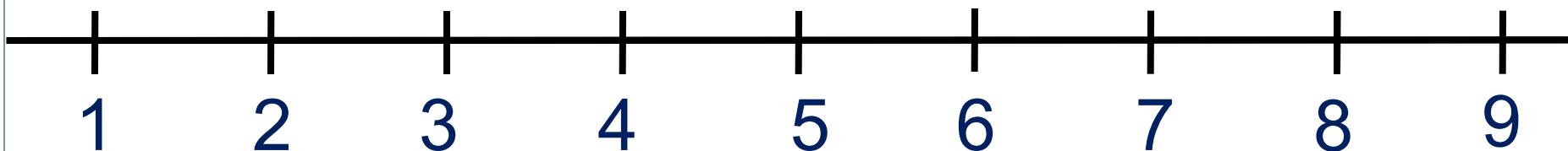
$2 \square 9$

$3 \square 9$

$9 \square 6$



6. Сравни числа (>, <, =)



$1 \square 9$

$9 \square 8$

$2 \square 9$

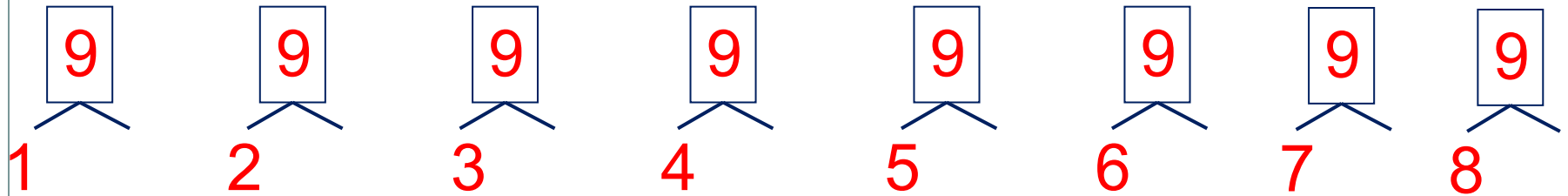
$3 \square 9$

$9 \square 6$



ПРОВЕРЬ!

7. Расскажите о числе девять:

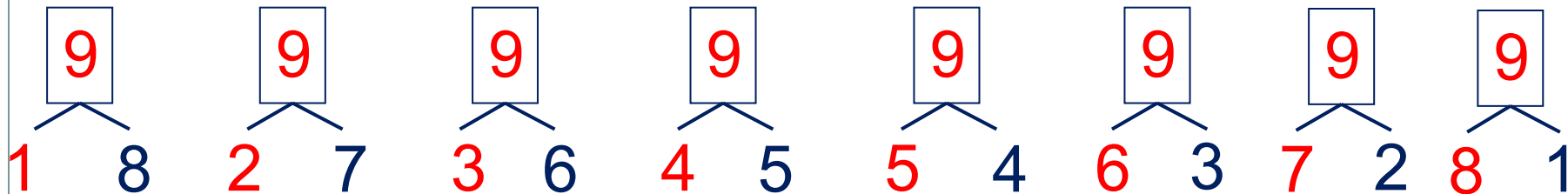


· Какие числа можно записать в «окошках»?


9	1	2	3	4	5	6	7	8
			6					1

1 2 3 4 5 6 7 8 9

7. Расскажите о числе девять:



· Какие числа можно записать в «окошках»?

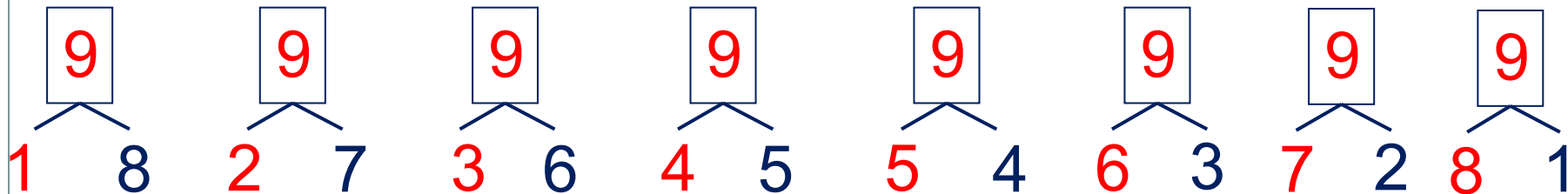


9	1	2	3	4	5	6	7	8
			6					1


1 2 3 4 5 6 7 8 9

ПРОВЕРЬ!

7. Расскажите о числе девять:



· Какие числа можно записать в «окошках»?



9	1	2	3	4	5	6	7	8
	8	7	6	5	4	3	2	1

1

6

9

ПРОВЕРЬ!

Итог урока :

- Я узнал....
- Я научился....
- Я запомнил....
- Было интересно....
- Мне захотелось....

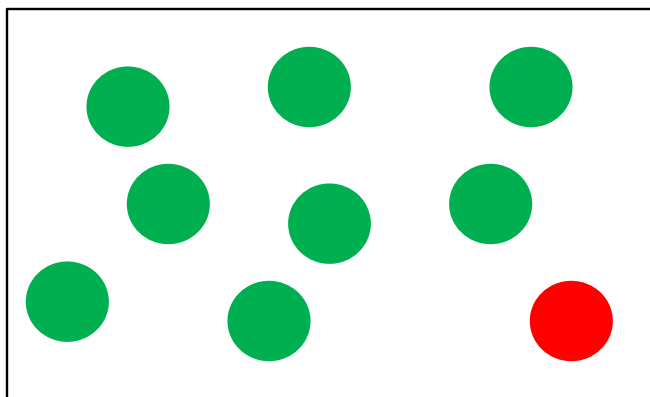




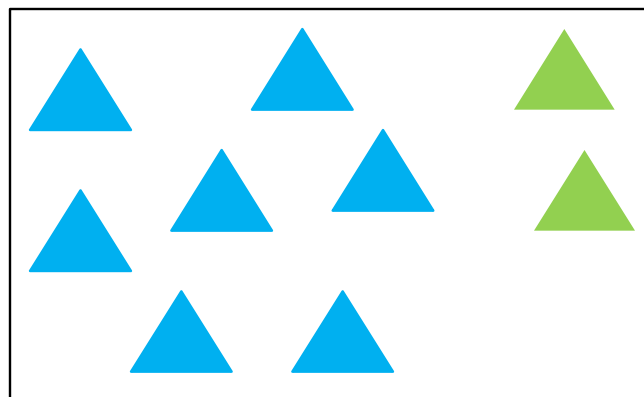
Молодцы!



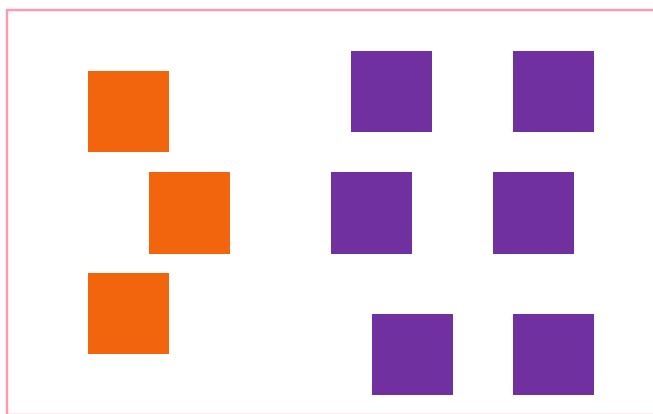
7. Помоги ребятам записать по 4 равенства к своим рисункам.




К.



П.

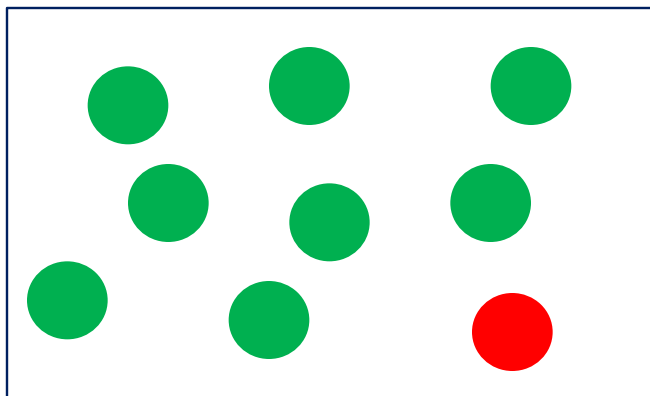


В.



Л.

7. Помоги ребятам записать по 4 равенства к своим рисункам.



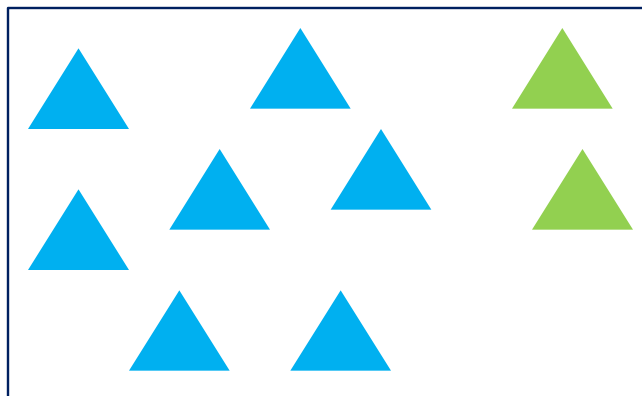
К.

$$8 + 1 = 9$$

$$1 + 8 = 9$$

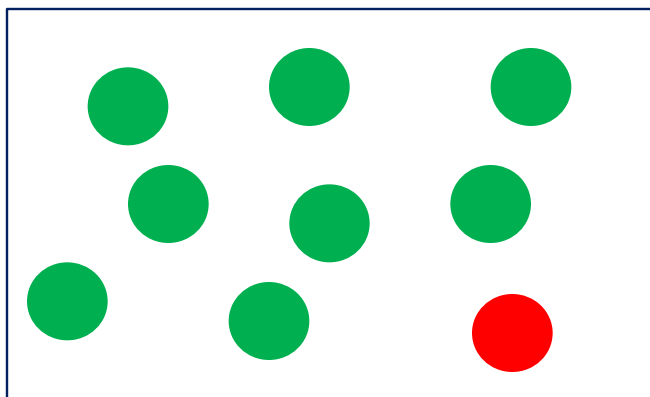
$$9 - 1 = 8$$

$$9 - 8 = 1$$



П.

7. Помоги ребятам записать по 4 равенства к своим рисункам.




К.

$$8 + 1 = 9$$

$$1 + 8 = 9$$

$$9 - 1 = 8$$

$$9 - 8 = 1$$



П.

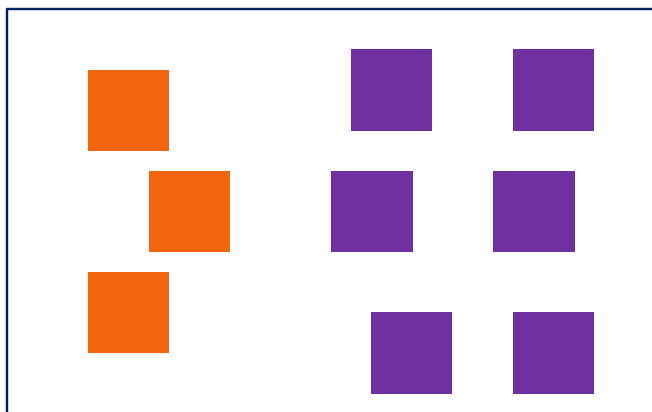
$$7 + 2 = 9$$

$$2 + 7 = 9$$

$$9 - 7 = 2$$

$$9 - 2 = 7$$

7. Помоги ребятам записать по 4 равенства к своим рисункам.



В.

$$3 + 6 = 9$$

$$6 + 3 = 9$$

$$9 - 3 = 6$$

$$9 - 6 = 3$$



Л.

$$4 + 5 = 9$$

$$5 + 4 = 9$$

$$9 - 4 = 5$$

$$9 - 5 = 4$$