



Числовой луч

Графический диктант 5 класс



Учитель математики Коптева Е.М.

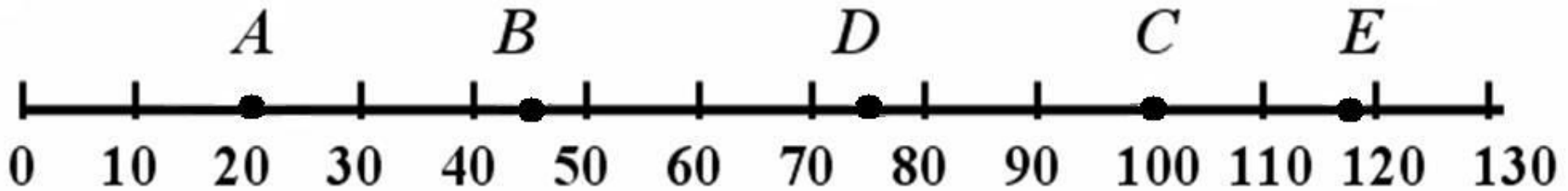



МОУ «Пустошинская СОШ»

Приморский район

Архангельская область

2010

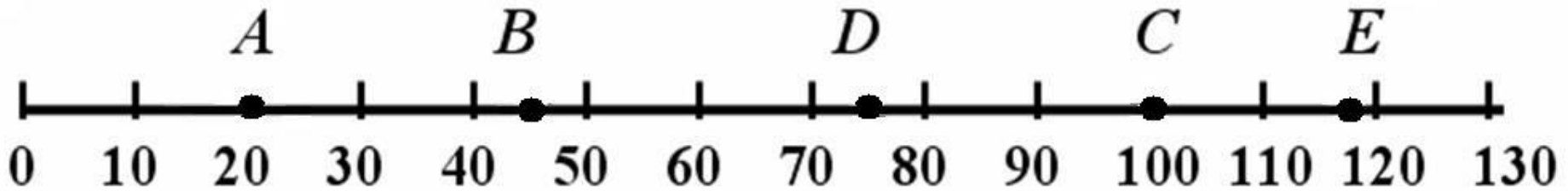



Верно ли, что ...



- 1) На рисунке изображен числовой луч;
- 2) 0 - начало отсчета;
- 3) единичный отрезок равен 1 см;



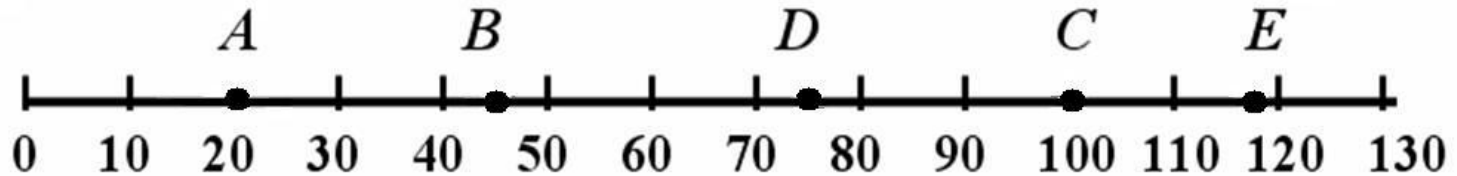
Верно ли, что ...



- 4) $A(20)$;
- 5) $B(40)$;
- 6) $C(100)$;
- 7) $D(75)$;
- 8) $E(118)$.



Проверьте себя



- 1) На рисунке изображен числовой луч;
- 2) O - начало отсчета;
- 3) единичный отрезок равен 1 см;
- 4) $A(20)$;
- 5) $B(40)$;
- 6) $C(100)$;
- 7) $D(75)$;
- 8) $E(118)$.



Ресурсы



- В. Тарасова. Графические диктанты. Газета «Математика» № 47 – 2001
- ©«Одиссей», 2008. greenstreet®