

Прямой счет

1

3

5

7

9

11

13


15

17

19

2

4



18

20

Обратный счет

20
18
16
14
12
10
8
6
4
2

19
17
3
1



2

4

6

8

10

12

14



3

6

9

12

15

18



Раздели на части

М
+
Б



$$M + B = \Phi$$

$$B + M = \Phi$$

$$\Phi - M = B$$

$$\Phi - B = M$$



$$= 4$$

$$= 4$$

$$= 1$$

$$= 3$$

$$3 + K = \Phi$$

$$K + 3 = \Phi$$

$$\Phi - 3 = K$$

$$\Phi - K = 3$$



$$2 + 2 = 4$$

$$4 - 2 = 2$$

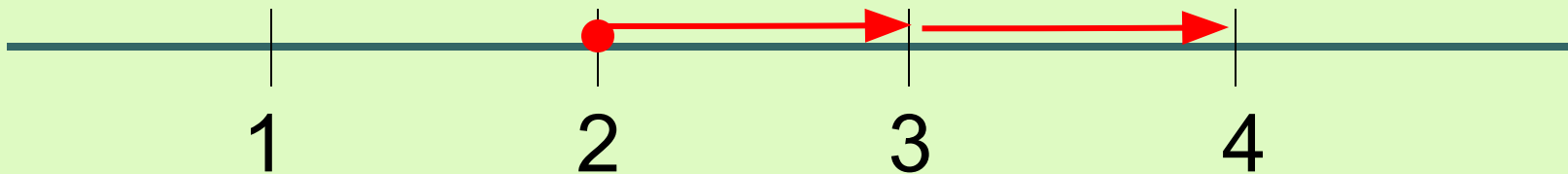
Физминутка

Мы присядем столько раз
Сколько елочек у нас: 1, 2, 3, 4, 5.

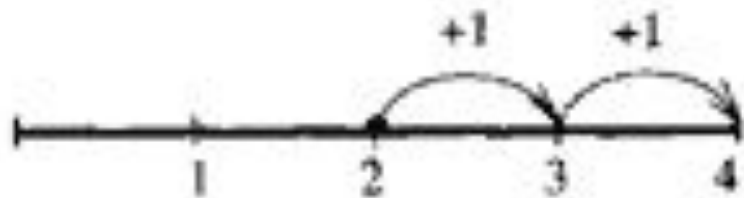


Мы подпрыгнем столько раз,
Сколько яблочек у нас: 1, 2, 3.



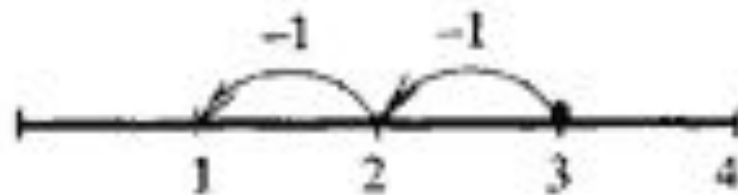


Тема:
"Числовой отрезок".



$$2 + 1 + 1 = \square$$

$$2 + 2 = \square$$



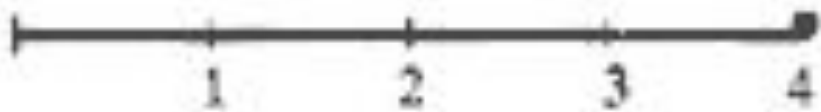
$$3 - 1 - 1 = \square$$

$$3 - 2 = \square$$







$$2 + 2 - 3 = \square$$



$$4 - 1 - 1 - 1 = 1$$

$$4 - \square = \square$$





Молодцы!!!

