



Числовые выражения

(3 урок по теме)


Запишите к каждой группе рисунков
соответствующий пример на умножение



$$2 \cdot 5 = 10$$



$$3 \cdot 4 = 12$$



$$5 \cdot 3 = 15$$

Расшифруй имя героя мультфильма

$$\begin{array}{r} 57 \\ - 14 \\ \hline \end{array}$$

у

$$\begin{array}{r} 76 \\ - 34 \\ \hline \end{array}$$

а

$$\begin{array}{r} 65 \\ - 43 \\ \hline \end{array}$$

л

$$\begin{array}{r} 49 \\ - 25 \\ \hline \end{array}$$

и

$$\begin{array}{r} 88 \\ - 55 \\ \hline \end{array}$$

м

$$\begin{array}{r} 93 \\ - 61 \\ \hline \end{array}$$

г

33	42	43	32	22	24