



Математика

2 класс УМК «Гармония»

Чтение и запись трехзначных чисел Решение задач



Автор презентации

Червонова Т.М.

Учитель начальных классов

«Катеринославская СОШ»

Ленинградская область,

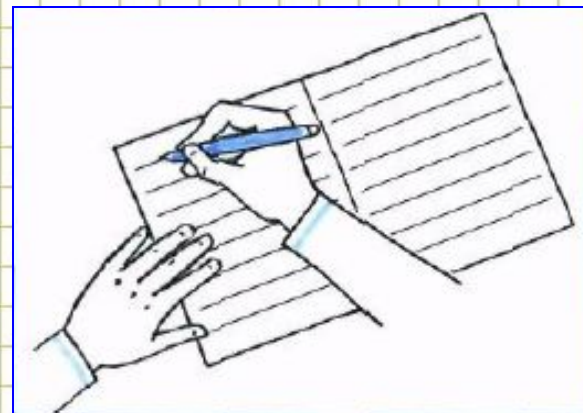
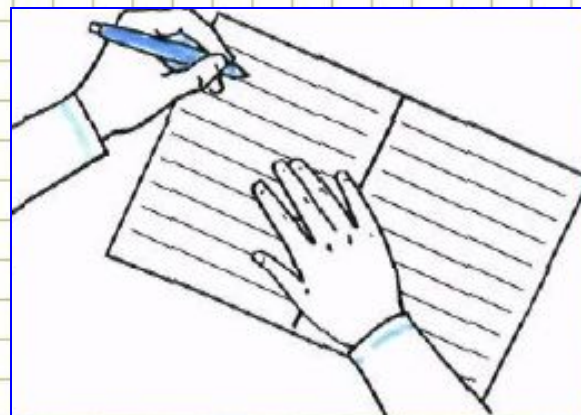
Гюльганский район

**Мы урок начнём с разминки.
Выпрямляем свои спинки,
На носочках потянулись,
вправо-влево повернулись
(сели)**

**И друг другу улы
1,2,3,4,5 –урок_ман
нам пора начи**



Вот так правильно!



Прочитай числа

542, 813, 208, 375, 481, 299

□ Какое число «лишнее»?

□ Почему?



Запиши цифрами числа и прочитай их

9 сот. 2 ед. **902**

5 сот. 4 ед. **504**

6 сот. 7 ед. **607**


8 сот. 5 ед. **805**

4 сот. 1 дес. 7 ед. **417**

9 сот. 5 дес. 4 ед. **954**

7 сот. 6 дес. 8 ед. **768**

3 сот. 4 дес. 2 ед. **342**



Запиши цифрами 4 и 7 различные трёхзначные числа

□ Сколько всего таких чисел можно записать?

Сравни свой ответ с Миши и Маши



Миша записал 8 различных трёхзначных чисел

А Маша - 6 чисел



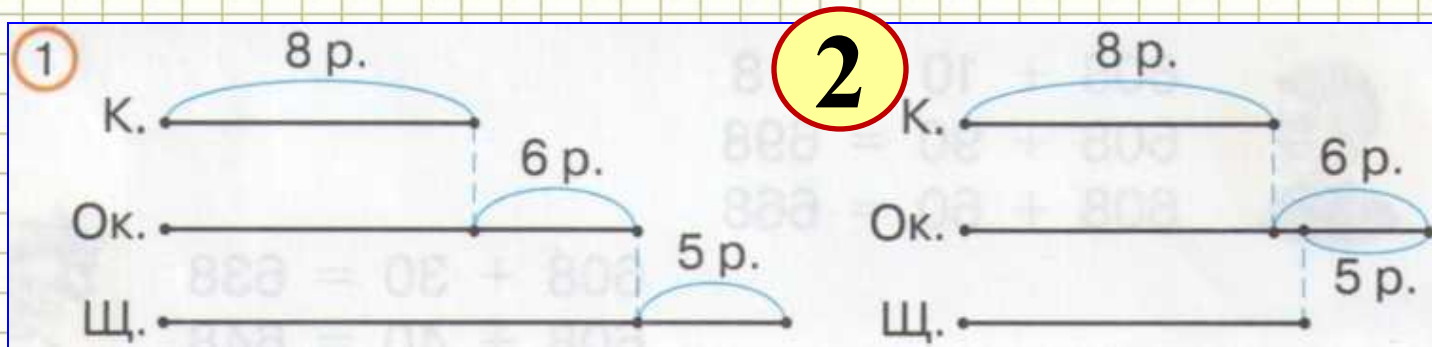
□ Сколько чисел записано у тебя?

447, 774, 744, 474, 477, 747

Прочитай условие задачи

Рыбак поймал 8 карасей, окуней – на 6 больше, чем карасей, а щук – на 5 меньше, чем окуней.

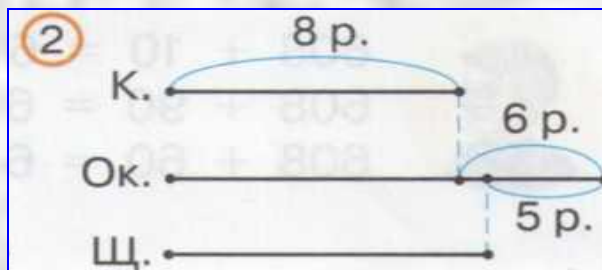
□ Выбери схему, которая соответствует условию.



□ Почему не подходит схема №1 ?



Выбери вопросы, на которые ты можешь ответить, не выполняя арифметических действий



1. На сколько меньше рыбак поймал карасей, чем окуней? **1**

2. Сколько карасей поймал рыбак? **2**

3. Сколько окуней поймал рыбак?

4. Сколько щук поймал рыбак? **5**

5. На сколько больше рыбак поймал окуней, чем щук?

6. Сколько карасей и окуней поймал рыбак?

7. Сколько всего рыб поймал рыбак?

8. На сколько больше рыбак поймал щук, чем карасей?

Реши задачу

Рыбак поймал 8 карасей, окуней – на 6 больше, чем карасей, а щук – на 5 меньше, чем окуней. Сколько всего рыбок поймал рыбак?

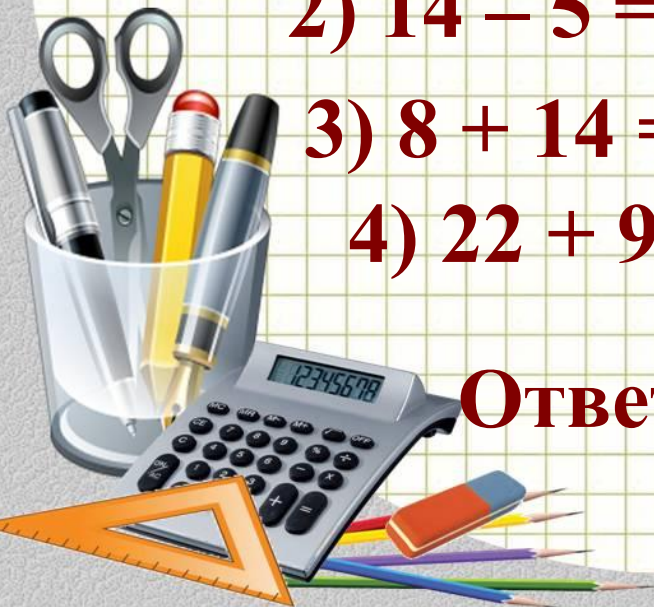
1) $8 + 6 = 14$ (р.) – окуни

2) $14 - 5 = 9$ (р.) – щуки

3) $8 + 14 = 22$ (р.) – караси и окуни

4) $22 + 9 = 31$ (р.) – всего рыб

Ответ : 31 рыбку поймал рыбак



Определи своё настроение

отличное

я был уверен в себе

мне было трудно

я устал



Используемые источники

- ❖ Автор шаблона *Ранько Елена Алексеевна* Сайт: <http://pedsovet.su/>
- ❖ <http://900igr.net/kartinki/matematika/Smeshannye-chisla-5-klass/003-Smeshannye-chisla.html>
- картинка слайд №1
- ❖ <http://borisovna.rusedu.net/gallery/4998/Shkolnik.jpg> - картинка слайд №2
- ❖ <https://fotki.yandex.ru/next/users/ladyo2004/album/185862/view/575296> - ведро с рыбой слайд №9
- ❖ **Рисунки слайд №3** – сканы из печатного пособия «Пропись №3» Н.М. Бетенькова, Смоленск: Ассоциация XXI век, 2014г
- ❖ **Рисунки слайд №6** - сканы из печатного пособия Н.Б.Истомина «Математика» учебник для 2 класса ч.2/Смоленск: Ассоциация XXI век, 2012г.
Задания для презентации:
Н.Б.Истомина Математика 2 класс /ч.2/Смоленск:
Ассоциация XXI век, 2012г.

