



Давай посчитаем!

Сколько зайчиков на картинках?



1

2

3


5

Заверш
ить
игру

Молодец!!!



**Завершит
ь
игру**



СКОЛЬКО ЩЕНКОВ?



3

5

4




Заверш
ить
игру

Молодец!!!



Завершит
ь
игру



СКОЛЬКО ЦВЕТКОВ НА КАРТИНКАХ?



3

2

5

1

Заверш
ить
игру

**Ты
молодец!!!**



**Завершит
ь
игру**



СКОЛЬКО ЗВЕЗДОЧЕК?



2

6

4


3

Заверш
ить
игру

МОЛОДЕЦ !!!



Завершит
ь
игру



Сколько целых яблок?



2

1




4

Заверш
ить
игру

Молодец!!!



**Завершит
ь
игру**



Сколько съедобных грибов?



4

2

3

1

Заверш
ить
игру

**Ты
молодец!!!**



**Завершит
ь
игру**



Сколько котят на картинке?



5


4

2

Молодец!!!



**Завершит
ь
игру**



Сколько снегирей изображено на картинке?



4

3

5

2



**Ты
молодец!!!**



**Завершит
ь
игру**



Сколько здесь
звездочек?



3

8


5



Молодец!!!



**Завершит
ь
игру**



посчитай круги



5

3

2

**Ты
молодец!!!**



**Завершит
ь
игру**



Найдите цифры 1, 2, 3 по величине



**Ты
молодец!!!**

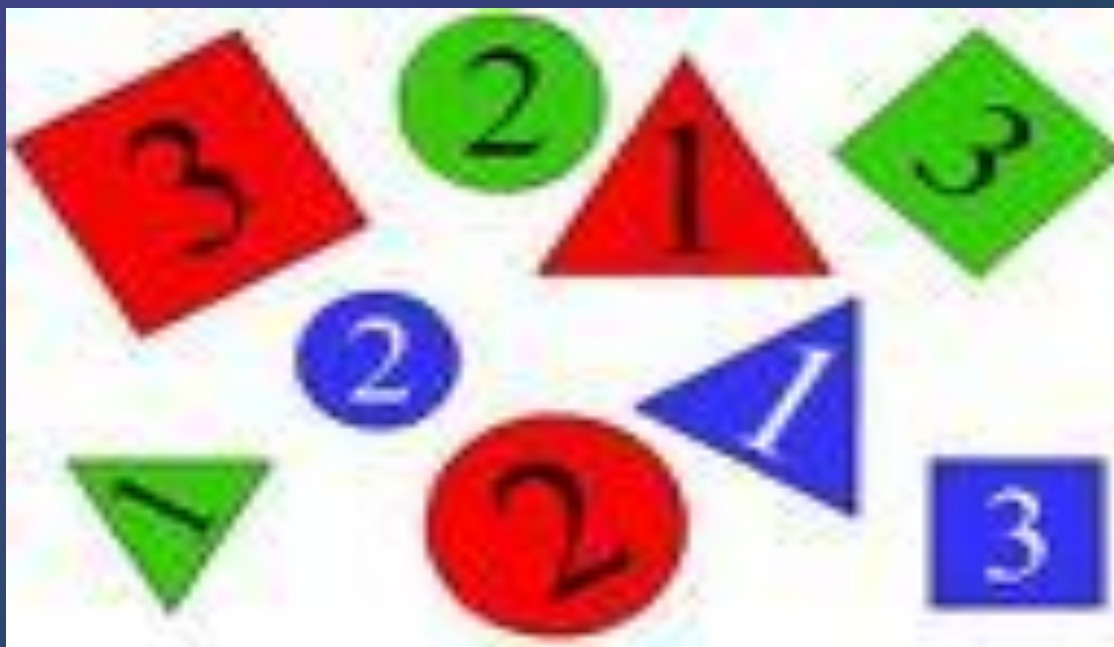


**Завершит
ь
игру**



ВЫВОД:

- ▶ НАУЧИЛИСЬ ВЕСТИ СЧЕТ В ПРЕДЕЛАХ 5;
- ▶ УЗНАВАТЬ ЦИФРЫ И НАЗЫВАТЬ ИХ;





Подумай ещё !!!