



5



3

Деление числа на произведение

Д

5

учитель начальных классов

4

МОУ «Гимназия №2»

Нестерова С.А.

4



3



В математику тропинки

преодолеем без запинки!

Устный счёт

Выразите в более мелких единицах измерения

5 дм 30

см

6 дм 7 см

8 км 400 м

3 см 6 мм

4 ч 30 мин

2 года 3

мес.

3 века

5 мин 20 с

3 ц 45 кг

7 кг 260 г

6 т 45 кг

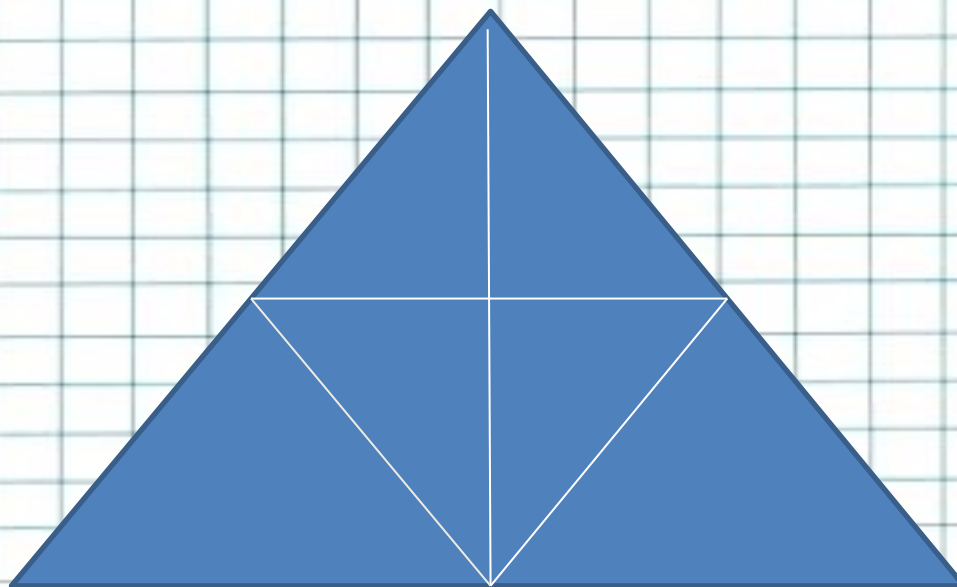
9 т 5 ц

Aa Bb Cc Dd Ee Ff

$$28 + 32 = 60$$



Сколько на чертеже треугольников?



Решите задачу

Таня живёт на втором этаже. Ваня – в том же подъезде, но ему приходится Подниматься по лестнице. В которой в 2 раза больше ступенек. Ступенек до подъезда и до первого этажа нет. На каком этаже живёт Ваня?



Вычисли те

Е $500 \cdot 60 : 100$

Н $4000 \cdot 3 : 1000$

Д $953 - 720 + 42$

И $140 : 70 \cdot 2000$

Л $270 - 50 + 1009$

275	300	1229	300	12	4000	300	



Деление числа на произведение

$$18 : 2 : 3 =$$

$$18 : 3 : 2 =$$

$$18 : (3 \cdot 2) =$$

№ 82, № 83, № 87 ,
№89



Работа по учебнику

С. 20 № 91

С.20. 3 92

Мешков за 1 день	Количество дней	Количество мешков
?	6	120
На 5 мешков больше	?	100

Сколько спальных мешков шили за 1 день?

$$120 : 6 = 20 \text{ (м.)}$$

Сколько спальных мешков будут шить за 1 день?

$$20 + 5 = 25 \text{ (м.)}$$

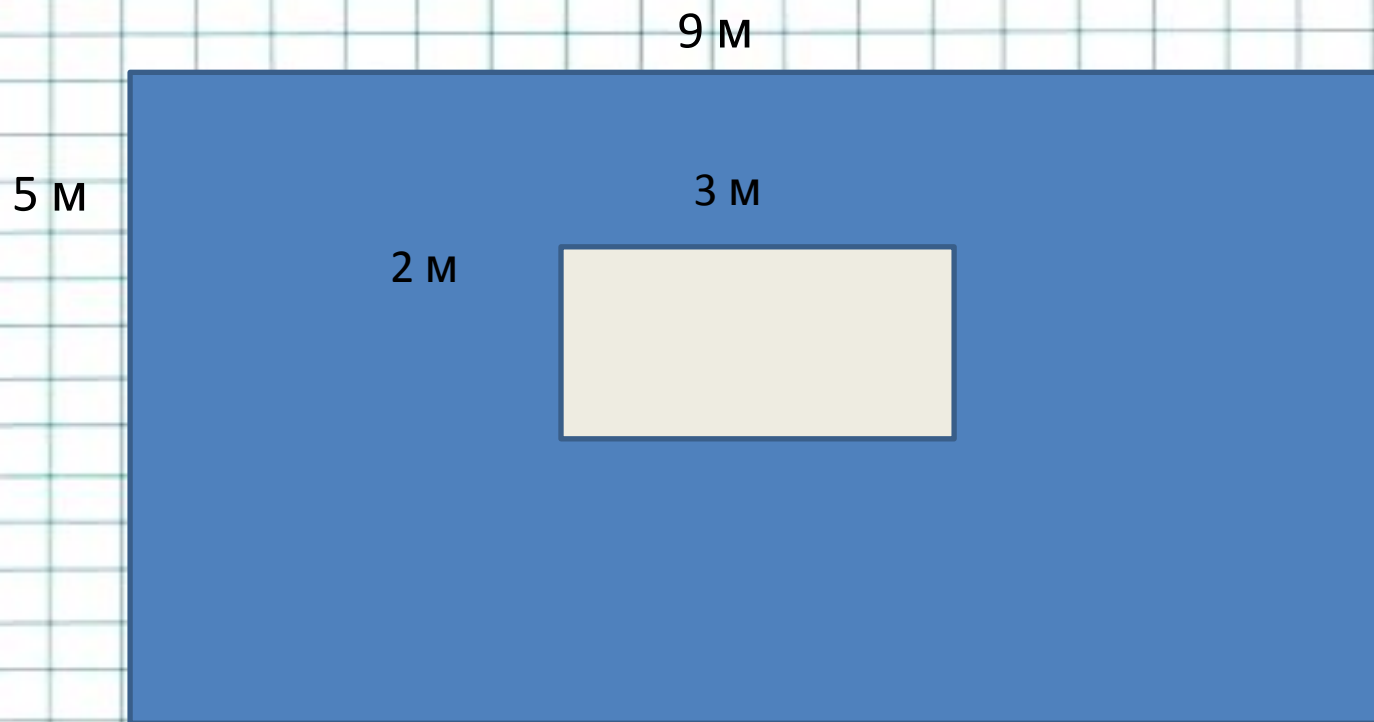
За сколько дней сошьют 100 мешков?

$$100 : 25 = 4 \text{ (дн.)}$$

Ответ : 4дня.



Найди площадь закрашенной фигуры



Работа в тетрадях на печатной основе

с.21 №1


С.21 №2

- Запишите решение задачи выражением.
- с21 № 3
- - Объясните. Как выполнить деление.
- С 21 № 4
- Самостоятельная работа



Подведение итогов урока

- Как разделить число на произведение
разными способами?



Домашнее задание

с.20, № 93, № 95



**УДАЧИ В ВЫПОЛНЕНИИ
ДОМАШНЕГО ЗАДАНИЯ!**

