

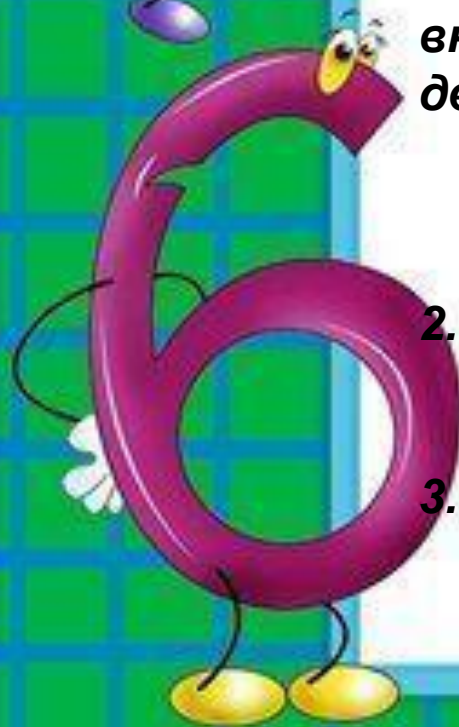
A large yellow diamond shape is centered on a gray background. It contains text and illustrations of drawing tools.

Богуш Татьяна Анатольевна
учитель начальных классов

A red crayon with a black outline and a red eraser tip is positioned at the top left. A red squiggly line extends from its tip towards the center of the yellow diamond.

Урок математики в 3 классе

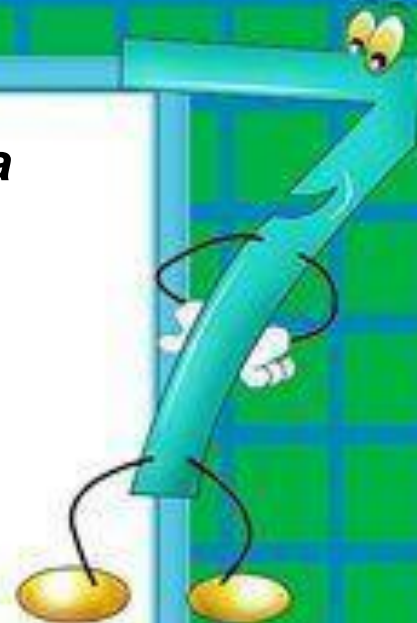
A blue crayon with a yellow body and a blue eraser tip is positioned at the bottom right. A blue squiggly line extends from its tip across the bottom of the yellow diamond.




Тема: деление двузначного числа на двузначное.

Задачи:


1. Закреплять представления о взаимосвязи действий умножения и деления; вывести в основе этой взаимосвязи новый алгоритм внетабличного деления. Учить делению двузначного числа на двузначное способом подбора; отрабатывать вычислительные навыки;
2. развивать математическую зоркость; навык самоконтроля; воображение.
3. воспитывать интерес к предмету через игру; готовность к взаимовыручке.





Приключения Буратино






30:2

40:8

5x6

10x4






$x:15=5$
 $X=75$

$y:24=3$
 $y=72$







60:15

60:5

60:30

60:2





60:15



Деление двузначного числа на двузначное

Деление и умножение – это
Взаимно обратные действия.


Значит, можно **подобрать** такое
число, чтобы при умножении его
на делитель 15 получилось
делимое 60.



С.54 №4
(1 строчка)


$51:17=2$

$42:14=3$


$$51:17=3$$

$$42:14=3$$





Весёлый молочник

Задача

**Корова Бурёнка дала 50л молока.
Из него весёлый молочник
приготовил 2кг масла. Сколько
масла можно приготовить из 75л
молока?**





1) $50:2=25$ (л) молока идёт
на 1 кг масла.

2) $75:25=3$ (кг) масла можно
получить из 75л

Ответ: 3 кг .



48:12

32:16

39:13

2

3

4

5



$$48:12=4$$

$$32:16=2$$

$$39:13=3$$

5



Задача

В зоопарке 3класс
Увидели 48взрослых
обезьян и в 16раз
меньше- обезьян
малышей.

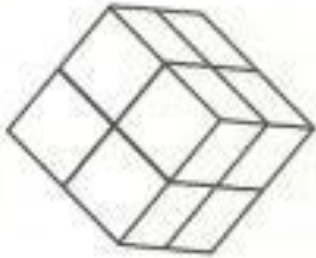
Обезьяны были в
двух клетках: в
одной-шимпанзе, а
в другой-
гамадрилы.

Сколько было
гамадрилов, если
шимпанзе 26?





«лишняя»?



Какая клетка

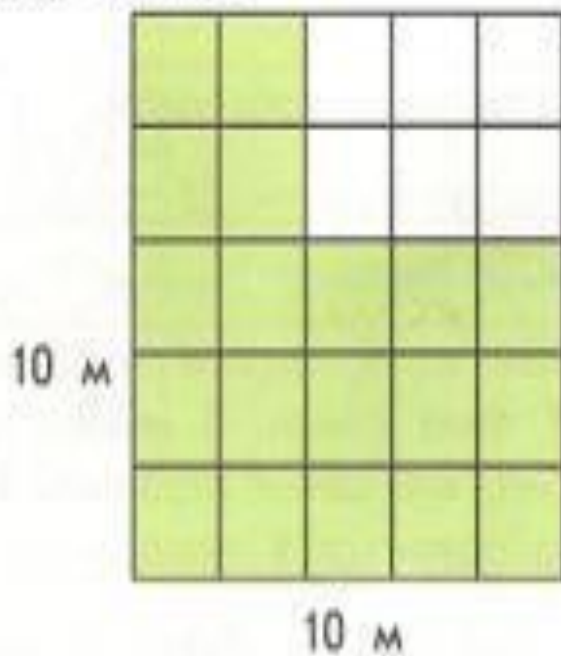



3 дм

• Чему равен объём каждой клетки?




На рисунке закрашенная часть клетки показывает место для игр животных, незакрашенная часть занята кормушкой и местом для сна. Чему равна площадь каждой из этих частей?







**Я понял и могу научить
товарища**




Я понял



Мне было трудно





Спасибо всем!