
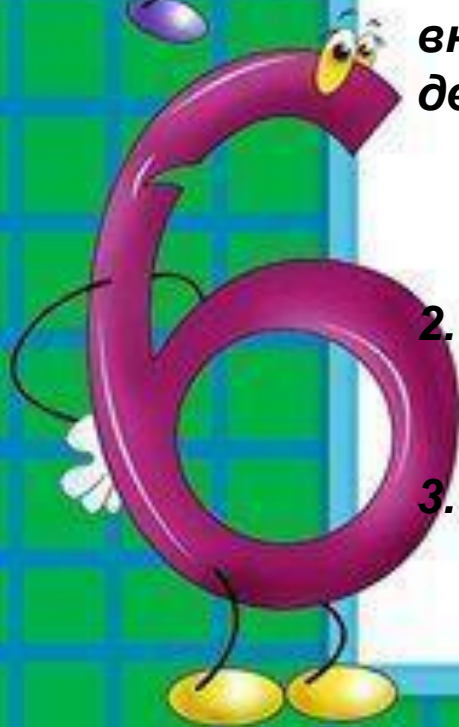




Богуш Татьяна Анатольевна  
учитель начальных классов

Урок математики в 3 классе

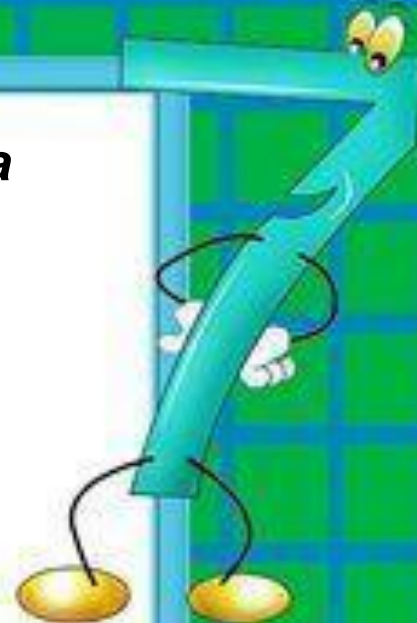




**Тема:** деление двузначного числа на двузначное.

**Задачи:**


1. Закреплять представления о взаимосвязи действий умножения и деления; вывести в основе этой взаимосвязи новый алгоритм внетабличного деления. Учить делению двузначного числа на двузначное способом подбора; отрабатывать вычислительные навыки;
2. развивать математическую зоркость; навык самоконтроля; воображение.
3. воспитывать интерес к предмету через игру; готовность к взаимовыручке.





# Приключения Буратино





**30:2**

**40:8**

**5x6**


**10x4**



$$x:15=5$$
$$X=75$$

$$y:24=3$$
$$y=72$$








**60:15**

**60:5**

**60:30**

**60:2**





60:15






# *Деление двузначного числа на двузначное*

Деление и умножение – это  
Взаимно обратные действия.


Значит, можно **подобрать** такое  
число, чтобы при умножении его  
на делитель 15 получилось  
делимое 60.

**С.54 №4**  
**(1 строчка)**





$$51:17=2$$

$$42:14=3$$


$$51:17=3$$

$$42:14=3$$





# Весёлый молочник

**Задача**

*Корова Бурёнка дала 50л молока.  
Из него весёлый молочник  
приготовил 2кг масла. Сколько  
масла можно приготовить из 75л  
молока?*





1)  $50:2=25$  (л) молока идёт  
на 1 кг масла.

2)  $75:25=3$  (кг) масла можно  
получить из 75л  
Ответ: 3 кг .





48:12

32:16

39:13

2

3

4

5



$$48:12=4$$

$$32:16=2$$

$$39:13=3$$

5



# Задача

В зоопарке 3класс  
Увидели 48взрослых  
обезьян и в 16раз  
меньше- обезьян  
малышей.

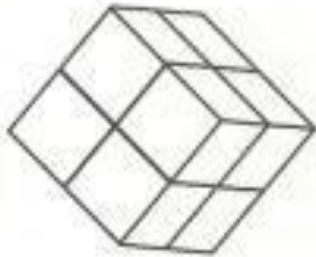
Обезьяны были в  
двух клетках: в  
одной-шимпанзе, а  
в другой-  
гамадрилы.

Сколько было  
гамадрилов, если  
шимпанзе 26?





«лишняя»?



Какая клетка





3 дм

• Чему равен объём каждой клетки?



На рисунке закрашенная часть клетки показывает место для игр животных, незакрашенная часть занята кормушкой и местом для сна. Чему равна площадь каждой из этих частей?






**Я понял и могу научить  
товарища**




**Я понял**



**Мне было трудно**





*Спасибо всем!*