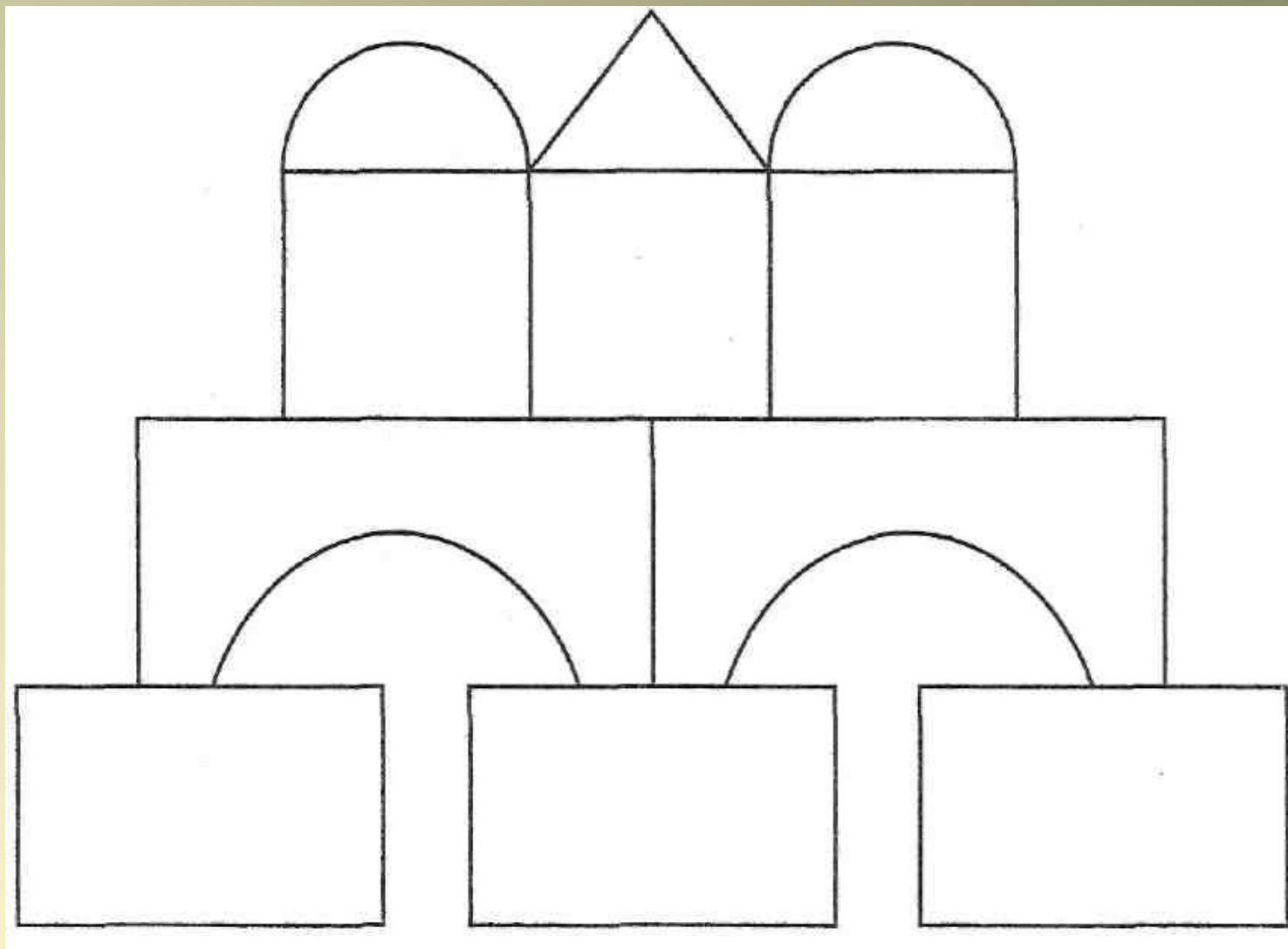


Кто с детских лет занимается математикой, тот развивает внимание, тренирует свой мозг, свою волю, воспитывает настойчивость и упорство в достижении цели.


Макрушевич А.И.

Задание на внимание.

Запомни, из каких деталей построена башенка.



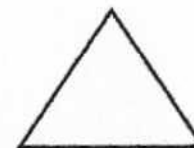
Вспомни, сколько и каких деталей было использовано для строительства башни. Напиши в клеточках их количество.




2



2




1



3



3



0

Устный счёт.

5

4

3

8

4

9

1

1

6

3

1

8

7

4

Проверь себя.

- Из суммы синих чисел вычесть сумму красных. **2**
- Найти сумму всех чётных чисел. **34**
- Разность красных и зелёных чисел. **11**
- Из суммы всех чётных чисел вычесть сумму всех нечётных чисел. **4**

Устный счёт.

- На сколько 4 дм больше 30 см?

на 10

-«Я» число между 10 и 14. Ты можешь разделить меня на 3 без остатка.

12

-«Я» число между 30 и 40. Если сложишь мои цифры, то получишь число 10.

37

-«Я» нечётное число между 5 и 10. Меня нельзя разделить на 3.

7

Урок математики в 3 классе.
«Деление двузначного числа на
однозначное».



Пассажир купил 3 билета на электричку по одинаковой цене и заплатил 54 рубля. Сколько денег он заплатит за 5 билетов?

Цена	Количество	Стоимость
одинаковая	3 билета	54 руб
	5 билетов	?

1) $54 : 3 = 18$ (руб) – цена одного билета

2) $18 \cdot 5 = 90$ (руб)

Ответ: 90 денег он заплатит за 5 билетов.

Деление двузначного числа на однозначное.

$$56:8=7$$

$$56:4=14$$

$$4 \overbrace{56}^{16} : 7 = 8$$

$$56:2=28$$

$$\begin{array}{l} \swarrow \quad \searrow \\ 40 \quad 16 \end{array}$$



Самостоятельная работа .

- 1 уровень

- 2 уровень

48:4	66:6
64:2	62:2
55:5	96:3
77:7	88:4
69:3	36:3

57:3	96:4
96:2	96:8
85:5	51:3
58:2	75:3
87:3	84:6

МОЛОДЦЫ!

