




Возникновение Олимпийских игр.



Олимпийские игры возникли в Древней Греции. Легенды утверждают, что в Олимпии состоялись соревнования по бегу. И будто бы их организовал сам Зевс. Даже если шли войны, то их прекращали на время игр. Перед состязаниями каждый атлет давал клятву соблюдать правила честной спортивной борьбы.



Возникновение Олимпийских игр



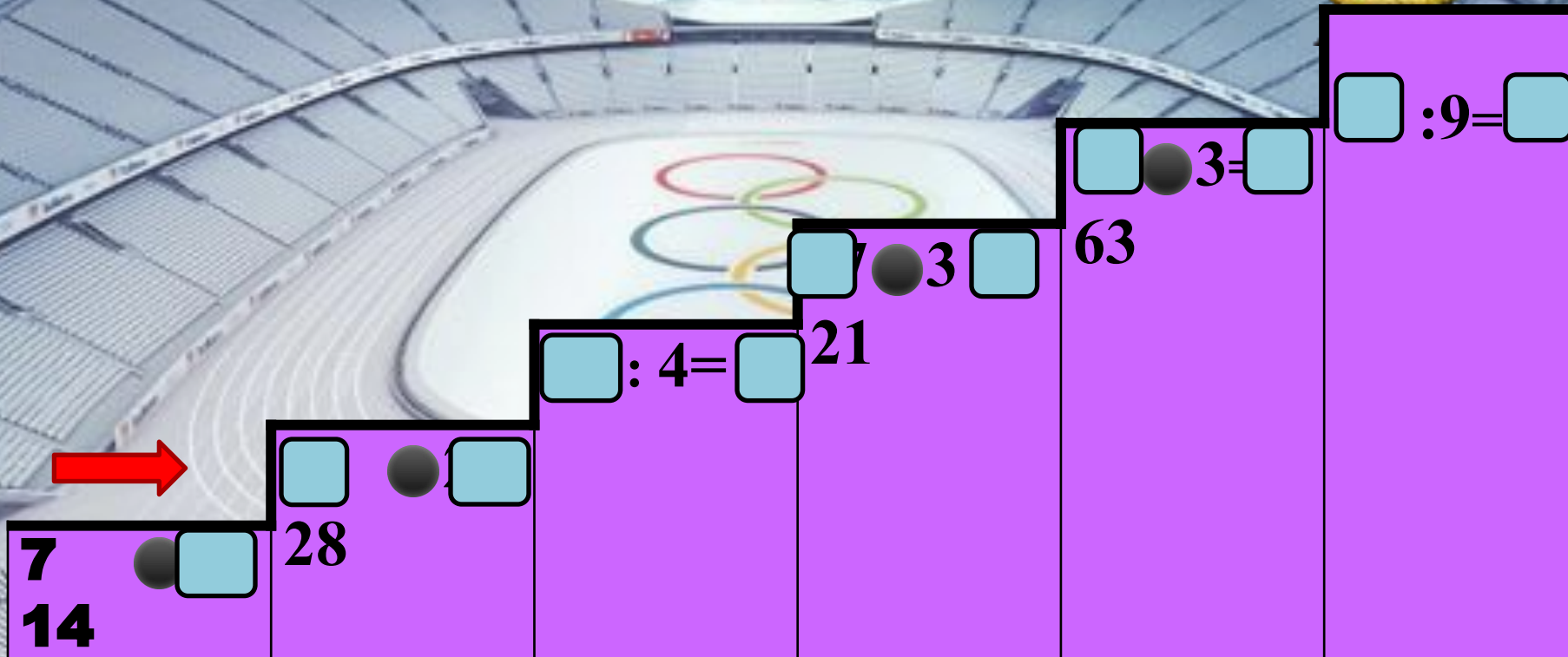
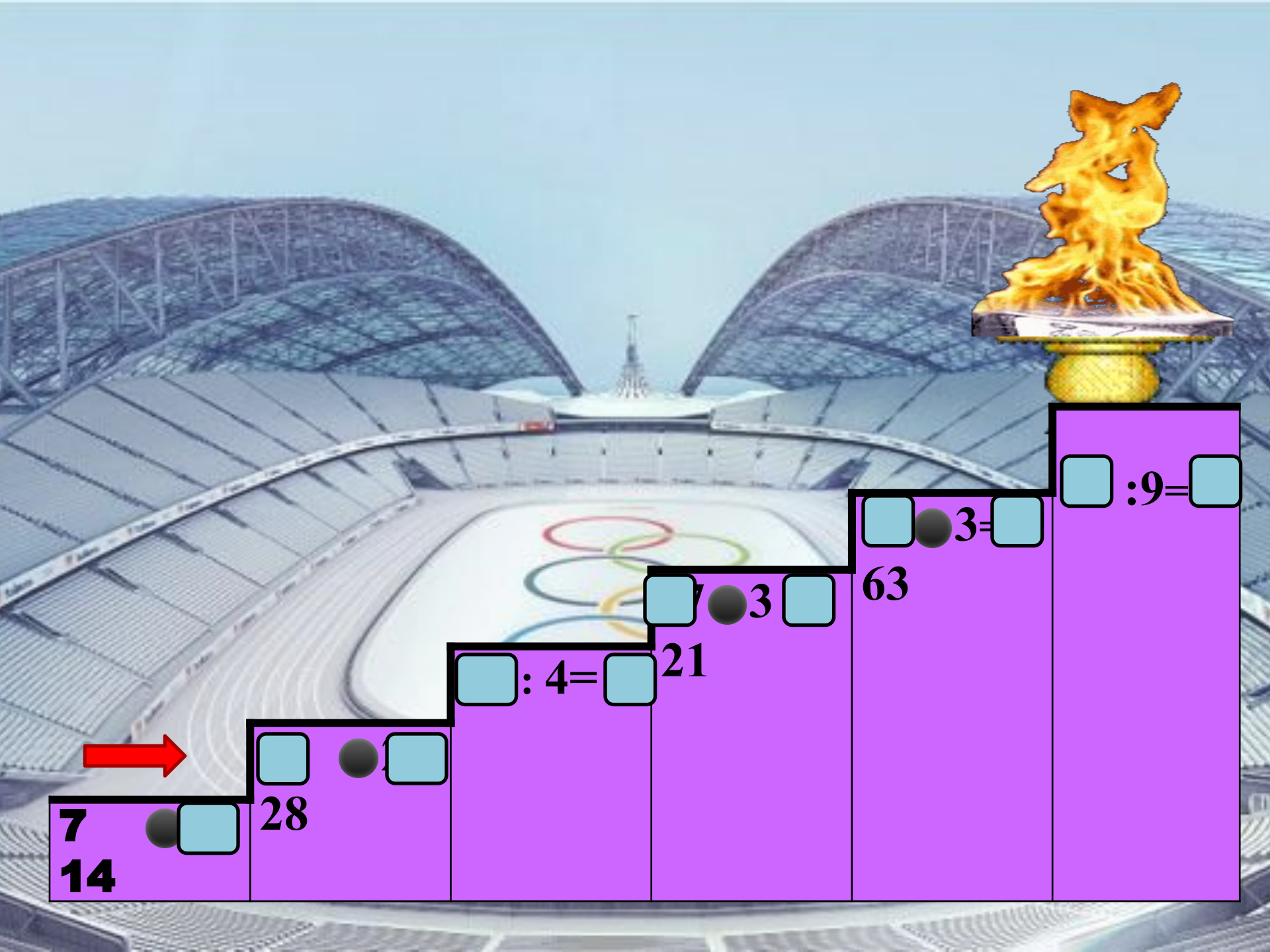
Победитель состязаний в Олимпии удостоивался венка из ветвей священного оливкового дерева, чести, почета. Им воздвигали статуи, чеканили монеты



Олимпийская символика



Цвет колец в верхнем ряду — голубой для **Европы**, чёрный для Африки, красный для **Америки**, в нижнем ряду — жёлтый для **Азии**, зелёный для **Австралии**.



Кто из этих животных – талисманы Олимпиады в Сочи?

ЛЕОПАР
Д

БЕЛЫЙ МИШКА

ЗАЙКА



sochi 2014





$$(62 + 18) : 8 =$$

$$(36 + 27) : 9 =$$

$$(40 + 16) : 7 =$$

$$(30 + 24) : 9 =$$





Можно вычислить и
ее на число.

Можно разделить на число каждое
и полученные результаты .



Работа в учебнике Стр. 14 № 2

ENG

Тамсины
О конкурсе
История Тамсиной
Наконец





Биатлон

Вид спорта, сочетающий лыжную гонку со стрельбой из винтовки по мишеням.



Закрой мишени




№ 3

1 см^2 100 мм^2

95 см 9 дм

$6\text{ дм } 8\text{ см}$ 70 см

$7\text{ м } 3\text{ дм}$ 71 дм






Лист самоконтроля

$$1 \text{ см}^2 = 100 \text{ мм}^2$$

$$95 \text{ см} > 9 \text{ дм}$$

$$6 \text{ дм } 8 \text{ см} < 70 \text{ см}$$

$$7 \text{ м } 3 \text{ дм} > 71 \text{ дм}$$





Фигурное катание





12 м

$S - ? \text{ м}^2$


8 м



$$S = 12 * 8 = 96 (\text{м}^2)$$

Ответ: площадь катка – 96 м²

Хоккей





Всем спасибо за внимание !

Закон

Я узнал

Мне понравилось

Было трудно...

