
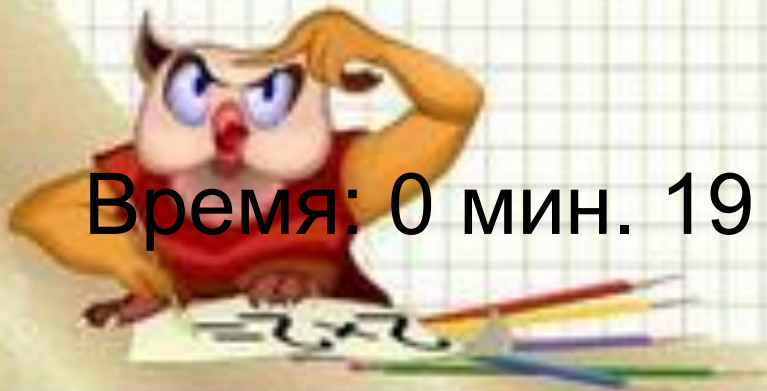


**Тест для 5 класса по математике**  
**по теме**  
**«Действия с десятичными**  
**дробями»**



# Результат теста

Время: 0 мин. 19 сек.



исправить

ещё

*Указать число единиц в разряде сотых дроби  
635,421789.*

**Кликните на правильный ответ**

4

2

6






***Представьте числа в порядке убывания,  
используя знаки неравенства: 0,36; 36; 3,6.***

*Кликните на правильный ответ*

*36; 3,6; 0,36*

*3,6; 0,36; 36;*

*36; 0,36; 3.6*



Ниже приведены дроби, обозначающие 25%.  
Найдите эти дроби.

2.5

0,025

$1/25$

$1/4$

0.25

исправить

ответ готов!



***Выберите дроби,  
которые меньше 2,38***

1,999

2,4

2,3

2,5

3,12

исправить

ответ готов!





*Вычислите наиболее удобным способом.*

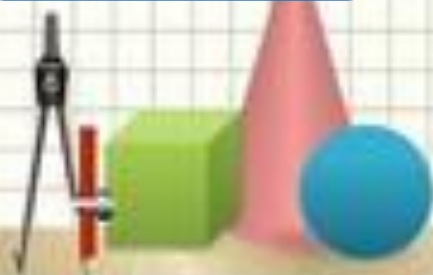

$$72,18 : 0,6 - 0,18 : 0,6$$

**Кликните на правильный ответ**

1,2

20,02

120



**Найдите значение выражения.**


$$0,72 : 1,2$$

**Кликните на правильный ответ**

60

0,6

6





# Выберите правильные определения

Чтобы разделить десятичную дробь на 0,1. надо перенести вправо запятую на одну цифру

Чтобы разделить десятичную дробь на 0,1 надо перенести влево запятую на одну цифру

Чтобы умножить десятичную дробь на 0,1. надо перенести влево запятую на одну цифру

Чтобы разделить десятичную дробь на 10. надо перенести влево запятую на одну цифру

Чтобы разделить десятичную дробь на 10. надо перенести вправо запятую на одну цифру

исправить

ответ готов!



**Найдите корень уравнения.**


$$6x + 3,8 = 58,4?$$

**Кликните на правильный ответ**

9,1

54

48,6



*На пошив платья ушло 2,1 м ткани, что составляет 0,7 части всего куска материи.  
Сколько метров ткани было у швеи?*

**Кликните на правильный ответ**

*14,7 м*

*3 м*

*2,8 м*

