

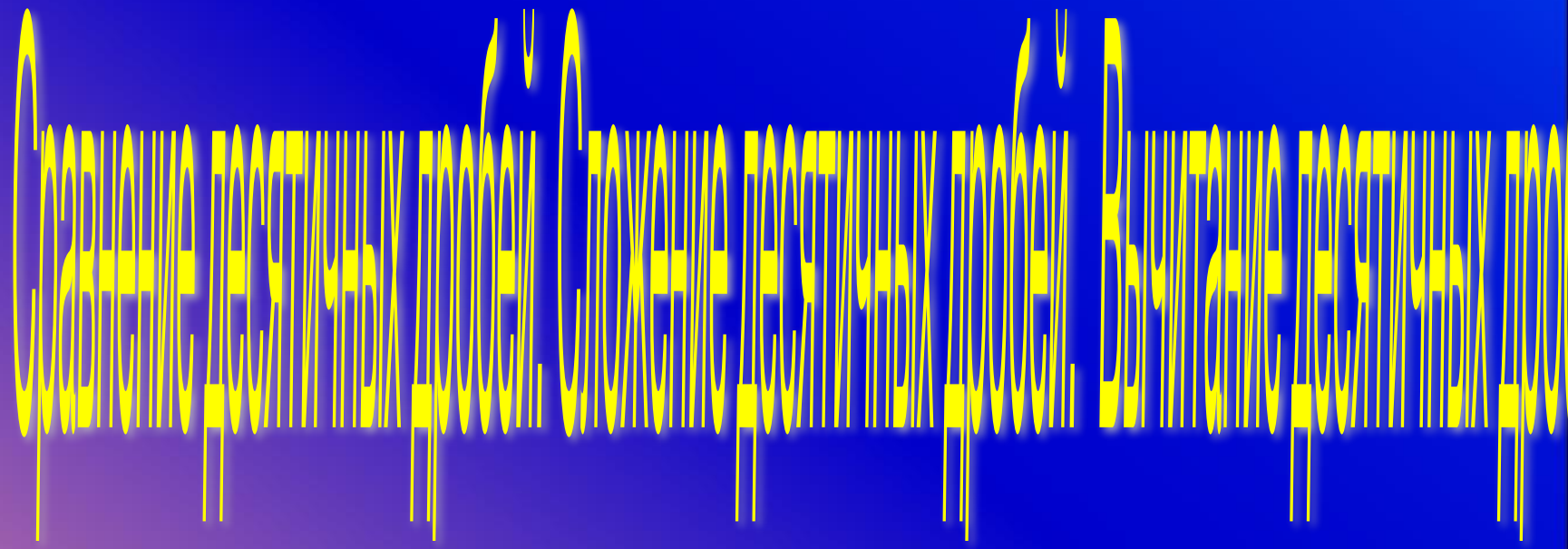
Действия с десятичными дробями

5 класс

Автор Молодцова Н.А., учитель математики
МБОУ «Средняя общеобразовательная школа с углубленным
изучением отдельных предметов № 3», г. Ханты- Мансийска . 2014г.


Сравнение десятичных дробей

Сравнение десятичных дробей. Сложение десятичных дробей



| | | | | | | | |
|-------------|--------------|---------------|---------------|------------|--------------|------------|-------------|
| 3, 5 | 0,375 | 110,67 | 61,981 | 3,6 | 3,705 | 0,8 | 6,19 |
| А | У | М | А | Ч | И | Д | В |

УДАЧИ ВАМ

The background features a vibrant spring scene. In the top right, a bright yellow sun with jagged rays shines. On the left, a branch with green leaves and white flowers is adorned with a butterfly. The bottom left shows three blue birds in flight. The bottom right is filled with soft, white, petal-like shapes. The entire scene is set against a light blue and green background with subtle circular patterns and sparkling light effects.

Пришла, улыбнулась – утихли метели,
Позванивать стал колокольчик капли.
Река пробудилась, растаяли льды,
Наряд белоснежный надели сады.
Движения полна. Зовут её ...



БЕСНА





16,3

7,7

5,2

10,6

0,3

10,4

14,35

2,76



7,7

5,2

10,6

0,3

10,4

14,35

2,76



7,7

5,2

10,6

0,3

10,4

14,35





7,7

5,2

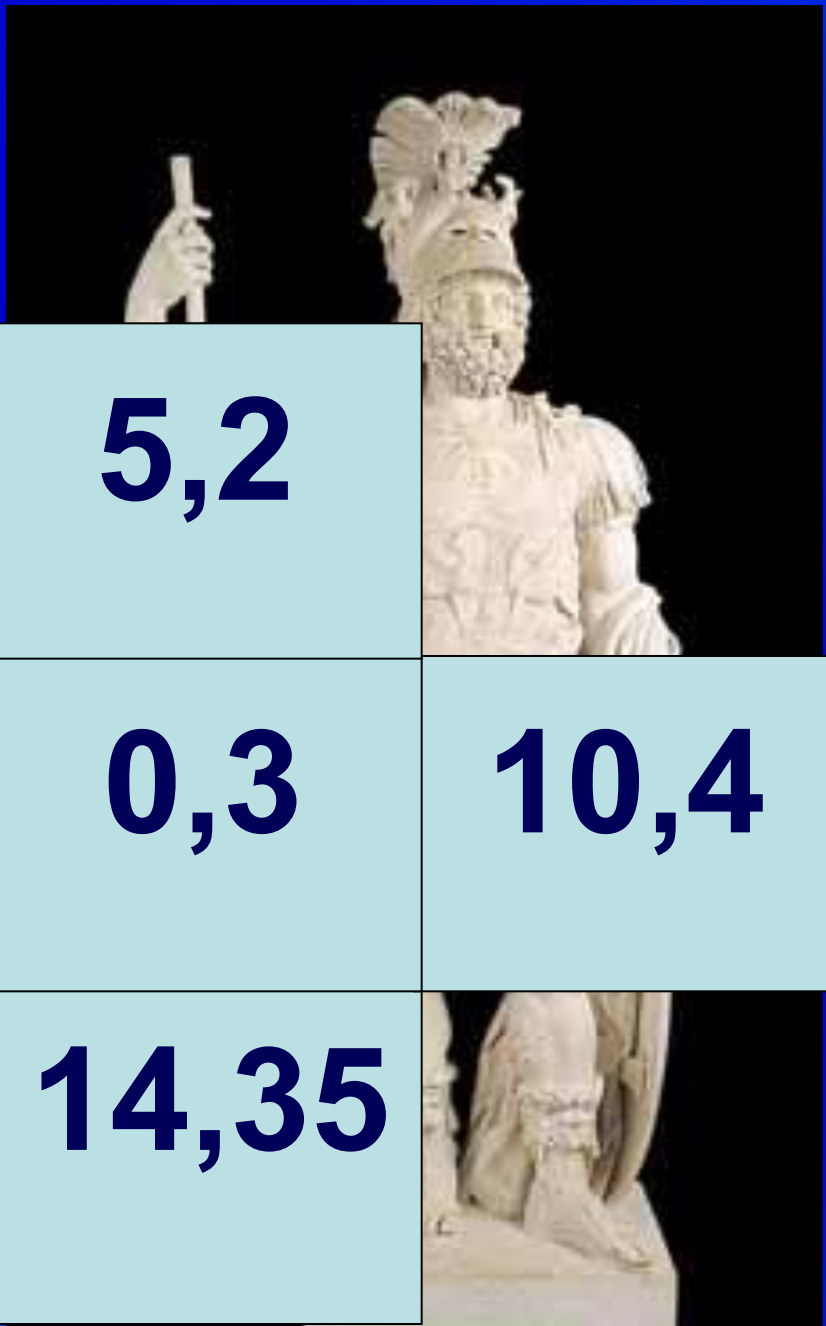


0,3

10,4

14,35






5,2

0,3

10,4

14,35



5,2



10,4

14,35





10,4

14,35





10,4



МАРТИУС

В Древней
Италии
Марс был
богом
плодородия

MARTIUS MART

Расставьте числа в порядке возрастания

13 марта

| | | | | | | | | |
|----------|----------|----------|----------|----------|----------|----------|----------|----------|
| 1,3 | 1,72 | 0,5 | 3,5 | 2,08 | 1,7 | 4,81 | 2,18 | 5,09 |
| А | Б | В | Г | Д | Е | Ж | З | И |

Расставьте числа в порядке убывания

17 марта

| | | | | | | | | |
|------|------|------|-----|------|------|-----|-----|------|
| 4,20 | 8,14 | 6,17 | 1,2 | 7,05 | 3,85 | 5,8 | 0,9 | 2,78 |
| Е | Г | А | И | Р | В | Ч | К | Н |



Дни марта

- 13 марта – Капельник
- 17 марта – Грачевник
- 21 марта – День весеннего равноденствия

Национальный праздник



Вороний день



Берегите своё



5,36

1,25

1,945

2,35

2,255

1,999

5,8

5,2

5,4

Решите задачу.

Яблоко, груша и апельсин
вместе имеют массу 0,95 кг.

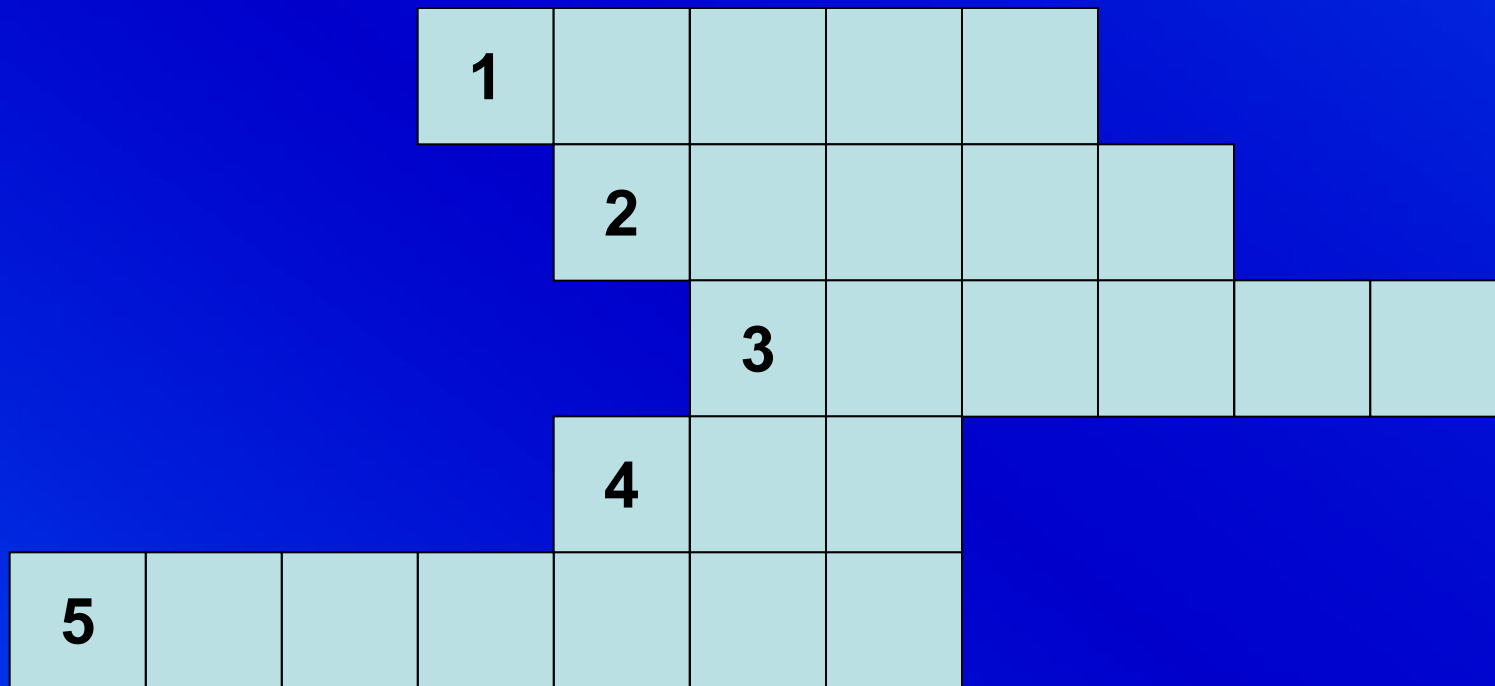
Масса апельсина 360г, а груша
на 0,158кг легче.

Найдите
массу яблока.



Ответ укажите в килограммах.

Кроссворд



1. Что можно записать с помощью цифр?

Кроссворд



2.Результат сложения?

Кроссворд



4. Единица измерения времени?

Кроссворд



МОЛОДЦЫ!

Домашнее задание.

Повторить правила и выполнить творческое задание – составить математический кроссворд о перелетных птицах.



Спасибо за урок