

Действия с десятичными дробями.

5 класс

Автор Молодцова Н.А., учитель математики
МБОУ «Средняя общеобразовательная школа с углубленным
изучением отдельных предметов № 3», г. Ханты- Мансийска . 2014г.

Сравнение десятичных дробей

Сравнение десятичных дробей

Сложение десятичных дробей


Сравнение десятичных дробей

Сложение десятичных дробей

Вычитание десятичных дробей

3, 5	0,375	110,67	61,981	3,6	3,705	0,8	6,19
А	У	М	А	Ч	И	Д	В

УДАЧИ ВАМ

The background features a vibrant spring scene. In the top right, a bright yellow sun with a jagged, pixelated edge shines. To its left, a branch with green leaves and white flowers is adorned with a butterfly with orange and black wings. The bottom left shows three blue birds in flight. The bottom right is filled with a soft, out-of-focus bokeh of white and yellow light spots. The text is centered in a purple font.

Пришла, улыбнулась – утихли метели,
Позванивать стал колокольчик капли.
Река пробудилась, растаяли льды,
Наряд белоснежный надели сады.
Движения полна. Зовут её ...



БЕСНА





16,3

7,7

5,2

10,6

0,3

10,4

14,35

2,76



7,7

5,2

10,6

0,3

10,4

14,35

2,76



7,7

5,2

10,6

0,3

10,4

14,35





7,7

5,2

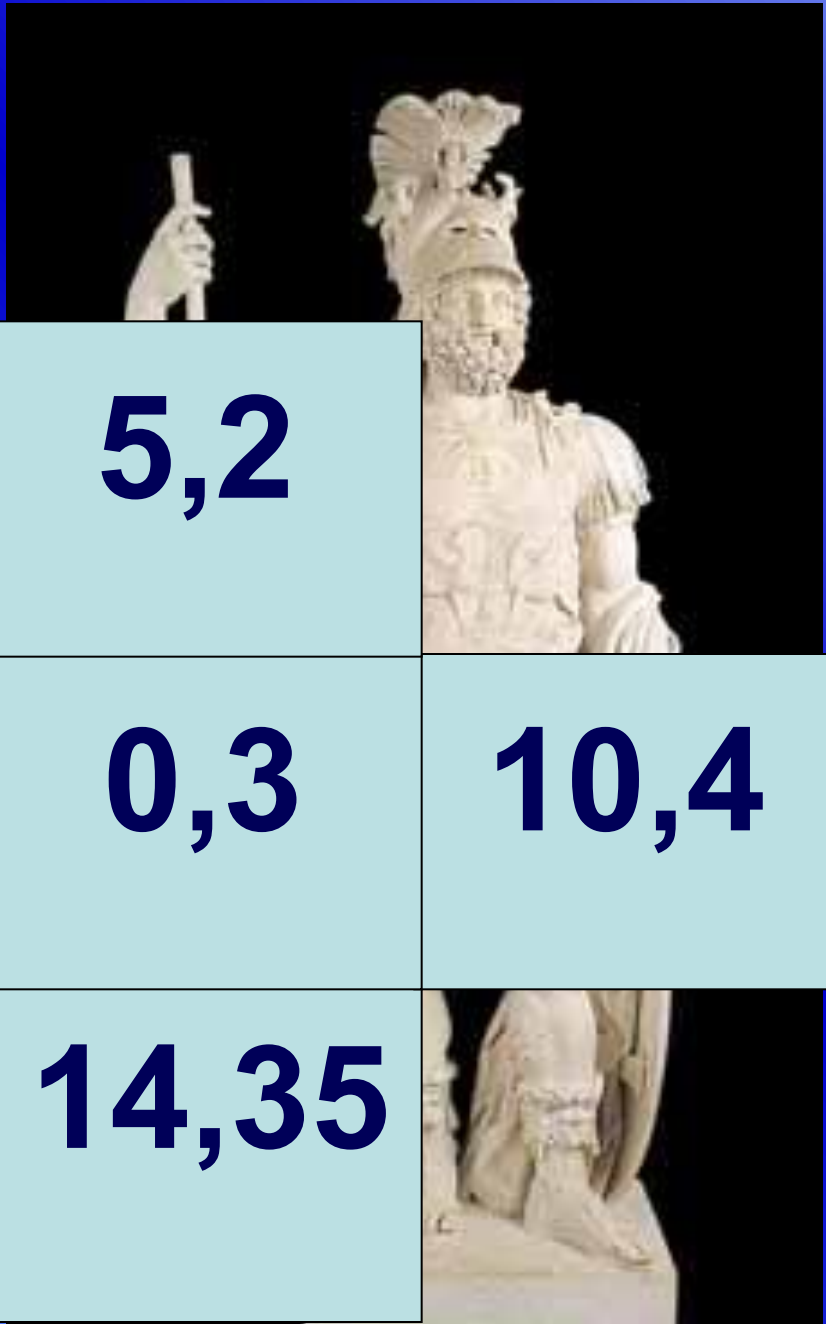


0,3

10,4

14,35






5,2

0,3

14,35


10,4



5,2



10,4



14,35



10,4

14,35





10,4



МАРТИУС

В Древней
Италии
Марс был
богом
плодородия

МАРТИУС

МАРТ

Расставьте числа в порядке возрастания

13 марта

1,3	1,72	0,5	3,5	2,08	1,7	4,81	2,18	5,09
А	Е	К	Н	Л	П	И	Ь	К

Расставьте числа в порядке убывания

17 марта

4,20	8,14	6,17	1,2	7,05	3,85	5,8	0,9	2,78
Е	Г	А	И	Р	В	Ч	К	Н


Дни марта

- 13 марта – Капельник
- 17 марта – Грачевник
- 21 марта – День весеннего равноденствия

Национальный праздник



Вороний день



Берегите своё

здоровье!



5,36

1,25

1,945

2,35

2,255

1,999

5,8

5,2

5,4

Решите задачу.

Яблоко, груша и апельсин
вместе имеют массу 0,95 кг.

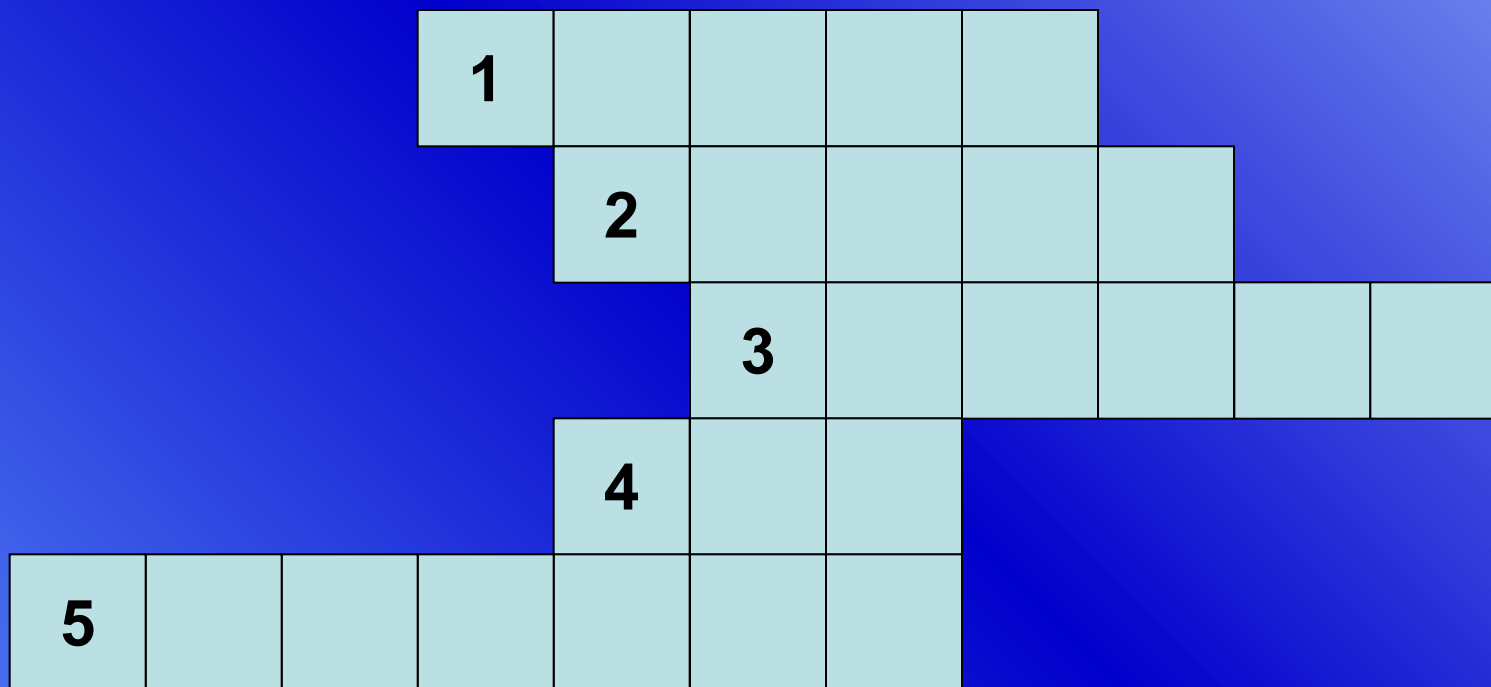
Масса апельсина 360г, а груша
на 0,158кг легче.

Найдите
массу яблока.



Ответ укажите в килограммах.

Кроссворд



1. Что можно записать с помощью цифр?

Кроссворд



2.Результат сложения?

Кроссворд



3. Самое маленькое двузначное число?

Кроссворд



4. Единица измерения времени?

Кроссворд



5. Инструмент для проведения отрезков?

Кроссворд



МОЛОДЦЫ!

Домашнее задание.

Повторить правила и выполнить творческое задание – составить математический кроссворд о перелетных птицах.



Спасибо за урок