

# Действия с величинами

**Время**

# Заполни пропуски

- **240 с = ○ МИН**
  - **1 ч 20 МИН = ○ МИН**
  - **200 МИН = ○ Ч ○ МИН**
  - **4 г. = ○ МЕС.**
  - **4 МИН 15 с = ○ с**
  - **600 с = ○ МИН**
-



# Заполни пропуски

•  $\frac{1}{4}$  СУТ. =  Ч

•  $\frac{1}{3}$  Г. =  МЕС.

•  $\frac{1}{6}$  Ч =  МИН

•  $\frac{1}{5}$  В. =  ЛЕТ

•  $\frac{1}{4}$  МИН =  С

•  $\frac{1}{2}$  СУТ. =  МИН

---

# Установи соответствие

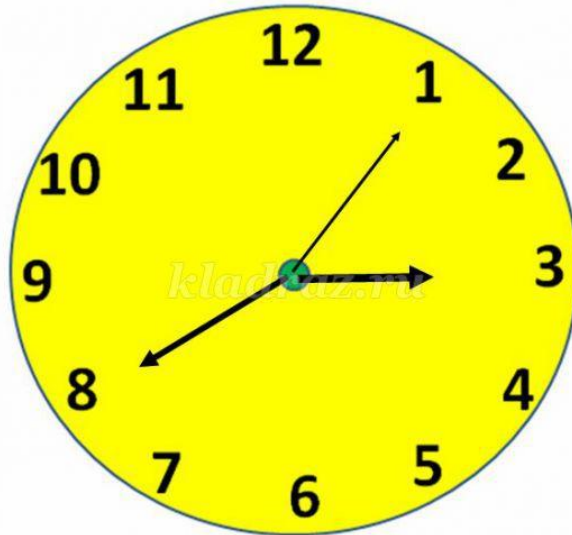
3 ч	72 ч
3 сут.	180 мин
3 мин	21 сут.
3 г.	300 лет
3 в.	36 мес.
3 нед.	180 с
3 ч 3 мин	210 с
3 мин 30 с	183 мин



## Сравни величины

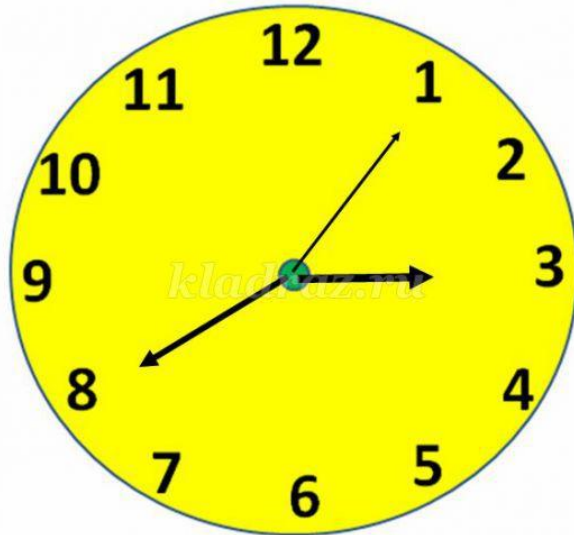
- 80 мин  1 ч 10 мин
  - 3 ч  180 мин
  - 50 мин  5 ч
  - 2 нед.  20 сут.
  - 1 г.  36 мес.
-

# Какое время будут показывать часы через 35 мин

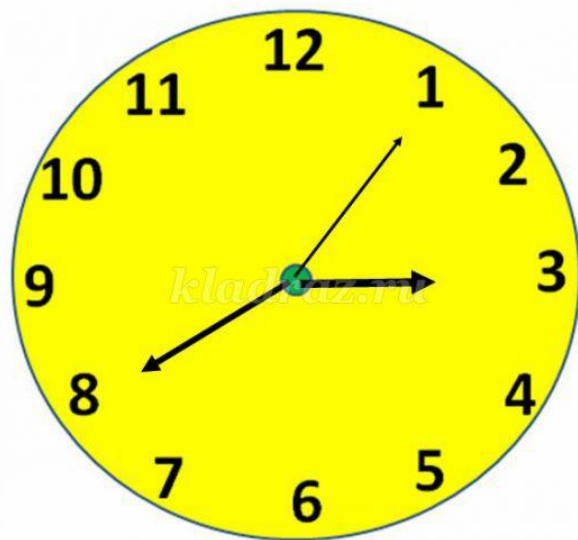





# Какое время будут показывать часы через 1 ч 40 мин

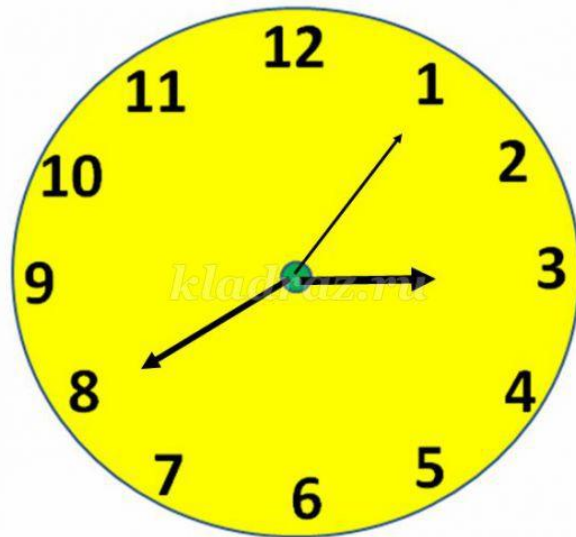



# Какое время показывали часы 20 мин назад





# Какое время показывали часы 2 ч 10 мин назад



# Найти значение выражения

- $3 \text{ ч } 15 \text{ мин} + 45 \text{ мин} =$
  - $2 \text{ ч } 30 \text{ мин} - 45 \text{ мин} = 1 \text{ ч } 45 \text{ мин}$
  - $2 \text{ сут.} - 18 \text{ ч} = 1 \text{ сут. } 6 \text{ ч}$
-



# Найти значение выражения

- $3 \text{ ч } 52 \text{ мин} + 46 \text{ мин} = 4 \text{ ч } 38 \text{ мин}$
  - $3 \text{ ч } 20 \text{ мин} - 52 \text{ мин} = 2 \text{ ч } 28 \text{ мин}$
  - $5 \text{ мин } 7 \text{ с} - 3 \text{ мин } 39 \text{ с} = 1 \text{ мин } 28 \text{ с}$
-