




Урок математики

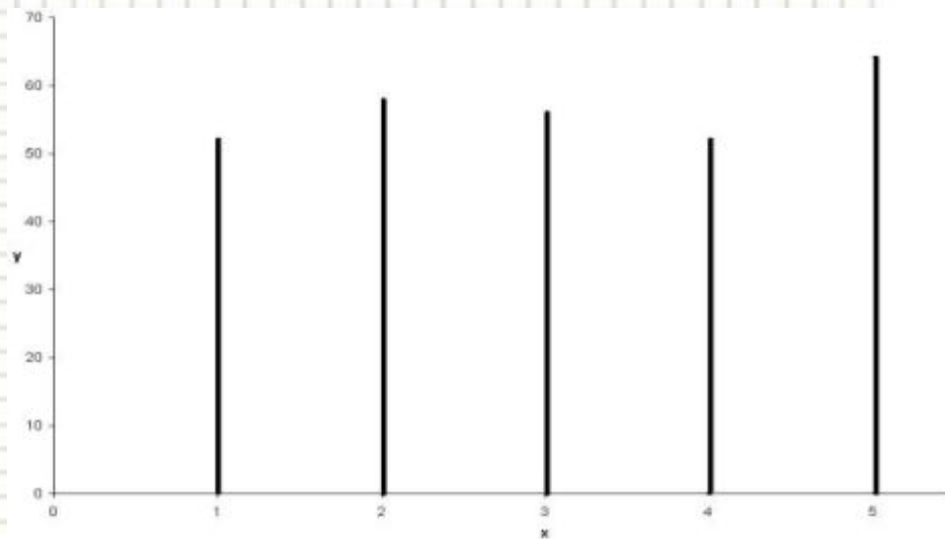
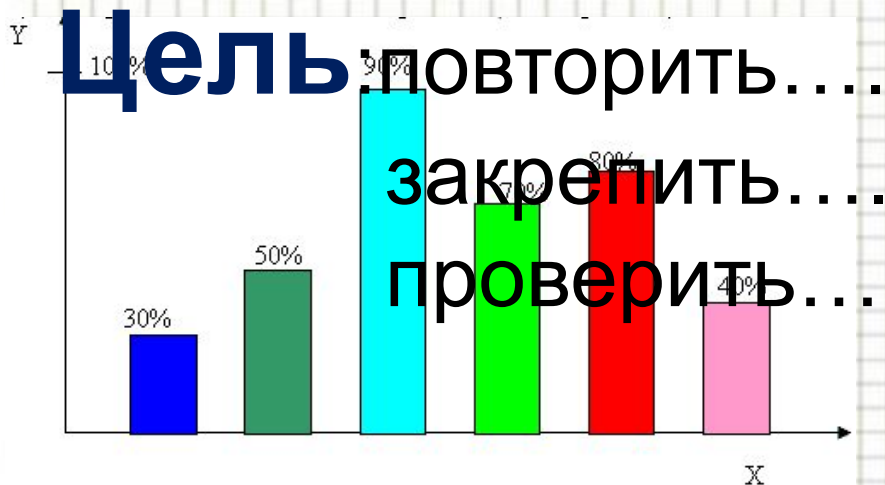


Все расселись по местам, никому не
тесно,
По секрету скажу вам: “Будет интересно!”
Будем мы считать, писать, и решать
задачи,
Чтоб сегодня, как всегда, в руки шла
удача.



Повторим материал, закрепим умения,
Чтобы каждый мог сказать: “Это всё умею
я”.

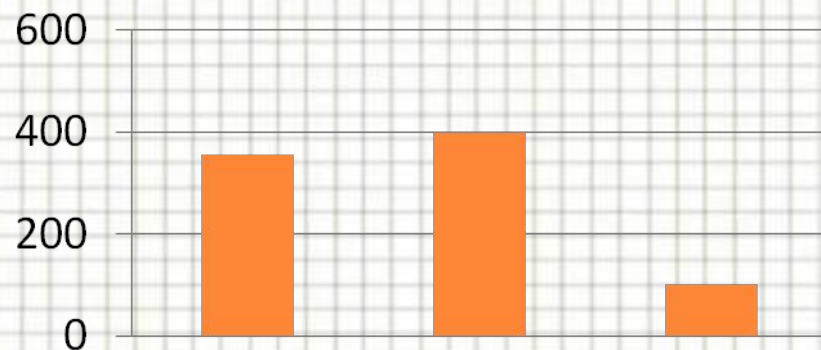
Линейные и столбчатые диаграммы.



Виды диаграмм:

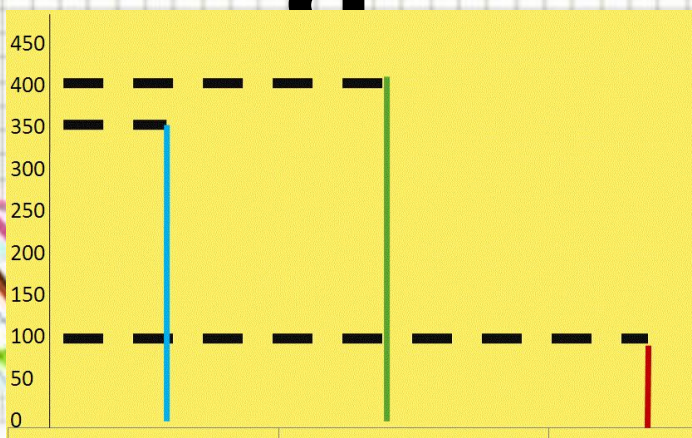


кругова



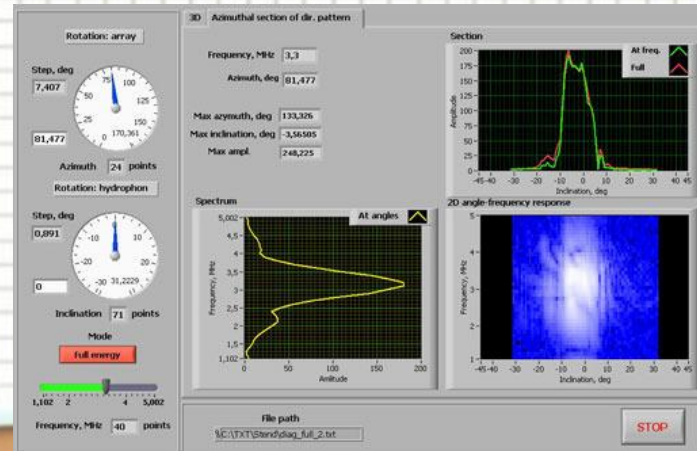
столбчат

ая

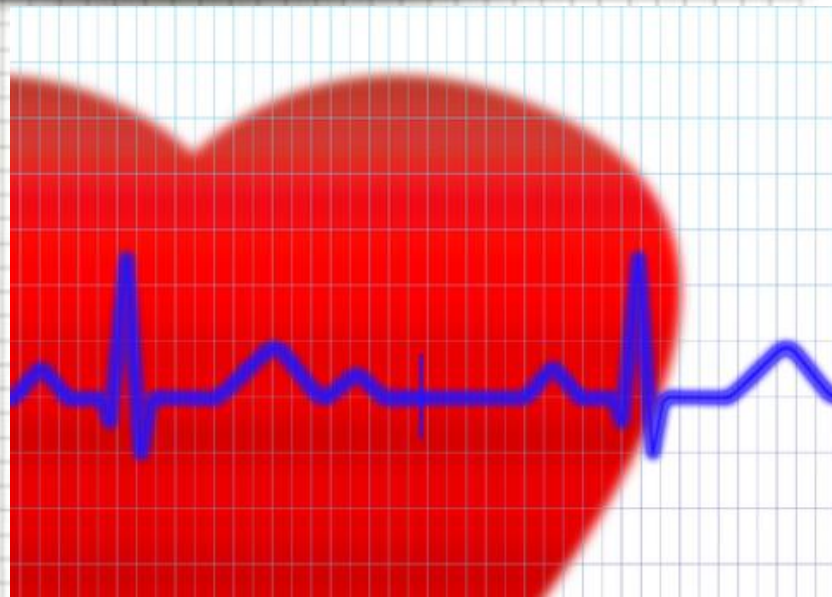


линейна

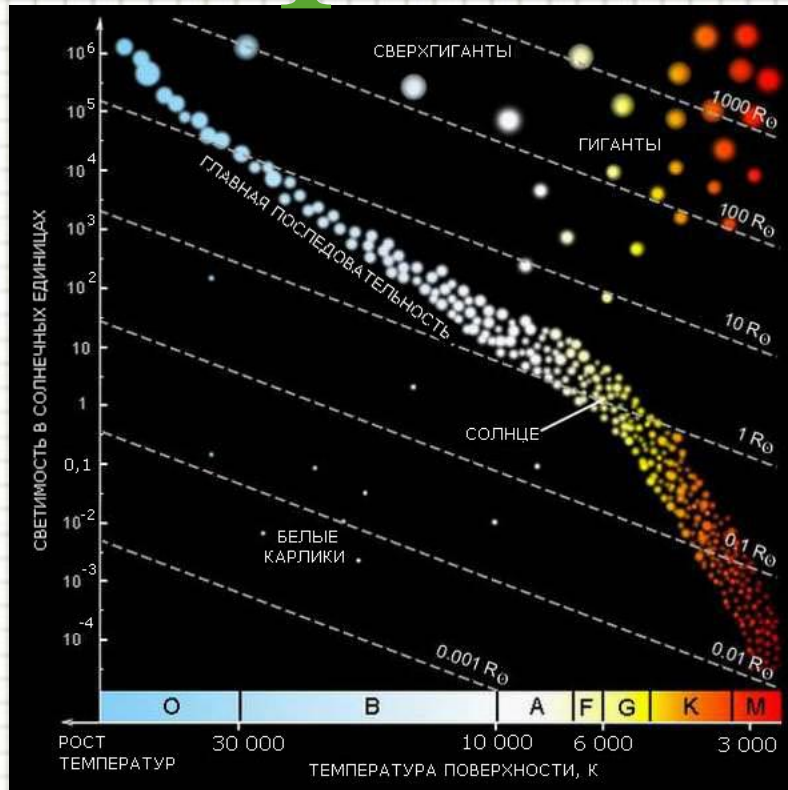
Техника



МЕДИЦИНА



астрономия




география

Самостоятельная работа



Правила работы в группах.

- 1. В группе должен быть организатор обсуждения.
- 2. Каждый может высказать свою версию решения.
- 3. Один говорит, а остальные слушают.
- 4. Каждая версия обсуждается в группе.
- 5. В группе согласуется общее решение.
- 6. Представитель группы защищает согласованное решение перед классом.



Работа в группах

- 1 группа: Любимые школьные предметы
- 2 группа: Любимые жанры художественной литературы
- 3 группа: Занятия во второй половине дня
- 4 группа: Количество детей в семье



Алгоритм построения диаграммы

Подобрать цену деления шкалы,
удобную для обозначения на ней значений
данных величин.

Изобразить шкалу на вертикальном координатном
луче, и на горизонтальном луче
отметить на равном расстоянии друг от друга точки
по числу имеющихся величин.

От выбранных точек построить
вертикальные отрезки (столбики), высота
которых равна значению
соответствующих величин.



Физминутка

- Нам пора передохнуть,
Потянуться и вздохнуть. (Глубокий вдох и выдох.)
Покрутили головой,
И усталость вся долой!
Раз-два-три-четыре-пять,
Шею надо разминать. (Вращения головой в одну и другую стороны.)
Встали ровно. Наклонились.
Раз - вперёд, а два — назад.
Потянулись. Распрямылись.
Повторяем всё подряд. (Наклоны вперёд и назад.)
А потом мы приседаем.
Это важно, сами знаем.
Мы колени разминаем,
Наши ноги упражняем. (Приседания.)



TECT



Выбери правильный ответ.

№ 1. **Диаграмма - это**

А) картинка
запись

В) краткая

Б) чертёж или схема
иллюстрация

Г)



№ 2. Какие бывают виды диаграмм?

А) овальная, круговая, треугольная

Б) цифровая, линейная, симметричная


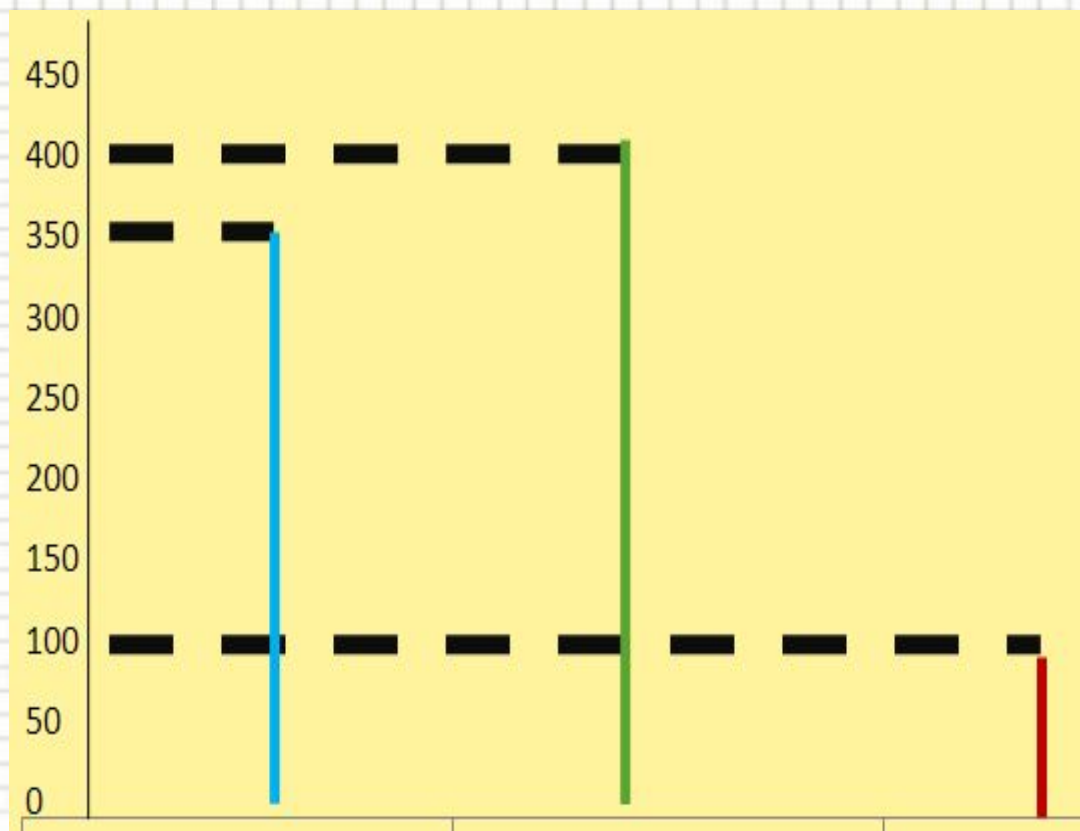
В) кривая, столбчатая, волнистая

Г) линейная, круговая, столбчатая



№3. Определи вид диаграммы:

- А) столбчатая**
- Б) круговая**
- В) линейная**
- Г) конусная**



Проверка

№1. Б

№2. Г

№3. В



Рефлексия

1



5

4

3

2



Домашнее задание

*Составить столбчатую диаграмму своего
распорядка дня или любимых занятий*

