

Дидактическая игра


«Математика - это просто»

математика 2 класс



Автор работы:
учитель начальных классов
г. Ярославль.
Чайкина Зоя Андреевна





Первый этаж

Добро пожаловать!

Этаж «Сложение»

Выполни сложение чисел

Этаж «Вычитание»

А знаете ли Вы, что...?

Выполни вычитание чисел

Этаж «Уравнение»

Реши уравнения

Реши уравнения

Этаж «Единицы длины»

Сравнение величин

Сравнение величин

Этаж «Неравенство»

В каком неравенстве ошибка?

«Весёлый счёт». С.Маршак

Этаж «Найди ошибку»

В каком равенстве ошибка?

Найди ошибку

Этаж «Время»

Верно ли?

Верно ли?

Этаж «Геометрия»

Угол

Треугольник

Этаж «Считалочка»

Ломаная

Треугольник и прямоугольник

Добро пожаловать!

Дорогие ребята!

Приглашаю вас пройтись по этажам чудесного дома «Математика – это просто». Начинать путешествие можно с любого этажа, нажимая мышкой на кнопку выбранного этажа. Чтобы перейти на следующий этаж надо кликнуть мышкой на двери лифта. На каждом этаже находятся две квартиры, а в каждой из них «Царица наук» предложит вам свои задания. Чтобы войти в квартиру вам нужно кликнуть мышкой на выбранную дверь. Если вы ответили правильно, то рамочка с ответом окрасится в зелёный цвет, а если допустили ошибку, то рамочка только покачается.

Желаю успеха!



Заголовок 1

Место происшествия. НЕТ ВХОДА

Выполни сложение чисел

2
ЭТАЖ

Выполните сложение чисел

$25 + 4$

27

28

20

29

$83 + 5$

78

68

88

98

$65 + 2$

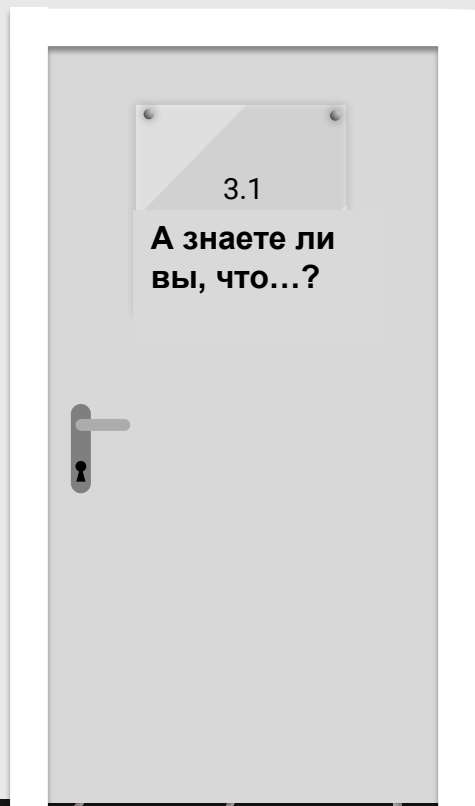
69

63

67

66






А знаете ли Вы, что...?



Ноль – единственное число, которое нельзя написать римскими цифрами.

Ноль – это единственная цифра, которой поставлен памятник (в Венгрии, в Будапеште).



Выполни вычитание чисел

$48 - 5$

43

33

63

53

$59 - 6$

65

53

63

43

$86 - 3$


92

91

89

83





Реши уравнения

$$x + 13 = 33$$

30

20

46

$$x + 20 = 68$$

48

88



58

$$15 + x = 45$$

30

60

50



Реши уравнения

$$x - 20 = 72$$

82

52

92

$$30 - x = 16$$

46

44


14


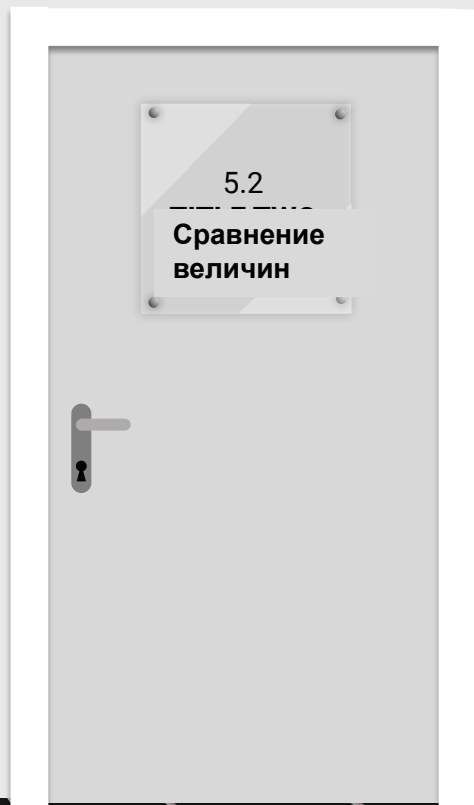
$$43 - x = 21$$

32

22

64





Расположи величины в порядке увеличения

34см, 34м, 34дм

16дм, 16м, 16см.

23м, 23см, 23дм.

34дм, 34м, 34м

16см, 16дм, 16м

23дм, 23см, 23м

34м, 34дм, 34см


16дм, 16см, 16м

23см, 23дм, 23м

34см, 34дм, 34м

16м, 16дм, 16см

23см, 23м, 23дм



Расположи числа в порядке уменьшения

58, 60, 45, 22

32, 98, 97, 25

21, 22, 84, 73

22, 45, 58, 60

97, 98, 32, 25

84, 73, 22, 21

58, 60, 45, 22

25, 32, 97, 98

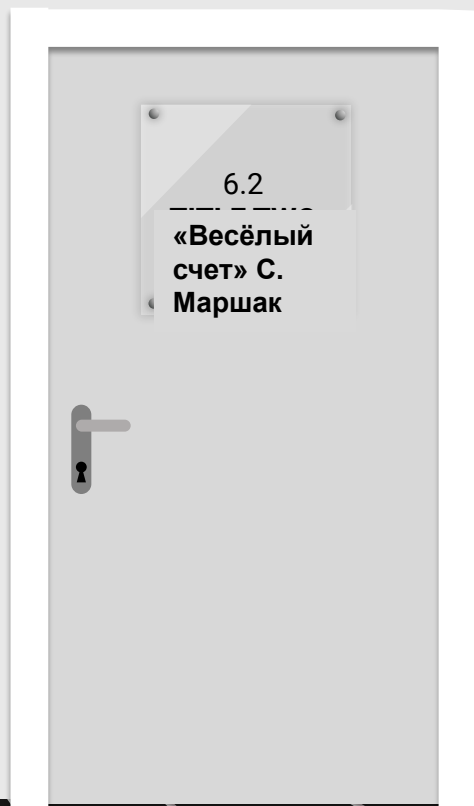
21, 22, 73, 84

60, 58, 45, 22

98, 97, 32, 25

84, 73, 21, 22





Какое неравенство неверно?

Вопрос 1

$$31 - 9 > 30$$

$$60 + 9 < 70$$

$$30 - 2 > 22$$

$$42 + 6 < 50$$

Вопрос 2

$$64 + 8 > 70$$

$$98 - 5 > 90$$

$$100 - 70 < 20$$

$$50 - 4 < 48$$


Вопрос 3

$$65 + 25 > 89$$

$$100 - 9 < 98$$

$$40 - 31 < 19$$

$$53 + 9 > 63$$



Весёлый счёт.

Вот один иль единица,
Очень тонкая, как спица,
А вот это цифра два.
Полюбуйся, какова:
Выгибает двойка шею,
Волочится хвост за нею.
А за двойкой - посмотри
Выступает цифра три.
Тройка - третий из значков
Состоит из двух крючков.
За тремя идут четыре,
Острый локоть оттопыря.
А потом пошла плясать
По бумаге цифра пять.


С.Маршак

Руку вправо протянула,
Ножку круто изогнула.
Цифра шесть - дверной
замочек:
Сверху крюк, внизу кружочек.
Вот семерка - кочерга.
У нее одна нога.
У восьмерки два кольца
Без начала и конца.
Цифра девять иль девятка
Цирковая акробатка:
Если на голову встанет,
Цифрой шесть девятка
станет.





7
ЭТАЖ



В каком равенстве ошибка?

Вопрос 1

$$50 + 44 = 94$$

$$92 - 3 = 89$$

$$70 - 30 = 42$$

Вопрос 2

$$80 - 27 = 63$$

$$39 + 6 = 45$$


$$61 - 5 = 56$$

Вопрос 3

$$65 + 25 = 90$$

$$40 - 31 = 19$$

$$53 + 9 = 62$$



Найди ошибку

Вопрос 1

$$1\text{м}2\text{дм} = 12\text{дм}$$

$$1\text{м} = 100\text{дм}$$

$$3\text{дм}8\text{см} = 38\text{см}$$

Вопрос 2

$$26\text{дм} = 2\text{м}6\text{дм}$$

$$47\text{см} = 4\text{дм}7\text{см}$$

$$68\text{мм} = 6\text{см}8\text{мм}$$

Вопрос 3

$$38\text{мм} = 30\text{см}8\text{мм}$$

$$5\text{см}9\text{мм} = 59\text{мм}$$

$$85\text{см} = 8\text{дм}5\text{см}$$





«Да» или «Нет»

1ч = 60мин

Да

Нет

1ч20мин = 80мин


Нет

Да

1ч40мин = 90мин

Да

Нет



«Верно» или «Неверно»

65мин = 1ч

верно

неверно

75мин = 1ч35мин

неверно

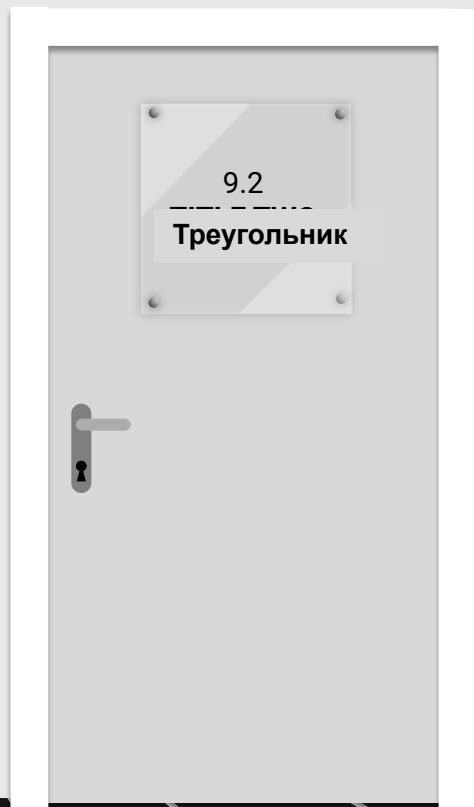
верно

85мин = 1ч25мин

верно

неверно




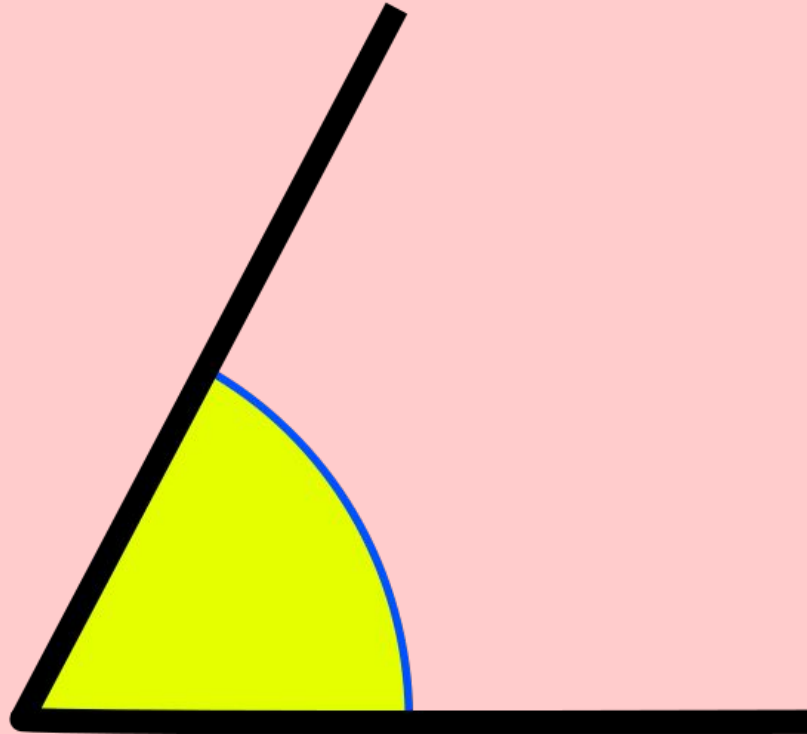


Этот угол:

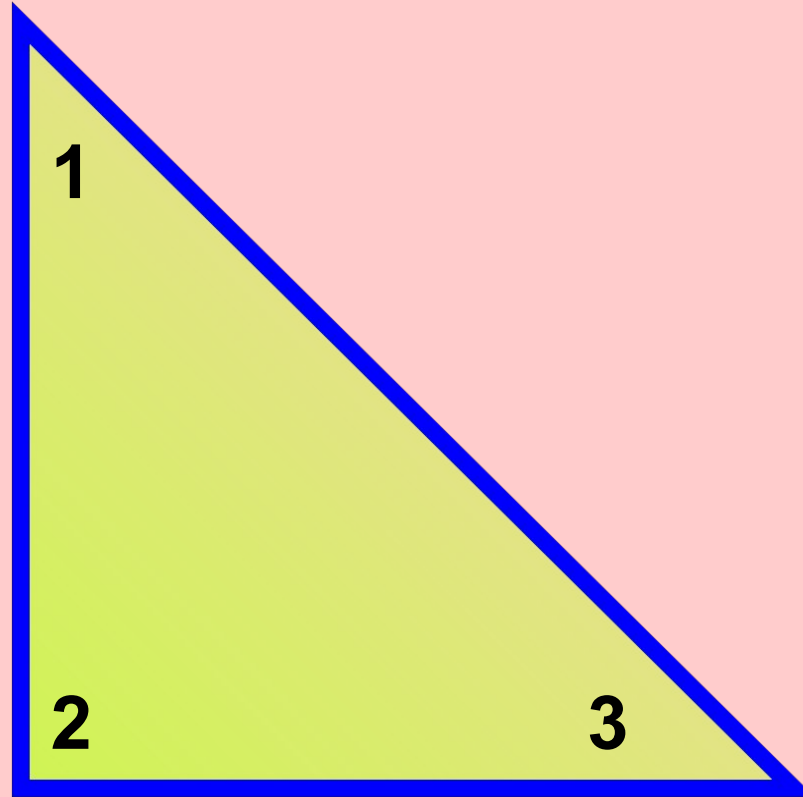
Меньше прямого

Больше прямого

Равен прямому



Какой угол в треугольнике прямой?


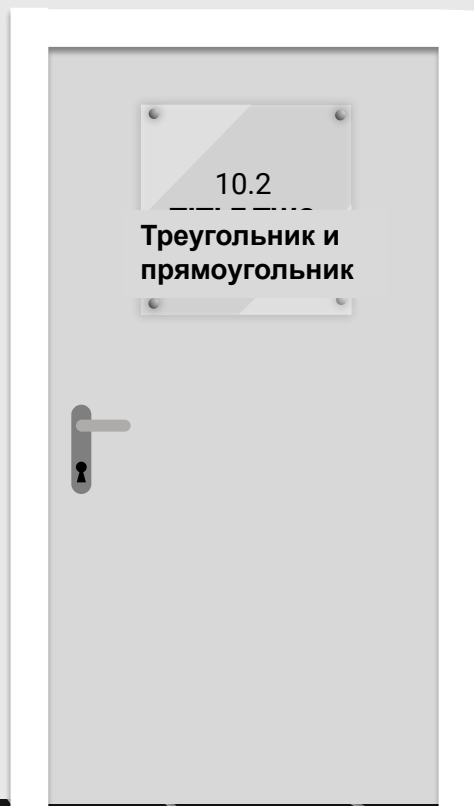


1

2

3

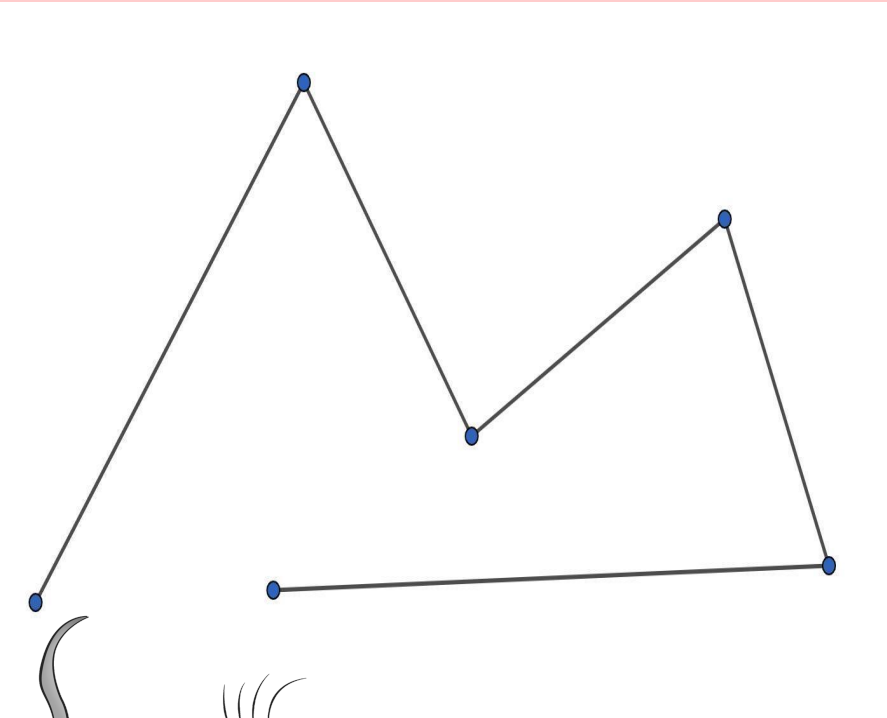




Ломаная

Сколько
сегментов имеет
ломаная

Сколько
вершин имеет
ломаная?



4


6

5

5

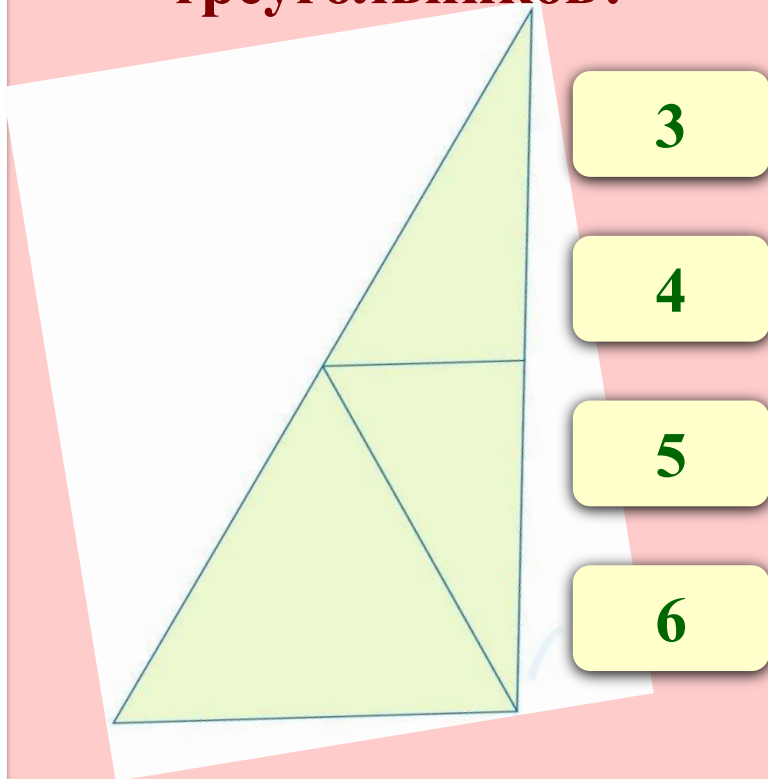
6

4




Сколько на рисунке треугольников и четырёхугольников?

Сколько на рисунке
треугольников?



Сколько на рисунке
прямоугольников?



Источники

- <https://easyen.ru/logotip/logo.png> Логотип СУП
- <http://didaktor.ru/novogodnij-podarok-ot-didaktora/> шаблон игры
- <http://naymenok.ru/wp-content/uploads/2019/11/skazki-pro-myshej-4.jpg> -мышка
- <https://i.pinimg.com/originals/d4/ee/25/d4ee250628c4a4ef5b4a4903b1e0561c.png> -мышка
- <https://img2.freepng.ru/20180507/tze/kisspng-house-mouse-clip-art-5af10e04d0f443.5333814115257472048559.jpg> -мышка
- <https://i.pinimg.com/originals/45/a5/e0/45a5e03c2efeda75554c64615ae0eef4.jpg> -2мышки
- <https://i.pinimg.com/originals/6f/45/69/6f456901429df4b34983eeb6f29fe807.png> -мышки
- <https://i.pinimg.com/736x/20/c9/d2/20c9d23eb2f3404fee212cadfe442a84.jpg> -мышки
- https://fsd.videouroki.net/html/2020/04/17/v_5e9958a07a3a5/99749769_1.png -угол
- https://upload.wikimedia.org/wikipedia/commons/thumb/f/f2/Triángulo_rectángulo_isósceles.svg/1200px-Triángulo_rectángulo_isósceles.svg.png -треугольник
- <https://ru-static.z-dn.net/files/d7a/3467880b4d98fa883af1521242521146.png> -ломаная
- <https://ru-static.z-dn.net/files/d8a/a438ed947f73ea2cf8c4a86e644302be.png> -треугольник
- <https://fs01.infourok.ru/images/doc/98/116754/img13.jpg> -прямоугольник
- https://1.bp.blogspot.com/_i_jt8rJVOUA/TTBdjdNlv6I/AAAAAAAAAKM/qIWqjDweKsw/s1600/%25D0%25BD%25D0%25BE%25D0%25BB%25D1%258C.jpg -памятник нулю
- https://easyen.ru/load/metodika/technologicheski_priem/sozдание_didakticheskoy_igry_dom_znanij_na_osnove_s_hablona_g_o_astvacaturova/246-1-0-76083 - МК





Free themes and templates for
Google Slides or **PowerPoint**

NOT to be sold as is or modified!

Read [FAQ](#) on slidesmania.com

Do not remove the slidesmania.com text on the sides.

Sharing is caring!

