

# Игровое

Загадки в числах	<u>10</u>	<u>20</u>	<u>30</u>	<u>40</u>	<u>50</u>
Примеры и уравнения	<u>10</u>	<u>20</u>	<u>30</u>	<u>40</u>	<u>50</u>
Задачк и	<u>10</u>	<u>20</u>	<u>30</u>	<u>40</u>	<u>50</u>
Ребусы	<u>10</u>	<u>20</u>	<u>30</u>	<u>40</u>	<u>50</u>



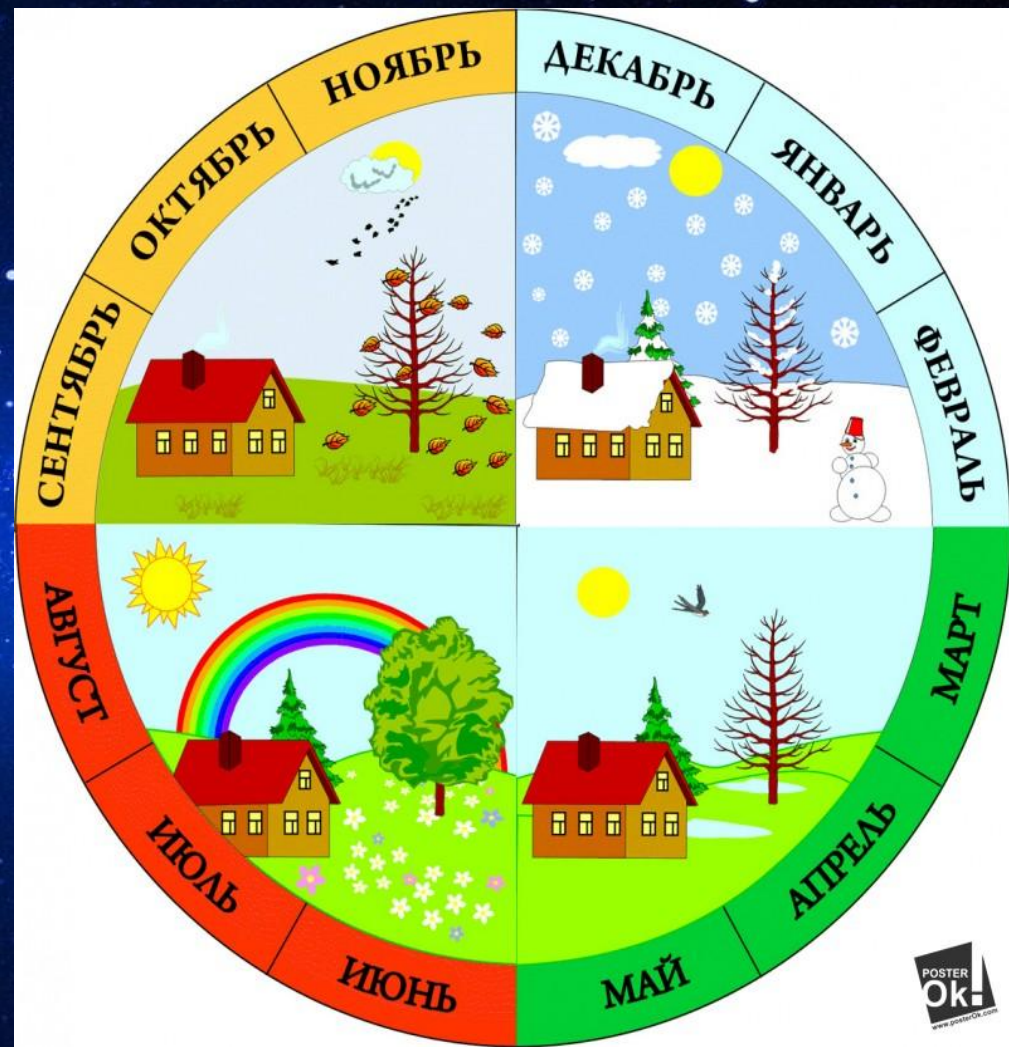
Отгадайте-ка, друзья,  
Что за цифрой буду я?  
Ручку вправо  
повернула,  
Ножку круто изогнула?



Рогалик к бублику приклей,  
Да только есть его не  
смей.  
Не крендель это, чтобы  
есть.  
А просто - это цифра...



Двенадцать братьев  
Друг за другом ходят,  
Друг друга не обходят.



Пять чуланов, одна дверь



Восемь ног, как восемь  
рук,  
Вышивают шёлком круг.  
Мастер в шёлке знает  
толк,  
Покупайте, мухи, шелк!




*Решу*  
*пример*  
 $72-34+52$



*Решу*  
*пример*  
**100 – (29+14)**







# Перечисли все компоненты умножения

МНОЖИТЕЛЬ МНОЖИТЕЛЬ ПРОИЗВЕДЕНИЕ

$$2 \cdot 4 = 8$$

ПРОИЗВЕДЕНИЕ



**Реши  
уравнение  
 $X * 56 = 56$**



**Реши**  
**уравнение**  
 **$У - 12 = 71$**




В первый день золотая гусыня снесла 37 золотых  
яиц.

Во второй день на 14 больше.

Сколько всего золотых яиц снесла гусыня ?





Какие три числа,  
если их сложить или  
перемножить, дают  
один и тот же  
результат?

1,2,3

$1+2+3=6$  или

$1*2*3=6$



Мельник пришел на мельницу. В каждом углу он увидел по 3 мешка, на каждом мешке сидело по 3 кошки, у каждой кошки по 3 котёнка. Сколько ног было на мельнице?

Две ноги, у кошек лапы




В магазине за три дня  
продали 72 кг яблок. В  
первый день продали 29  
кг яблок, а во второй –  
19 кг. Сколько яблок  
продали за третий  
день?



Света разговаривала по телефону с Костей 16 минут, а с Катей на 3 минуты больше.

Сколько минут всего Света разговаривала с Костей и Катей?





У Маши несколько кукол.  
Папа подарил ей не день  
рождения столько же кукол,  
сколько у неё было. Теперь у  
Алины 12 кукол. Сколько  
кукол подарил ей папа ?



*Продолжи ряд чисел*

13, 16, 19, 22, ..., ..., 31,

34, ... .

25, 28, 37



# Вставь пропущенные знаки

34 \* 7 \*

$$34 - 7 + 9 = 36$$



Вставь вместо \*  
числа

$$34 + 2 * = * 0$$

$$34 + 26 = 60$$




*Между цифрами поставьте знаки действий и скобки так, чтобы получилось верное равенство.*

1 2 3 4 = 4

$$1+2-3+4=4$$





Из чисел

21, 19, 30, 25, 3, 12, 9, 1

5, 6, 27 подбери такие

три числа, сумма

которых будет равна

50?

$$19 + 6 + 25 = 50$$

