



Летний марафон  
интерактивных презентаций

# Дидактическая игра «Вычисление расстояния по рисунку»

Технологический приём «Яблочко на тарелочке»

*Иванова Нина Николаевна,*  
учитель математики  
МОУ «СОШ»с. Большелуг Корткеросский район  
Республика Коми

2021 г.




# **Инструкция:**

**Ребята!**

**Предлагаются задания для нахождения расстояния по рисунку. После выполнения задания, чтобы проверить правильность ответа, надо щёлкнуть мышкой по красному карандашу, после этого появится правильный ответ на тарелке.**

**Успехов вам!**






На плане одного из районов города клетками изображены кварталы, каждый из которых имеет форму квадрата со стороной 150 м. Ширина всех улиц в этом районе — 25 м. Найдите длину пути от точки А до точки В, изображенных на плане. Ответ дайте в метрах


РЕШУВ.ПР.Ф

A red apple with a green leaf is positioned to the right of the text.




На плане одного из районов города клетками изображены кварталы, каждый из которых имеет форму квадрата со стороной 100 м. Ширина всех улиц в этом районе — 30 м. Найдите длину пути от точки А до точки В, изображенных на плане





На плане одного из районов города клетками изображены кварталы, каждый из которых имеет форму квадрата со стороной 120 м. Ширина всех улиц в этом районе — 40 м. Найдите длину пути от точки А до точки В, изображенных на плане.

A chalkboard with a wooden frame is shown. On the ledge in front of it are a piece of white chalk, a stack of books, and a red apple. The text on the board is in Russian, describing a math problem about a city grid.



На плане одного из районов города клетками изображены кварталы, каждый из которых имеет форму квадрата со стороной 140 м. Ширина всех улиц в этом районе — 30 м. Найдите длину пути от точки А до точки В, изображенных на плане.

РЕШУВ.ПР.ФФ

A wooden-framed chalkboard with a green surface. On the ledge below the board are a piece of white chalk, a roll of orange eraser, and a red apple with a green leaf. The text on the board describes a grid of city blocks and asks for the length of a path from point A to point B.

# Источники:

[яблоко](#)

[доска](#)

[карандаш](#)

[круг](#)

[Фон яблоневого](#)

[фон](#)

Эмблема сайта <http://easyen.ru/logotip/logo.png>

*Решу ВПР»: математика – 5. ВПР - 2021: задания, ответы, решения. Обучающая система Дмитрия Гущина <https://math5-vpr.sdangia.ru/test?theme=12>*

