




*1-2 класска математика
кичээлдэринге*



• МБОУ Суг-Аксынская СОШ учитель
начальных классов Ондар.Ч.М.



Оюнну шилип алынар.

Смешариктернин частырыглары.

Кым кайы чижекти бодааныл?

Кым кайы бажындаал?

Балыктаашкын



Математиктиг футбол

Смешариктернин частырыын тывынар.

$8-4=4$

$6+2=8$

$8-3=5$

$9-6=3$

$8-1=7$

$2+7=9$

$7+3=10$

$5-2=3$

$10-6=4$

$5+5=10$

$4+2=6$

$7-4=3$



Кым кайы чижекти бодааныл ?

10



$8-5=$

$6+4=$

8



$9-5=$

$7-5=$

9



$3+3=$

$6-1=$

2



6



4



5



3



7



Кым кайы бажындал ?

6



$7-4$



3

$10-2$

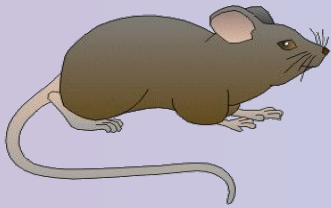
8



$5+4$




$3+2$



$3+1$



$8-2$



9



4



Балыктаашкын.



4

3+1



2+1



3-2



2-1



4+4



1+1



2+2



5+1



Оюн «Футбол»

$29+50$



$80-33$



47



$78-31$



$36+43$



$20+27$




$70-23$



$90-1$



A cluster of yellow triangles of various sizes and orientations, some pointing up, some down, and some sideways, located in the top-left corner of the page.

Хунчугешке дузалажыыл!

$19-9$

$42-2$

$6+8$

$61-60$

$9+9$

$37-7$

$8+7$

$73+7$

$63-60$

Койгунга дузалажыыл!

