

24

СЕНТЯБРЯ  
ПОНЕДЕЛЬН  
ИК  
МАТЕМАТИК  
А



Две



Одна



:

Один

Два

Три

Четыр

е:



$$3-1=2$$

$$4-1=3$$

$$3+1=4$$

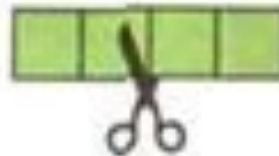


**Схем**


**ы:**



$$\square + \square = \square$$



$$\square - \square = \square$$



$$\square - \square = \square$$

Какое число  
пропущено:

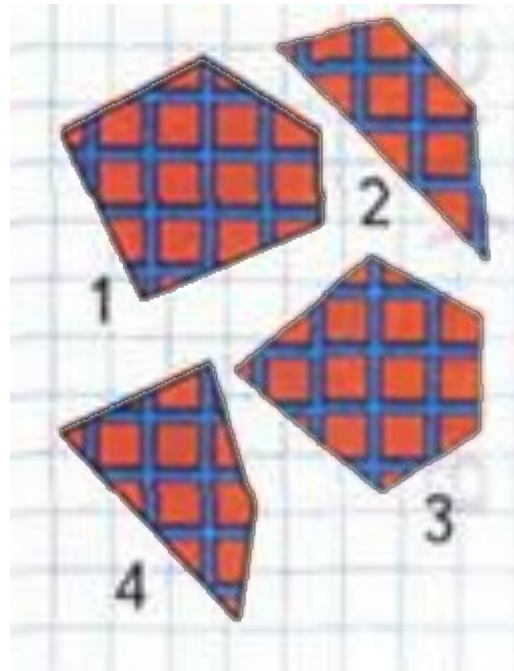


Из 4 вычтешь 1, получишь 3

$$4 - 1 = 3$$


Какое число

< ольш >


2 или 4?    3 или 1?



# Длиннее,



Какой поводок длиннее, а какой короче?  
Чей хвост длиннее? Чьи уши короче?



Какой ремень короче? Какой ремень длиннее?  
Какой ремень шире? Какой ремень уже?

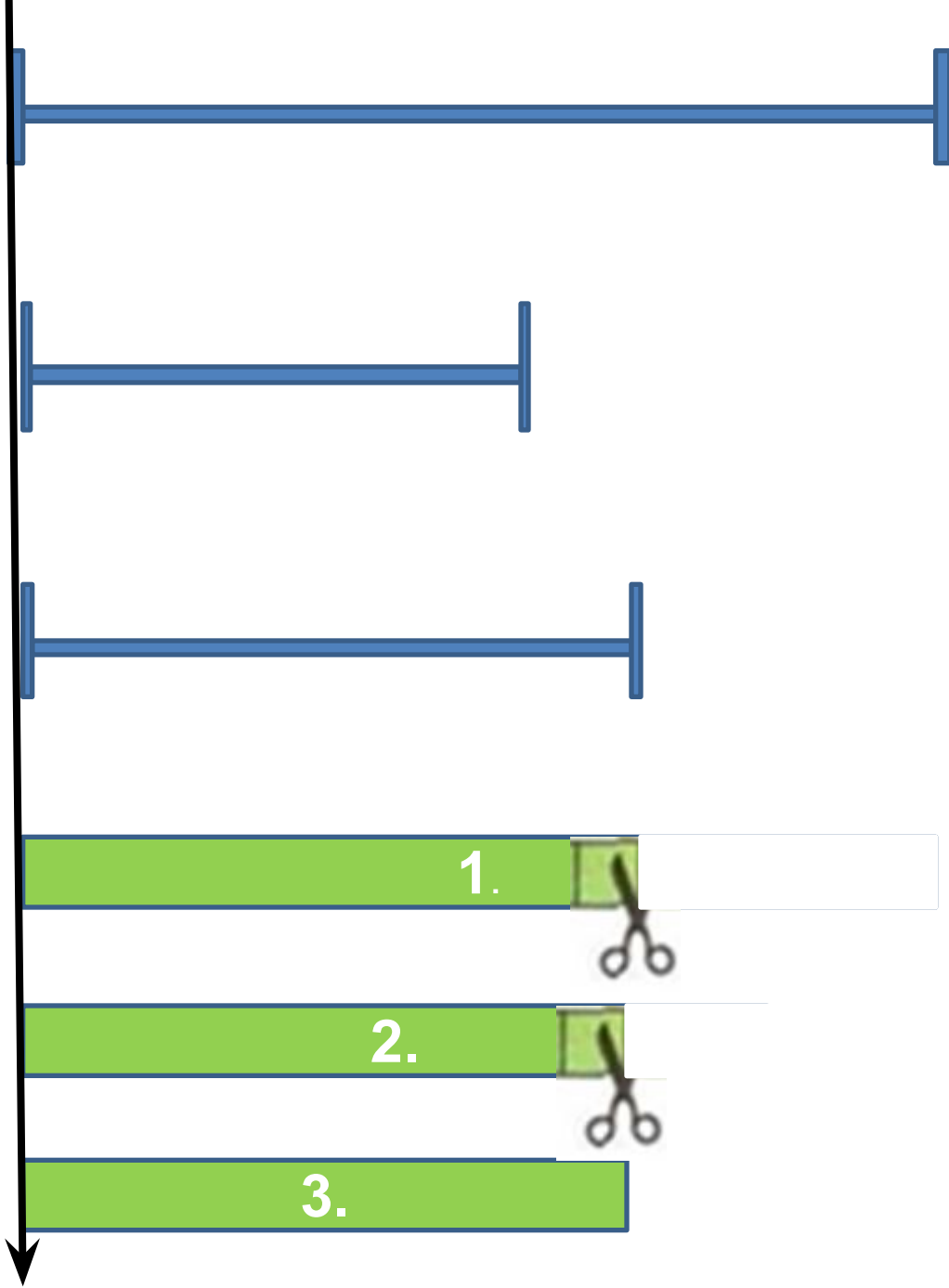
Как можно получить число 3? число 4?

	$1 + 1 = \square$		$4 - 1 = \square$
	$2 + 1 = \square$		$3 - 1 = \square$
	$3 + 1 = \square$		$2 - 1 = \square$


Расскажи по

1) на  
глаз

2)  
наложением



# Длиннее. Короче



Какая полоска короче? Раскрась её.



Заполни таблицу и сравни, кого на рисунке меньше, кого больше.



Кошки	●				
Мышки	▲				

Закрась рамку с правильным ответом.

Кошек МЕНЬШЕ,  
чем мышек.

Мышек МЕНЬШЕ,  
чем кошек.





# Длиннее. Короче



1

2

3

4

5

The image shows a matching exercise. In the center, there are five yellow boxes numbered 1 through 5. To the left and right of these boxes are eight groups of illustrations, each enclosed in a light blue rounded rectangle. Arrows point from the boxes to the illustrations: Box 1 points to a dragonfly; Box 2 points to two butterflies (one pink, one blue); Box 3 points to three ladybugs; Box 4 points to four mushrooms; and Box 5 points to a branch with raspberries. There are also two groups of illustrations on the left side that are not connected to any box: a tulip and two ladybugs.

**Спасибо  
за работу!**