





Урок

МАТЕМАТИКИ



Математику, друзья,
Не любить никак нельзя.
Очень строгая наука,
Очень точная наука -
Это математика



Решите примеры

О $18 \cdot 2 =$

В $90 : 3 =$



О $45 : 9 =$


К $0 \cdot 10 =$

Н $72 : 8 =$

Ё $12 \cdot 2 =$

С $13 \cdot 3 =$





O $18 \cdot 2 = 36$

B $90 : 3 =$


O $45 : 9 =$

K $0 \cdot 10 =$

H $72 : 8 =$

È $12 \cdot 2 =$

C $13 \cdot 3 =$



O $18 \cdot 2 = 36$

B $90 : 3 = 30$


O $45 : 9 =$

K $0 \cdot 10 =$

H $72 : 8 =$

È $12 \cdot 2 =$

C $13 \cdot 3 =$



O $18 \cdot 2 = 36$

B $90 : 3 = 30$


O $45 : 9 = 5$

K $0 \cdot 10 =$

H $72 : 8 =$

È $12 \cdot 2 =$

C $13 \cdot 3 =$



O $18 \cdot 2 = 36$

B $90 : 3 = 30$


O $45 : 9 = 5$

K $0 \cdot 10 = 0$

H $72 : 8 =$

È $12 \cdot 2 =$

C $13 \cdot 3 =$



O $18 \cdot 2 = 36$

B $90 : 3 = 30$

O $45 : 9 = 5$

K $0 \cdot 10 = 0$

H $72 : 8 = 9$

È $12 \cdot 2 =$

C $13 \cdot 3 =$



O $18 \cdot 2 = 36$

B $90 : 3 = 30$

O $45 : 9 = 5$

K $0 \cdot 10 = 0$

H $72 : 8 = 9$

Ë $12 \cdot 2 = 24$

C $13 \cdot 3 =$



O $18 \cdot 2 = 36$

B $90 : 3 = 30$

O $45 : 9 = 5$

K $0 \cdot 10 = 0$

H $72 : 8 = 9$

È $12 \cdot 2 = 24$

C $13 \cdot 3 = 39$





39

O $18 \cdot 2 = 36$

B $90 : 3 = 30$

O $45 : 9 = 5$

K $0 \cdot 10 = 0$


H $72 : 8 = 9$

È $12 \cdot 2 = 24$

C $13 \cdot 3 = 39$



39





39 36

O $18 \cdot 2 = 36$

B $90 : 3 = 30$

O $45 : 9 = 5$

K $0 \cdot 10 = 0$

H $72 : 8 = 9$

È $12 \cdot 2 = 24$

C $13 \cdot 3 = 39$

39 36

C **O**





39 36 30

O $18 \cdot 2 = 36$

B $90 : 3 = 30$

O $45 : 9 = 5$

K $0 \cdot 10 = 0$

H $72 : 8 = 9$

È $12 \cdot 2 = 24$

C $13 \cdot 3 = 39$

39 36 30

C **O** **B**





39 36 30 24

O $18 \cdot 2 = 36$

B $90 : 3 = 30$

O $45 : 9 = 5$

K $0 \cdot 10 = 0$

H $72 : 8 = 9$

Ë $12 \cdot 2 = 24$

C $13 \cdot 3 = 39$

39 36 30 24

C O B Ë





39 36 30 24 9

O $18 \cdot 2 = 36$

B $90 : 3 = 30$

O $45 : 9 = 5$

K $0 \cdot 10 = 0$


H $72 : 8 = 9$

Ë $12 \cdot 2 = 24$

C $13 \cdot 3 = 39$

39 36 30 24 9

C O B Ë H





39 36 30 24 9 5

O $18 \cdot 2 = 36$

B $90 : 3 = 30$

O $45 : 9 = 5$

K $0 \cdot 10 = 0$

H $72 : 8 = 9$

Ë $12 \cdot 2 = 24$

C $13 \cdot 3 = 39$

39 36 30 24 9 5

C **O** **B** **Ë** **H** **O**





39 36 30 24 9 5 0

O $18 \cdot 2 = 36$

H $72 : 8 = 9$

B $90 : 3 = 30$

Ë $12 \cdot 2 = 24$

O $45 : 9 = 5$

C $13 \cdot 3 = 39$

K $0 \cdot 10 = 0$

39 36 30 24 9 5 0

C **O** **B** **Ë** **H** **O** **K**





39 36 30 24 9 5 0

С О В Ё Н О К



Найдите закономерность и
продолжите каждый ряд на
три числа

- а) 5, 10, 15,
- б) 72, 63, 54,
- в) 24, 36, 48,
- г) 9, 18, 27, 36,




Найдите закономерность и
продолжите каждый ряд на
три числа

а) 5, 10, 15,(20,

б) 72, 63, 54,.....

в) 24, 36, 48,.....

г) 9, 18, 27, 36,.....




Найдите закономерность и
продолжите каждый ряд на
три числа

а) 5, 10, 15,(20, 25,

б) 72, 63, 54,.....

в) 24, 36, 48,.....

г) 9, 18, 27, 36,.....




Найдите закономерность и
продолжите каждый ряд на
три числа

а) 5, 10, 15,(20, 25, 30.)

б) 72, 63, 54,.....

в) 24, 36, 48,.....

г) 9, 18, 27, 36,.....




Найдите закономерность и
продолжите каждый ряд на
три числа

а) 5, 10, 15,(20, 25, 30.)

б) 72, 63, 54,.....(45,

в) 24, 36, 48,.....

г) 9, 18, 27, 36,.....




Найдите закономерность и
продолжите каждый ряд на
три числа

а) 5, 10, 15,(20, 25, 30.)

б) 72, 63, 54,.....(45, 36,

в) 24, 36, 48,.....

г) 9, 18, 27, 36,.....




Найдите закономерность и
продолжите каждый ряд на
три числа

а) 5, 10, 15,(20, 25, 30.)

б) 72, 63, 54,.....(45, 36, 27.)

в) 24, 36, 48,.....

г) 9, 18, 27, 36,.....




Найдите закономерность и
продолжите каждый ряд на
три числа

а) 5, 10, 15,(20, 25, 30.)

б) 72, 63, 54,.....(45, 36, 27.)

в) 24, 36, 48,.....(60,

г) 9, 18, 27, 36,.....




Найдите закономерность и
продолжите каждый ряд на
три числа

а) 5, 10, 15,(20, 25, 30.)

б) 72, 63, 54,(45, 36, 27.)

в) 24, 36, 48,(60, 72,

г) 9, 18, 27, 36,




Найдите закономерность и
продолжите каждый ряд на
три числа

а) 5, 10, 15,(20, 25, 30.)

б) 72, 63, 54,.....(45, 36, 27.)

в) 24, 36, 48,.....(60, 72, 84.)

г) 9, 18, 27, 36,.....




Найдите закономерность и
продолжите каждый ряд на
три числа

а) 5, 10, 15,(20, 25, 30.)

б) 72, 63, 54,(45, 36, 27.)

в) 24, 36, 48,(60, 72, 84.)

г) 9, 18, 27, 36,(45,




Найдите закономерность и
продолжите каждый ряд на
три числа

а) 5, 10, 15,(20, 25, 30.)

б) 72, 63, 54,.....(45, 36, 27.)


в) 24, 36, 48,.....(60, 72, 84.)

г) 9, 18, 27, 36,.....(45, 54



Найдите закономерность и
продолжите каждый ряд на
три числа

- а) 5, 10, 15,(20, 25, 30.)
- б) 72, 63, 54,(45, 36, 27.)
- в) 24, 36, 48,(60, 72, 84.)
- г) 9, 18, 27, 36,(45, 54, 63.)





Даны числа: 6, 30, 15






Составь программу действий:

$$a \cdot (b + c) \cdot d - e$$



Составь программу
действий:

$$a \cdot (b + c)^3 \cdot d - e$$






Составь программу действий:

$$m - c \cdot (a + d) + x : b$$



Составь программу действий:


$$m - c \cdot (a + d) + x : b$$





Составь программу действий:

$$(a - b \cdot c) : m + d$$




Составь программу
действий:

$$(a - b^2 \cdot c)^3 : m^4 + d$$






Мы знаем: время растяжимо.
Оно зависит от того,
Какого рода содержимым
Вы наполняете его
Бывают у него застои
А иногда оно течёт
Ненагруженное, пустое
Часов и дней напрасный счёт
Пусть равномерны промежутки,
Что разделяют наши сутки
Но, положив их на весы,
Находим долгие минутки
И очень краткие часы



На какие группы
можно разбить слова:

а) время,
длина,
масса, цвет,
вкус,
объём,
площадь;




На какие группы
можно разбить слова:

а) время, длина,
масса, цвет, вкус,
объём, площадь;




На какие группы
можно разбить слова:

б) час, сутки,
минута,
килограмм,
секунда



На какие группы
можно разбить слова:

б) час, сутки, минута,
килограмм, секунда






Понедельник,
вторник, среда,
четверг, пятница,
суббота,
воскресенье





Дни недели





1 неделя = 7 суток




Единицы времени

1 неделя = 7 суток

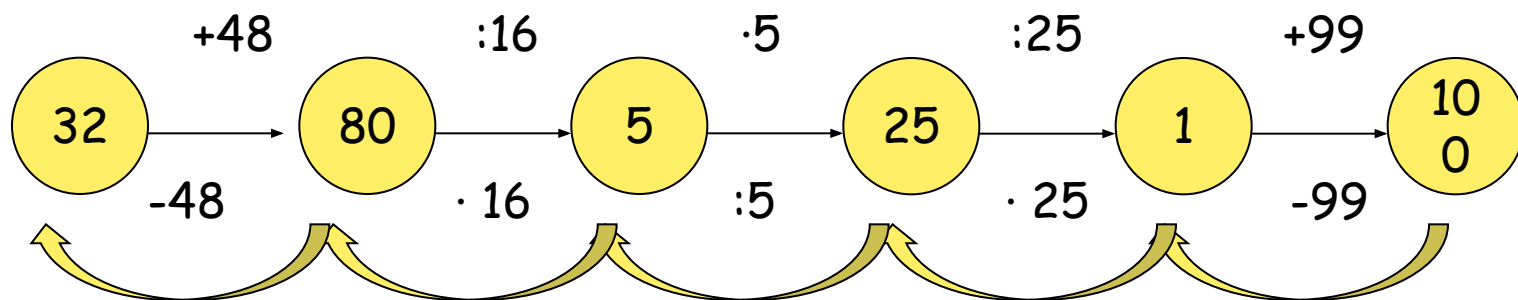
1 сутки = 24 часа

1 час = 60 минут

1 минута = 60 секунд



Найдите значения x :



Найдите значения y :

