



**Таблиці
додавання
і віднімання
чисел
8 і 9.
Розв'язування
задач**





Сьогодні у нас незвичайний

урок

Казка у нас пішить.

Хто ж десь прийде?

З добрим чи злом?

Ми відповісти повинні.

Старенька жила у краю лісу

жила,

Гостинці для неї вона несла.

Вовк десь цю дорозі

зустрів

Як казка ця називається?





Пригадай Азбуку наесться

куи каи?





Будинчик побудуємо ми
Чому саме так розмістився
самі
числа?



1,3,5,7,9

2,4,6,8,10

Гра «Скільки пиріжків несла Червона Шапочка?»

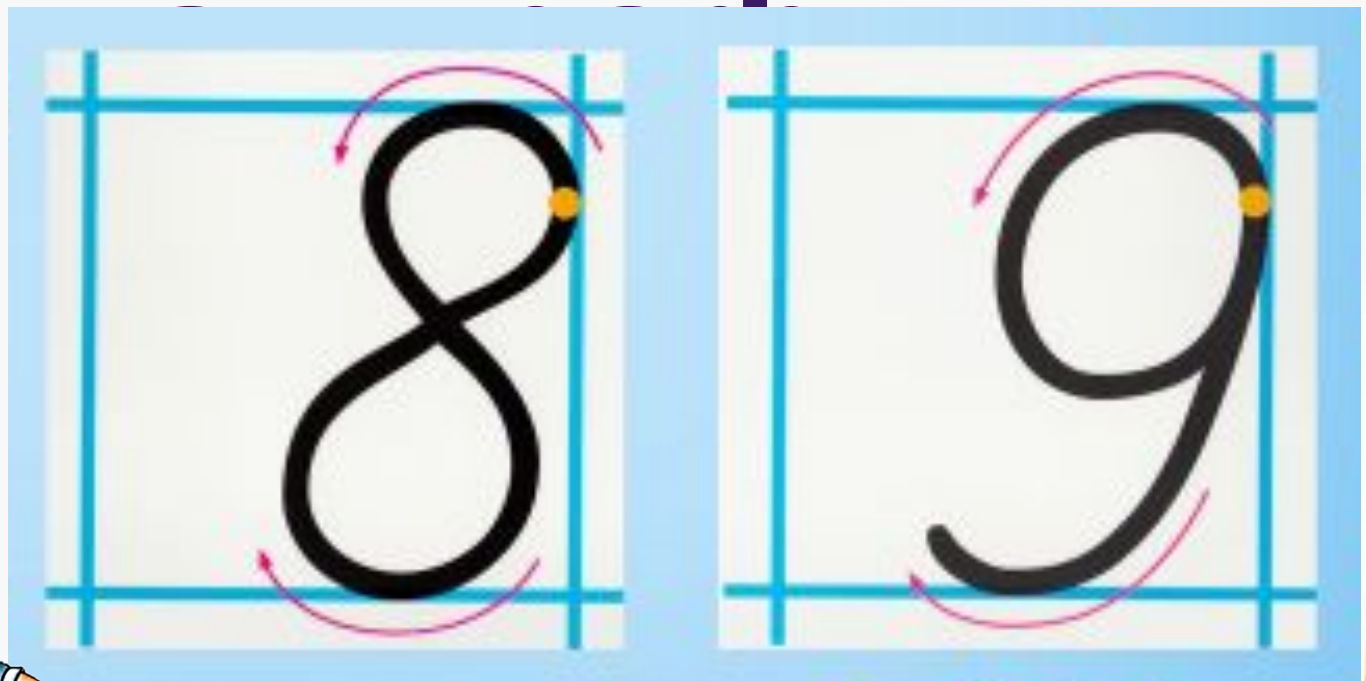


10



Хвилинка

■ ■ ■ ■ ■





Таблиці додавання і віднімання числа

$$1 + 8 = 9 \quad 8 \quad 9 - 8 = 1$$

$$2 + 8 = 10 \quad 10 - 8 = 2$$





Таблиці додавання і віднімання числа

$$1+9=10^9 \quad 10-9=1$$





5c


M


1c

M

3c

M





С. 78, завдання

2





**Ось і закінчується діс,
Самостійна робота,
неподалік
завдання
бабучина хатинка, та щоб до
варіант 1 рядок**



**І варіант 2 рядок
дістатися, необхідно
виконати
завдання**

Скільки років живе хом'як?
Задача 4





Накресліть два
На скільки довжина
другого відрізка
менша,
ніж довжина
першого?

10с

М
8с





Чи сподобавось вам
які завдання були
найважливіші?
Жували кісочку із червоною
шапочкою?







