



Учитель математики
МОУ СОШ №73 им.А.Ф.Чернонога

**ОСИНА
АЛЕКСАНДРА
ВЛАДИМРОВНА**

Если вы верно найдете значения выражений и расположите однозначные ответы в порядке убывания, то сможете прочитать тему урока...

$15 \cdot 11$

А

$24 \cdot 3$

З

$0 \cdot 17$

И

$125 \cdot 8$

К

$25 \cdot 9 \cdot 4$

М

ОТВЕТ: _____

$520 : 10$

О

$64 : 32$

Л

$51 : 17$

О

$40 \cdot 60$

Т

$1000 : 125$

Д



Вы правы.



Тема урока:

**ДОЛИ.
ОБЫКНОВЕННЫЕ
ДРОБИ.**

Схема

<u>5</u>	<u>числитель</u>	<u>Сколько?</u>
8	знаменатель	Каких?

Закрасьте... и сделайте ВЫВОД








■ 2

■ 4





4

8

- Закрасьте половину, четверть, третью часть.



- Разбейте фигуру на части и закрасьте ее часть, записав в тетради соответствующие дроби.



Решите задачи № 884, 885, 888 (устно), 889

- Домашнее задание: выучить правила,
- № 925, 927 (а), 937
- из учебника Н.Я. Виленкин, В.И. Жохов, А. С. Чесноков, С.И. Шварцбург «Математика 5 класс»