



Доли, дроби.  
4 класс



# Секретные сообщения

## *Сообщение 1*

**Заполните пропуски.**

**Числитель стоит \_\_\_\_\_ чертой и означает, сколько равных частей \_\_\_\_\_ от целого.**

**Знаменатель стоит \_\_\_\_\_ чертой и показывает, на сколько равных частей \_\_\_\_\_ целое.**



# Заполните пропуски

... в поле не воин  
У ... нянек дитя без глазу

Скупой платит ...  
— Не имей ... рублей, а имей ...  
друзей

... блин комом  
... сапога – пара



# Заполните пропуски

Заблудиться в ... соснах

Конь на ... ногах, да и то

спотыкается

Старый друг лучше новых

...

Обещанного ... года ждут

Знаю как свои ...



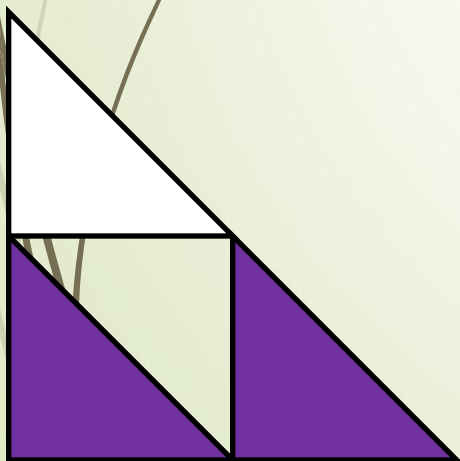
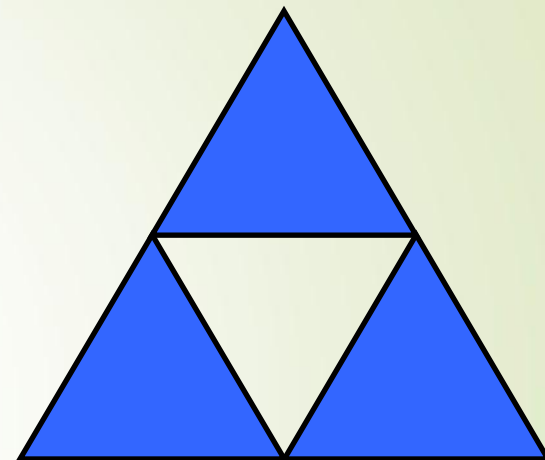
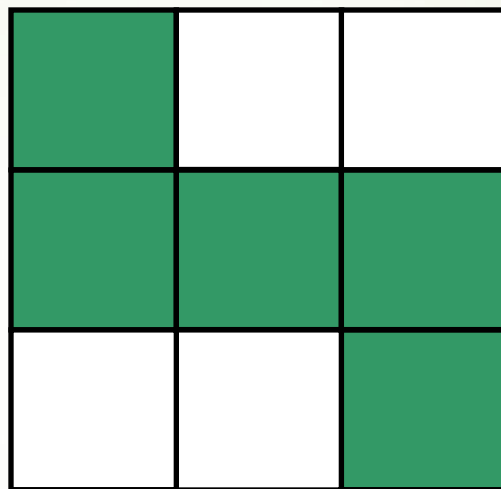

пальцев


Лук от ... недуг

Хвостуну цена - ... копейки

Лучше один раз увидеть, чем ... раз  
услышать

Какая часть фигуры  
закрашена?





*Прочти дроби, назови доли.*

$$\frac{2}{5}; \frac{4}{5}; \frac{7}{6}; \frac{1}{4}; \frac{17}{15}; \frac{1}{2}; \frac{12}{5}; \frac{5}{6}; \frac{6}{5}$$

Как найти пятую часть часа?

$$60 : 5 = 12$$

Какую часть часа составляет 15 минут?

$$60 : 15 = 4$$

$$4000 : 80 = ?$$

Как найти вторую часть века?

Сколько планет в нашей Солнечной системе?

9 планет

